

حاضر ☐

غائب ☐



سَلْطَنَةُ عُمَانِ  
وَزَارَةُ التَّوْزِيَةِ وَالْتَّعْلِيمِ

امتحان شهادة دبلوم التعليم العام  
للعام الدراسي ١٤٣٣/١٤٣٤ هـ - ٢٠١٢ / ٢٠١٣ م  
الدور الثاني - الفصل الدراسي الثاني

رقم الورقة	
رقم المغلف	

- زمن الإجابة: ثلاث ساعات.
- الإجابة في الورقة نفسها.

- تنبيه: المادة: التاريخ (العالم من حولي).
- الأسئلة في ( ٩ ) صفحات.

تعليمات وضوابط التقدم للامتحان:

- الحضور إلى اللجنة قبل عشر دقائق من بدء الامتحان لأهمية.
- إبراز البطاقة الشخصية لمراقب اللجنة.
- يمنع كتابة رقم الجلوس أو الاسم أو أي بيانات أخرى تدل على شخصية الممتحن في دفتر الامتحان، وإلا ألغي امتحانه.
- يحظر على الممتحنين أن يصطحبوا معهم بمركز الامتحان كتباً دراسية أو كراسات أو مذكرات أو هواتف محمولة أو أجهزة النداء الآلي أو أي شيء له علاقة بالامتحان كما لا يجوز إدخال آلات حادة أو أسلحة من أي نوع كانت أو حقائب يدوية أو آلات حاسبة ذات صفة تخزينية.
- يجب أن يتقيد المتقدمون بالزي الرسمي (الدشداشة البيضاء والمصر أو الكمة للطلاب والدارسين والزي المدرسي للطالبات واللباس العماني للدارسات ) ويمنع النقاب داخل المركز ولجان الامتحان.
- لا يسمح للمتقدم المتأخر عن موعد بداية الامتحان بالدخول إلا إذا كان التأخير بعذر قاهر يقبله رئيس المركز وفي حدود عشر دقائق فقط.
- يتم الالتزام بالإجراءات الواردة في دليل الطالب لأداء امتحان شهادة دبلوم التعليم العام.
- يقوم المتقدم بالإجابة عن أسئلة الامتحان المقالية بقلم الحبر (الأزرق أو الأسود).
- يقوم المتقدم بالإجابة عن أسئلة الاختيار من متعدد بتظليل الشكل ( ☐ ) وفق النموذج الآتي:
- س - عاصمة سلطنة عمان هي:  
☐ القاهرة ☐ الدوحة  
☒ مسقط ☐ أبوظبي
- ملاحظة: يتم تظليل الشكل ( ☒ ) باستخدام القلم الرصاص وعند الخطأ، امسح بعناية لإجراء التغيير.
- صحيح ☒ غير صحيح ☐ ☒ ☐ ☒ ☐

## أجب عن جميع الأسئلة الآتية

### السؤال الأول:

ظّل الشكل (○) المقترن بالإجابة الصحيحة لكل مفردة من المفردات (١-١٤) الآتية:

(١) صاحب كتاب تكوين أوروبا:

- كرسنوفر دوسن.      ○ سامويل هنتنجنون.  
○ أنطونيو بالديزون.      ○ نيكولاس هاريسين.


(٢) الدولة التي ينتمي إليها الكاتب الذي روج لفكرة صدام الحضارات:

- بريطانيا.      ○ فرنسا.  
○ روسيا.      ○ أمريكا.

(٣) السفينة العمانية التي حصلت على المركز الأول في مسابقات دولية عدة للسفن الشراعية:

- فلك السلامة.      ○ سلطنة.  
○ شباب عمان.      ○ صحار.

(٤) الشكل الذي يوضح أحد مكونات شعار مؤتمر " قمة المعلومات " هو:



(٥) العام الميلادي الذي أصدرت فيه منظمة اليونسكو اتفاقية حماية التراث الثقافي والطبيعي:

- ١٩٧٠      ○ ١٩٧١  
○ ١٩٧٢      ○ ١٩٧٣

## تابع: السؤال الأول:

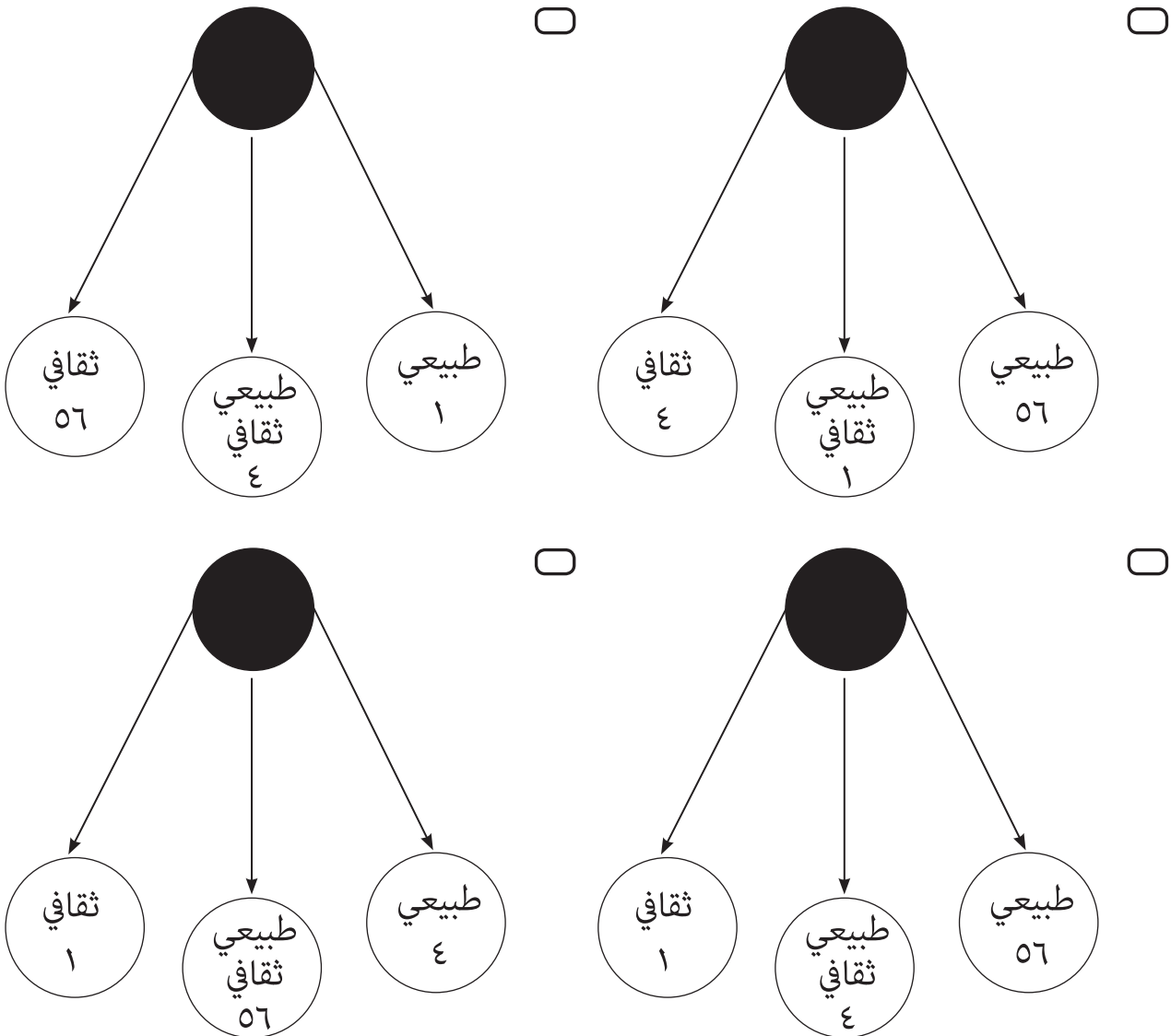
(٦) تنتشر أشجار اللبان على مساحات كبيرة منذ القدم في:

- ☐ وادي دوكة. ☐ البليد.
- ☐ خور روري. ☐ وبار.

(٧) يعد أحد شروط الحوار الناجح:

- ☐ التكافؤ والمساواة والندية بين الأطراف. ☐ تقريب وجهات النظر بين المتحاورين.
- ☐ إيجاد حل وسط يرضي كل الأطراف. ☐ الاستماع إلى وجهات النظر المختلفة.

(٨) الشكل الصحيح لتوزيع (٦١) موقعا عربيا ضمن قائمة التراث العالمي حتى يناير ٢٠٠٦ م هو:



## تابع: السؤال الأول:

٩) العلم الذي برع فيه سكان حضارة المايا:

- ☐ الفلسفة. ☐ الطب.
- ☐ اللغة. ☐ الرياضيات.

١٠) أحد القرارات الصادرة عن مؤتمر لاهاي عام ١٩٥٤م لحماية الممتلكات الثقافية:

- ☐ التقليل من النزاع المسلح. ☐ الحد من السياحة العشوائية.
- ☐ التقليل من التلوث البيئي. ☐ الحد من الكوارث الطبيعية.

١١) الدولة التي تأتي في المرتبة الثانية على مستوى العالم في إنشاء الشبكات العملاقة للاتصالات:

- ☐ بريطانيا. ☐ اليابان.
- ☐ الصين. ☐ أمريكا.

١٢) الرمز المختصر الذي يشير إلى الهيئة الحكومية الدولية المعنية بتغير المناخ هو:

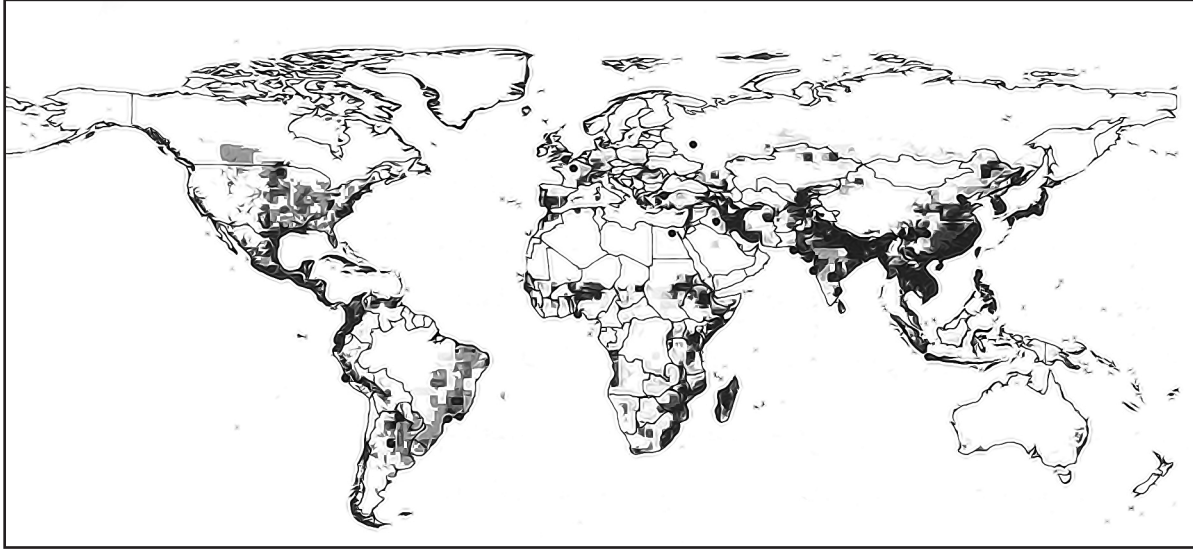
- ☐ IPCC ☐ WMO
- ☐ UNDP ☐ MCD


١٣) الاتفاقيات التي تم إقرارها في برنامج القرن الواحد والعشرين يمثلها الجدول:

<input type="checkbox"/>	التنوع الحيوي	<input type="checkbox"/>	مجتمع المعلومات
	التغيرات المناخية		التصحّر
	حماية التراث		التنوع الحيوي
<input type="checkbox"/>	التصحّر	<input type="checkbox"/>	التصحّر
	النفائات الخطيرة		التنوع الحيوي
	التغيرات المناخية		التغيرات المناخية

## تابع: السؤال الأول:

(١٤) ادرس خريطة العالم الآتية، ثم اختر المفتاح المناسب لها والذي يوضح المناطق الأكثر والأقل عرضة للأخطار المناخية:



- |  |  |
|--|--|
| <input type="radio"/>  أخطار كثيرة.  | <input type="radio"/>  أخطار كثيرة.  |
| <input type="radio"/>  أخطار قليلة. | <input type="radio"/>  أخطار قليلة. |
| <input type="radio"/>  أخطار كثيرة. | <input type="radio"/>  أخطار كثيرة. |
| <input type="radio"/>  أخطار قليلة. | <input type="radio"/>  أخطار قليلة. |

السؤال الثاني:

(١٥) انسب كراسي جلالة السلطان قابوس إلى المجالات الآتية ( الاستزراع الصحراوي - الدراسات العربية - تقنية المعلومات - إدارة المياه والتنوع الاقتصادي ) في الجدول الآتي:

المجال	الكرسي
	كرسي السلطان قابوس بجامعة الهندسة والتكنولوجيا الباكستانية.
	كرسي السلطان قابوس بجامعة الخليج العربي.
	كرسي السلطان قابوس بجامعة اترخت الهولندية.
	كرسي السلطان قابوس بجامعة بكين الصينية.

(١٦) فسر أهمية كل من:

أ. قبة جيناكو.

---



---

ب. قبة الألفية.

---



---

(١٧) " تشتد الحاجة اليوم إلى حوار الثقافات، وبإمكان الأمم المتحدة أن تكون الموطن الحقيقي لهذا الحوار ". في ضوء العبارة السابقة أجب عن السؤالين الآتيين:

أ. لماذا اكتسبت الأمم المتحدة أهمية أن تكون الموطن الحقيقي للحوار بين الثقافات؟

---



---

ب. ما العام الميلادي الذي أعلنته الأمم المتحدة عاماً لحوار الثقافات؟

---



---

تابع: السؤال الثاني:

١٨) سم ثلاثاً من أوراق العمل التي تمت مناقشتها في الندوة الدولية بعنوان الحوار بين الحضارات والثقافات في سلطنة عمان.

---



---



---

السؤال الثالث:

١٩) قارن بين الحوار السياسي والحوار الاقتصادي من حيث الأهداف في الجدول أمامك.

الحوار الاقتصادي	الحوار السياسي

٢٠) "عملت اليونسكو على ربط مسألة حماية التراث العالمي بالسلام" طبق هذه العبارة بمثال على الولايات المتحدة الأمريكية وكندا.

---




---



---

## تابع: السؤال الثالث:

(٢١) الشكل الذي أمامك يمثل أحد مواقع التراث العالمي، تأمله جيدا ثم أجب عن الأسئلة التي تليه:



أ. ما اسم الموقع الذي يمثله الشكل؟

ب. بم تفسر وجود التماثيل في الموقع؟

(٢٢) " تعد السلطنة من الدول المجيدة في مجال الاهتمام بظاهرة الاحتباس الحراري وتغير المناخ".  
دلل على صحة العبارة السابقة.

(٢٣) " تمثل الأهداف الإنمائية للألفية الثالثة نسيجاً متكاملًا بحيث يسعى العالم لتحقيقه بحلول عام ٢٠١٥م ". في ضوء فهمك للعبارة أجب عن السؤالين الآتيين:

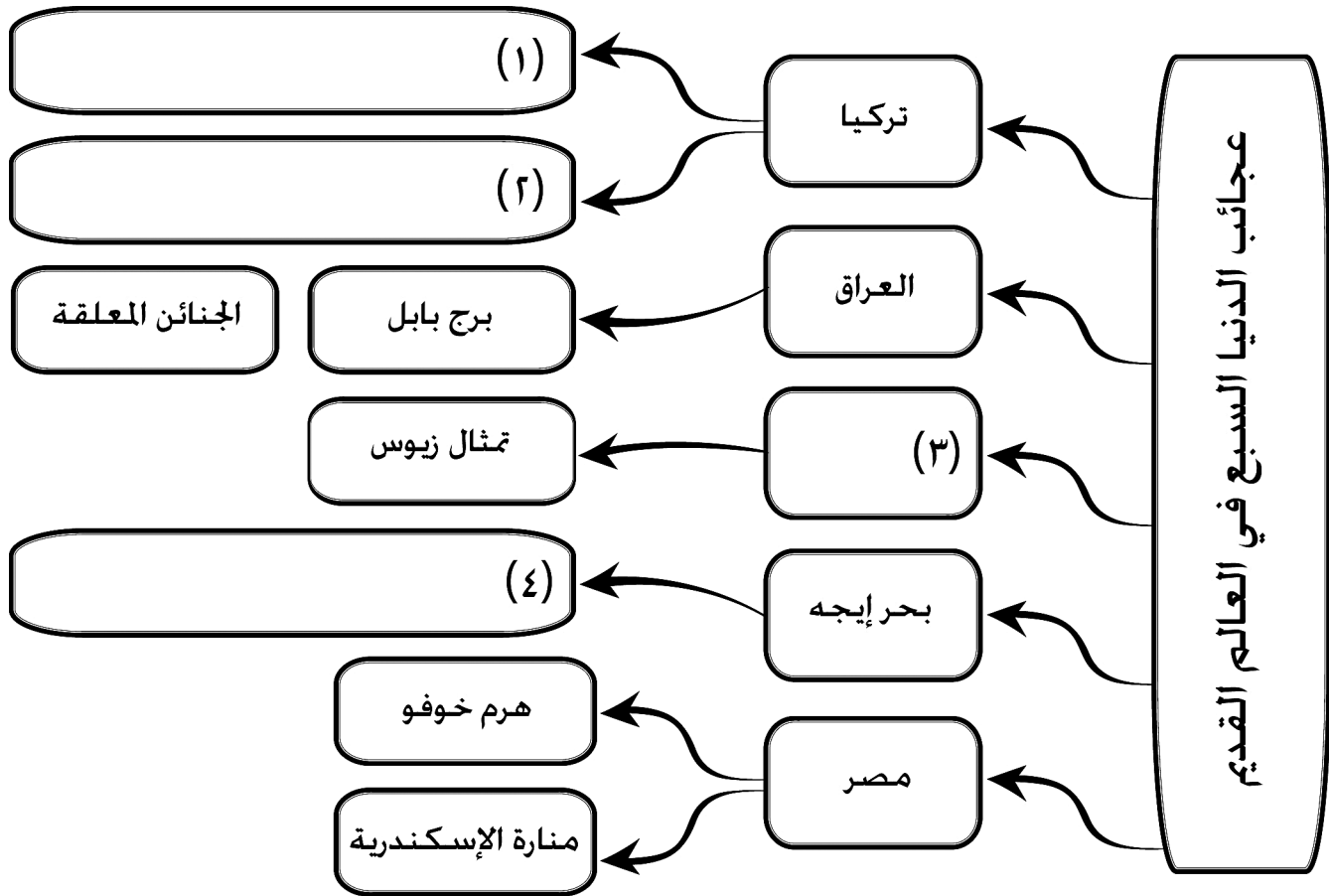
أ. ما القارة التي لن تتمكن من تحقيق بعض هذه الأهداف؟

ب. اذكر هدفين من أهداف الألفية الثالثة.



## السؤال الرابع:

(٢٤) ادرس الشكل الآتي ثم اكتب بجوار كل رقم الاجابة الصحيحة:



(٢٥) " تسعى سلطنة عمان لنشر المعرفة الرقمية في القطاعات المختلفة للمجتمع العماني ليصبح مجتمعا رقميا". في ضوء العبارة أجب عن السؤالين الآتيين:

أ. كيف يمكن تطوير التعليم عن بعد في السلطنة؟

---



---

ب. ما التحديات التي تواجه قطاع الاتصالات وتكنولوجيا المعلومات في سلطنة عمان؟

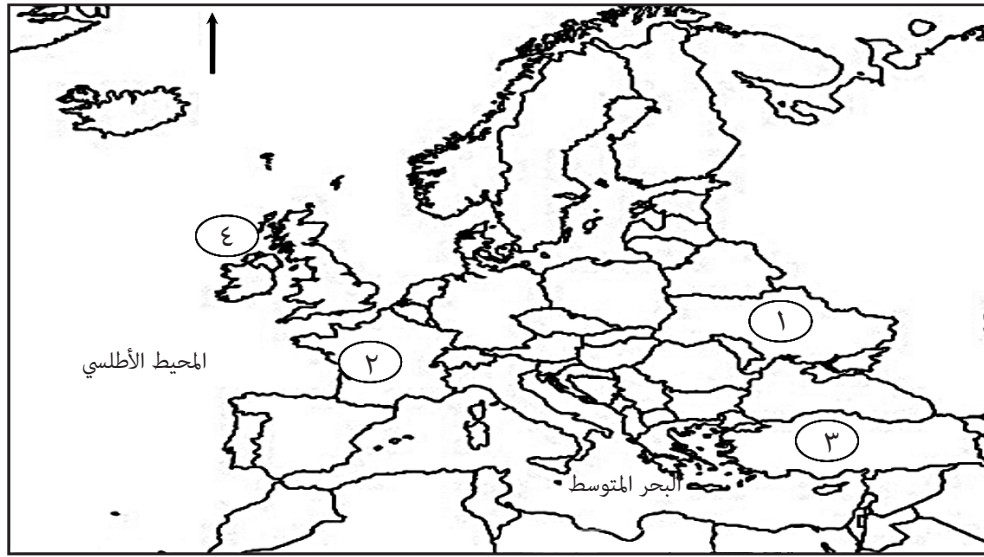
---



---

## تابع السؤال الرابع:

(٢٦) ادرس خريطة أوروبا الآتية، ثم اجب عن الأسئلة التي تليها:



- أ. اكتب على الخريطة اسم الدولة التي عقد فيها مؤتمر الحضارة العربية والإسلامية والغرب عام ٢٠٠٤م.
- ب. ظلل على الخريطة الدولة التي عقدت فيها قمة مجتمع المعلومات عام ٢٠٠٣م.
- ج. ما الرقم الذي يشير إلى الدولة التي قامت بإهداء تمثال الحرية إلى أمريكا ؟
- د. في أيّ جهة من البحر المتوسط تقع الدولة التي يوجد فيها برج بيزا ؟

(٢٧) يقول خوليو ماغالهايش: " يعتبر الحوار الأفضل للوصول إلى عالم أكثر إنسانية وتضامنا، وخاصة في أيامنا الحاضرة مع ظهور العولمة والصدام الحضاري"

استنتج مجال الحوار من وجهة نظر الكاتب في الفقرة السابقة.

انتهت الأسئلة، مع تمنياتنا لكم بالتوفيق والنجاح.

مدرسة ولاية بديد - مركز مصادر التعلم -  
مدونة فيض المصادر

# مُسَوِّدَة

لا تكتب في هذا الجزء


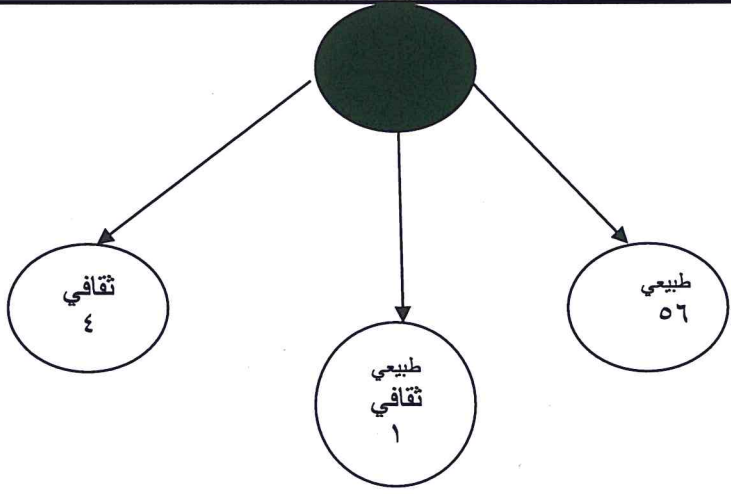
# مُسَوِّدَة

نموذج إجابة امتحان شهادة دبلوم التعليم العام  
العام الدراسي ١٤٣٣/١٤٣٤ هـ - ٢٠١٢/٢٠١٣ م  
الدور الثاني - الفصل الدراسي الثاني

الدرجة الكلية: ( ٧٠ ) درجة

المادة: العالم من حولي  
تنبيه: نموذج الإجابة في ( ١١ ) صفحة

أولاً: إجابة السؤال الموضوعي ( ٢٨ درجة ):-

المفردة	الإجابة	الدرجة	الصفحة
١	كرستوفر دوسن	٢	١٦٠
٢	أمريكا	٢	١٥١
٣	شباب عمان	٢	١٥٥
٤		٢	٢٠٩
٥	١٩٧٢	٢	١٧٠- ١٨٣-١٧٤
٦	وادي دوكة	٢	١٩٩
٧	التكافؤ والمساواة والندية بين الأطراف.	٢	١٤٠
٨		٢	١٧٣

مدرسة ولاية بدبد - مركز مصادر التعلم -  
مدونة فيض المصادر

(٢)  
 تابع نموذج إجابة امتحان شهادة دبلوم التعليم العام  
 للعام الدراسي ١٤٣٣/١٤٣٤ هـ - ٢٠١٢/٢٠١٣ م  
 الدور الثاني - الفصل الدراسي الثاني  
 المادة: العالم من حولي

تابع أولاً: إجابة السؤال الموضوعي:-

المفردة	الإجابة	الدرجة	الصفحة
٩	الرياضيات	٢	١٨٠
١٠	التقليل من النزاع المسلح	٢	١٨٩
١١	الصين	٢	٢١٦
١٢	IPCC	٢	٢٢٩
١٣	التصحر	٢	٢٢٣
	التنوع الحيوي		
	التغيرات المناخية		
١٤	<div>أخطار كثيرة</div> <div>أخطار قليلة</div>	٢	٢٢٩



**ثانياً: إجابة الأسئلة المقالية:-**

الجزئية	المفردة	الإجابة الصحيحة	الدرجة	الصفحة										
15		<table><tr><th>الكرسي</th><th>المجال</th></tr><tr><td>كرسي السلطان قابوس بجامعة الهندسة والتكنولوجيا الباكستانية.</td><td>تقنية المعلومات</td></tr><tr><td>كرسي السلطان قابوس بجامعة الخليج العربي.</td><td>الاستزراع الصحراوي</td></tr><tr><td>كرسي السلطان قابوس بجامعة اترخت الهولندية.</td><td>إدارة المياه والتنوع الاقتصادي</td></tr><tr><td>كرسي السلطان قابوس بجامعة بكين الصينية.</td><td>الدراسات العربية</td></tr></table>	الكرسي	المجال	كرسي السلطان قابوس بجامعة الهندسة والتكنولوجيا الباكستانية.	تقنية المعلومات	كرسي السلطان قابوس بجامعة الخليج العربي.	الاستزراع الصحراوي	كرسي السلطان قابوس بجامعة اترخت الهولندية.	إدارة المياه والتنوع الاقتصادي	كرسي السلطان قابوس بجامعة بكين الصينية.	الدراسات العربية	٤ درجات لكل مفردة درجة	١٥٥-١٥٦
			الكرسي	المجال										
			كرسي السلطان قابوس بجامعة الهندسة والتكنولوجيا الباكستانية.	تقنية المعلومات										
			كرسي السلطان قابوس بجامعة الخليج العربي.	الاستزراع الصحراوي										
			كرسي السلطان قابوس بجامعة اترخت الهولندية.	إدارة المياه والتنوع الاقتصادي										
			كرسي السلطان قابوس بجامعة بكين الصينية.	الدراسات العربية										
يعطى الطالب درجة واحدة لكل مفردة صحيحة		المعيار												
٤-٣-٢-١-٠		مفتاح التصحيح												

الجزئية	المفردة	الإجابة الصحيحة	الدرجة	الصفحة
١٦	أ	<ul style="list-style-type: none"> <li>- تعتبر من المواقع العالمية ضمن قائمة التراث العالمي.</li> <li>- تعتبر أحد رموز السلام العالمي.</li> <li>- المعلم الوحيد المتبقي إثر إلقاء القنبلة الذرية على مدينة هيروشيما (اليابان) رغم قربها من مركز الانفجار.</li> <li>- تعتبر منتزها ونصباً تذكاريًا للسلام.</li> <li>- تعتبر نموذجاً يحذر الأجيال القادمة من ويلات الحروب ومخاطرها.</li> </ul>	٢	١٩٠
	ب	<ul style="list-style-type: none"> <li>- شيدت تخليداً لذكرى الألفية الثانية.</li> <li>- تعتبر أحد عجائب العصر الحديث.</li> <li>- تعتبر أعجوبة من عجائب الهندسة المدنية.</li> <li>- تعتبر تحفة معمارية في العصر الحديث.</li> <li>- تعتبر من معالم شبه جزيرة جرينتش /بريطانيا.</li> </ul>	٢	٢٣٦
المعيار		لكل تفسير يقدمه الطالب درجتان ويكتفى بذكر تفسير واحد فقط لكل مفردة		
مفتاح التصحيح		<p>مدرسة ولاية بدير (مركز مصادر التعلم -</p> <p>مدونة فيض المصادر</p>		

(٤)  
تابع نموذج إجابة امتحان شهادة دبلوم التعليم العام  
للعام الدراسي ١٤٣٣/١٤٣٤ هـ - ٢٠١٢/٢٠١٣ م  
الدور الأول - الفصل الدراسي الثاني  
المادة: العالم من حولي

تابع: السؤال الثاني :

الصفحة	الدرجة	الإجابة الصحيحة	المفردة	الجزئية
١٦١	٢	<ul style="list-style-type: none"> <li>- لأنها مظلة لدول العالم .</li> <li>- لأنها المنتدى الذي يمكن أن يزدهر فيه هذا الحوار ويأتي ثماره في كل ميدان من ميادين الحياة .</li> <li>- لأنها الجسر الرئيسي للتعاون الدولي .</li> <li>- لأنها تضم هيئات ومنظمات تابعة لها مثل اليونسكو .</li> </ul> <p>يكتفى بواحدة فقط .</p>	أ	١٧
١٦٢	١	٢٠٠١م	ب	
<p>أ. (٢ - ٠) ب. (١ - ٠)</p>				مفتاح التصحيح

الصفحة	الدرجة	الإجابة الصحيحة	المفردة	الجزئية
١٦٣ - ١٦٤	٣ درجات لكل مفردة درجة واحدة فقط	<ul style="list-style-type: none"> <li>- التنوع الثقافي وحوار الثقافات والحضارات .</li> <li>- التنوع الثقافي والتنافس بين الحضارات .</li> <li>- حوار الحضارات - الثقافة الاجتماعية .</li> <li>- التنوع الثقافي ومسألة قبول الآخر والاعتراف به .</li> <li>- دور هيئات المجتمع المدني في تعزيز ثقافة الحوار .</li> <li>- المنظور الإسلامي وتطبيقاته في حوار الحضارات والثقافات</li> <li>- أصول ثقافة الحوار وضوابطه في الفكر العربي.</li> </ul>		١٨
		<p>يشترط كتابة اسم ورقة العمل صحيحا ليأخذ الطالب الدرجة كاملة أما في حالة أشار الطالب إلى جزء من مسميات أوراق العمل يعطى نصف الدرجة .</p>		المعيار
٣-٢.٥-٢-١.٥-١.٥-٠.٥-٠				مفتاح التصحيح



(٥)  
**تابع نموذج اجابة امتحان شهادة دبلوم التعليم العام**  
**للعام الدراسي ١٤٣٣/١٤٣٤ هـ - ٢٠١٢ / ٢٠١٣ م**  
**الدور الثاني - الفصل الدراسي الثاني**  
**المادة: العالم من حولي**

السؤال الثالث : (١٤ درجة) :-

الجزئية	المفردة	الإجابة الصحيحة		الدرجة	الصفحة
١٩		الحوار السياسي	الحوار الاقتصادي	درجتان لكل مفردة درجة واحدة فقط	١٤٦ - ١٤٧
		<ul style="list-style-type: none"><li>- يهدف الحوار السياسي إلى :</li><li>- احترام قواعد القانون الدولي.</li><li>- الالتزام بالشرعية الدولية.</li><li>- إقامة العلاقات الثنائية بين الدول.</li><li>- تعزيز الاحترام المتبادل بين الدول.</li><li>- عدم التدخل في الشؤون الداخلية.</li><li>- العمل على استتباب الأمن والسلام في العالم .</li><li>- محاربة الإرهاب.</li><li>- دعم حق الشعوب في الدفاع عن سيادتها وتحرير أراضيها .</li><li>- عقد الندوات -المؤتمرات - المعارض - المنتديات - الاتفاقيات- حلقات النقاش الاقتصادية.</li><li>- ترسيم الحدود بين الدول</li></ul>	<ul style="list-style-type: none"><li>- يهدف الحوار الاقتصادي إلى :</li><li>- تطوير العلاقات التجارية بين الدول.</li><li>- احترام القوانين الدولية الاقتصادية .</li><li>- تحقيق المصالح الاقتصادية المشتركة.</li><li>- دعم جهود التنمية الشاملة والمتكاملة خصوصا في الدول النامية.</li><li>- منع الاحتكار والاستغلال واستنزاف الموارد الطبيعية والأولية للدول.</li><li>- إقامة أسس جديدة للتجارة الدولية لضمان العدل والإنصاف.</li><li>- عقد الندوات -المؤتمرات - المعارض - المنتديات - الاتفاقيات- حلقات النقاش السياسية.</li></ul>		
المعيار		يكتفى بذكر هدف واحد لكل مجال، ويؤخذ بأسلوب الطالب إذا كان صحيحا ضمن سياق الأهداف السابقة.			
مفتاح التصحيح		مدرسة ولاية بديد - مركز مصادر التعلم - مدونة فيض المصادر			

تابع نموذج إجابة امتحان شهادة دبلوم التعليم العام  
للعام الدراسي ١٤٣٣/١٤٣٤ هـ - ٢٠١٢ / ٢٠١٣ م  
الدور الثاني - الفصل الدراسي الثاني  
المادة: العالم من حولي

تابع السؤال الثالث :-

الجزئية	المفردة	الإجابة الصحيحة	الدرجة	الصفحة
٢٠		إدراج منتزه ووترتون الجليدي ضمن قائمة التراث العالمي .	٢	١٩٠
مفتاح التصحيح				( ٢ - ٠ )

الجزئية	المفردة	الإجابة الصحيحة	الدرجة	الصفحة
٢١	أ	ضريح أول أباطرة أسرة أن كين في الصين.	٢	١٨٠
المعيار				إذا ذكر الطالب ضريح/ أول أباطرة الصين / أسرة أن كين يأخذ درجة واحدة فقط .
مفتاح التصحيح				٢-١-٠

الجزئية	المفردة	الإجابة الصحيحة	الدرجة	الصفحة
٢١	ب	يعتقد بأنها تحمي الإمبراطور . ملاحظة : إذا ذكر الطالب الإيمان بالبعث أو اليوم الآخر يعطى درجة واحدة فقط.	٢	١٨٠
مفتاح التصحيح				٢-١-٠

يتبع/٧

مدرسة ولاية بدبد - مركز مصادر التعلم -  
مدونة فيض المصادر

تابع نموذج إجابة امتحان شهادة دبلوم التعليم العام  
للعام الدراسي ١٤٣٤/١٤٣٣ هـ - ٢٠١٢ / ٢٠١٣ م  
وزارة التعليم العالي والبحث العلمي  
الجامعة الأردنية  
المصادة: العالم من حولي

تابع: السؤال الثالث :-

الجزئية	المفردة	الإجابة الصحيحة	الدرجة	الصفحة
٢٢		<ul style="list-style-type: none"> <li>- توقيع سلطنة عمان بروتوكول كيوتو.</li> <li>- إصدار المرسوم السلطاني رقم ١٠٧ عام ٢٠٠٤ م.</li> <li>- انتخاب السلطنة نائباً للرئيس في المؤتمر الخاص باتفاقية الأمم المتحدة بشأن تغير المناخ الذي عقد في نيروبي بكينيا عام ١٩٨٢ م.</li> <li>- مشاركتها في مناقشات واجتماعات الاتفاقية الإطارية بشأن التغير المناخي</li> <li>- تنسيق المواقف بين الدول الأطراف الآسيوية بالذات ضمن الاتفاقية الإطارية بشأن تغير المناخ .</li> <li>- إعداد البلاغات الوطنية ونقل التكنولوجيا وبناء القدرات وتنميتها في الجوانب المتعلقة بتغير المناخ .</li> <li>- إنشاء وزارة البيئة – إنشاء جائزة السلطان قابوس للبيئة .</li> </ul>	٢	٢٣٢- ٢٣٣
المعيار		يكتفى بذكر برهان واحد وله درجتان		
مفتاح التصحيح		٢-٠		

الجزئية	المفردة	الإجابة الصحيحة	الدرجة	الصفحة
٢٣	أ	قارة أفريقيا	٢	٢٤٣
مفتاح التصحيح		٢-٠		

الجزئية	المفردة	الإجابة الصحيحة	الدرجة	الصفحة
٢٣	ب	<ul style="list-style-type: none"> <li>- تحقيق التعليم الابتدائي</li> <li>- تحقيق المساواة بين الجنسين</li> <li>- تخفيض معدل وفيات الأطفال</li> <li>- تحسين الصحة النفاسية ( صحة الأم )</li> <li>- مكافحة فيروس نقص المناعة المكتسب (الإيدز - السيدا ) والمalaria.</li> <li>- التنمية المستدامة للبيئة .</li> <li>- القضاء على الفقر والجوع .</li> </ul>	درجتان لكل هدف درجة واحدة فقط	٢٤٠
المعيار		يكتفى بذكر هدفين لكل هدف درجة واحدة فقط - مدرسة ولاية بديد - مركز مصادر التعلم - مدونة فيض المصادر		
مفتاح التصحيح				



(٨)  
تابع نموذج إجابة امتحان شهادة دبلوم التعليم العام  
للعام الدراسي ١٤٣٣/١٤٣٤ هـ - ٢٠١٢ / ٢٠١٣ م  
الدور الثاني - الفصل الدراسي الثاني  
المادة: العالم من حولي

السؤال الرابع : ( ١٤ درجة )

الجزئية	المفردة	الإجابة الصحيحة	الدرجة	الصفحة
٢٤				
<p>عجائب الدنيا السبع في العالم القديم</p> <p>تركيا</p> <p>العراق</p> <p>(٣) اليونان</p> <p>بحر إيجة</p> <p>مصر</p> <p>(١) معبد ديانا (الرمز)</p> <p>(٢) مقبرة الملك موزولوس (أوسولوس)</p> <p>الجنائن المعلقة</p> <p>برج بابل</p> <p>تمثال زيوس</p> <p>(٤) تمثال رودس</p> <p>هرم خوفو</p> <p>منارة الإسكندرية</p> <p>٤ لكل مفردة درجة واحدة فقط</p> <p>١٧٢</p>				
المعيار	لا يحاسب الطالب على الأخطاء الإملائية إذا كانت الكتابة مفهومة. يأخذ الطالب درجة واحدة فقط لكل مفردة صحيحة.			
مفتاح التصحيح	٤-٣-٢-١-٠			

(٩)

تابع نموذج إجابة امتحان شهادة دبلوم التعليم العام  
للعام الدراسي ١٤٣٣/١٤٣٤ هـ - ٢٠١٢ / ٢٠١٣ م  
الدور الثاني - الفصل الدراسي الثاني  
المادة: العالم من حولي

تابع: السؤال الرابع:-

الجزئية	المفردة	الإجابة الصحيحة	الدرجة	الصفحة
٢٥	أ	إنشاء الجامعات المفتوحة - الجامعات الافتراضية - الجامعات بلا حدود - مشاريع المدن والقرى التعليمية - الجامعات الإلكترونية - شبكات التعليم والتدريب عن بعد - الصفوف الذكية - التعليم بالإنترنت والوسائط المتعددة - استخدام الهواتف الذكية وتطبيقاتها - استخدام البوابات الإلكترونية - استخدام المحتوى الإلكتروني- استخدام قواعد البحث الإلكتروني - تفعيل التعليم الإلكتروني- المشاركة في المؤتمرات واللقاءات الدولية .	٢	٢١١
المعيار		يؤخذ بأسلوب الطالب إذا كان صحيحا وضمن السياق السابق أو ما يفيد المعنى يكتفى بجانب تطوير واحد ليأخذ الدرجة كاملة .		
مفتاح التصحيح		٢-٠		

الجزئية	المفردة	الإجابة الصحيحة	الدرجة	الصفحة
٢٥	ب	- التغيرات التقنية المستمرة في مجال الاتصالات وتكنولوجيا المعلومات . - التغيرات التقنية في نمط الخدمات التي يوفرها قطاع الاتصالات وتكنولوجيا المعلومات . - اعادة هيكلة قطاع تكنولوجيا المعلومات والاتصالات تماشيا مع احتياجات التنمية المستجدة . - ضعف البنية التحتية لتكنولوجيا المعلومات والاتصالات . - نقص الموارد البشرية في مجال تكنولوجيا المعلومات .	درجتان لكل مفردة درجة واحدة فقط	٢١٩
المعيار		يؤخذ بأسلوب الطالب إذا كان صحيحا وضمن السياق السابق. يكتفى بنقطتين فقط لكل نقطة درجة واحدة فقط.		
مفتاح التصحيح		٢-١-٠		

يتبع/١٠

مدرسة ولاية بديد - مركز مصادر التعلم -  
مدونة فيض المصادر

(١٠)

تابع نموذج إجابة امتحان شهادة دبلوم التعليم العام  
للعام الدراسي ١٤٣٣/١٤٣٤ هـ - ٢٠١٢/٢٠١٣ م  
الدور الثاني - الفصل الدراسي الثاني  
المادة: العالم من حولي



السؤال الرابع:

الجزئية	المفردة	الإجابة الصحيحة	الدرجة	الصفحة
٢٦				
أ	يكتب أسبانيا في موقعها الصحيح بشكل دقيق انظر الخريطة أعلاه	١	١٦٢	
ب	يظل دولة سويسرا بشكل صحيح ودقيق انظر الخريطة أعلاه	١	٢٠٨	
ج	٢	١	١٨١	
د	- شمال البحر المتوسط	١	١٧٦	
المعيار	<p>ملاحظة: في المفردة (ج) تعتبر إجابة الطالب صحيحة إذا كتب فرنسا على الخريطة عند الرقم (٢) وتعتبر خطأ إذا كتبها بجانب السؤال بدون الرقم (٢) حتى وإن كانت صحيحة.</p> <p>أما المفردة (د) لا يشترط كتابة الدولة وإنما يكفي بالاتجاه.</p>			
مفتاح التصحيح	<p>مدرسة ولاية بدبد - مركز مصادر التعلم - (١٠٠) مدونة فيض المصادر (١٠٠)</p>			



(١١)

تابع نموذج إجابة امتحان شهادة دبلوم التعليم العام  
للعام الدراسي ١٤٣٣/١٤٣٤ هـ - ٢٠١٢ / ٢٠١٣ م  
الدور الثاني - الفصل الدراسي الثاني  
المادة: العالم من حولي



الجزئية	المفردة	الإجابة الصحيحة	الدرجة	الصفحة
٢٧	-	الحوار الثقافي	٢	١٥٠
مفتاح التصحيح			٢-٠	

نهاية نموذج الإجابة