



Solucionario de problemas de Ecuaciones Diferenciales

2do Parcial (3ra versión)

- Resolución de ecuaciones diferenciales alrededor de puntos singulares
- Transformada de Laplace
- Resolución de ecuaciones diferenciales mediante la transformada de Laplace
- Resolución de sistemas de Ecuaciones diferenciales
- Aplicaciones de las ecuaciones diferenciales de segundo orden
- Series de Fourier
- Ecuaciones en Derivadas Parciales

Roberto Cabrera V.
dcabrera@fiec.espol.edu.ec
06/02/2009

Este es un solucionario de problemas de Ecuaciones Diferenciales correspondiente a la Segunda Evaluación, donde constan ejercicios tipo examen. Esta obra ha sido elaborada por Roberto Cabrera y Christian de La Rosa, ex – estudiante de la ESPOL, con el auspicio de la directiva A.E.F.I.E.C. de los años 2006, 2007, 2008. Modificado y corregido dos veces por Roberto Cabrera.

Resumen de problemas resueltos de Ecuaciones Diferenciales

II Parcial

- i. Resolución de ecuaciones diferenciales alrededor de puntos singulares:**
 - Método de Frobenius
- ii. Transformada de Laplace:**
 - Teoremas
 - Transformada de Laplace de algunas funciones
 - Transformada inversa de Laplace
- iii. Resolución de ecuaciones diferenciales mediante la transformada de Laplace:**
 - Ecuaciones diferenciales de coeficientes constantes
 - Ecuaciones diferenciales de coeficientes variables
 - Ecuaciones integro diferenciales
- iv. Resolución de sistemas de Ecuaciones diferenciales:**
 - Método de Eliminación
 - Método de los operadores diferenciales
 - Método de Laplace
 - Método de los valores y vectores propios.
- v. Aplicaciones de las ecuaciones diferenciales de segundo orden:**
 - Aplicaciones de Sistema: Masa – Resorte – Amortiguador
 - Aplicaciones de circuitos eléctricos
- vi. Series de Fourier**
 - Definición de la serie de Fourier
 - Serie de Fourier de una función par e impar
 - Convergencia de una serie de Fourier
 - Extensiones pares o impares periódicas de una serie de Fourier
- vii. Problema de la ecuación del calor**
- viii. Anexos:**
 - Problemas propuestos
 - Tabla de transformadas de Laplace de ciertas funciones
 - Tabla de transformadas inversas de Laplace de ciertas funciones

Método de Frobenius

1. Determine la solución general de la ecuación diferencial:

$xy'' + 2y' + xy = 0$, mediante series de potencias de x . Utilice la raíz de mayor valor de la ecuación indicial asociada a la ecuación diferencial dada para establecer la primera solución, ésta como una función elemental; y, luego utilice algún procedimiento conocido para definir la segunda solución linealmente independiente e igualmente exprese la como una función elemental.

Asumiendo la solución alrededor del punto $x_0 = 0$, se tiene que verificar que clase de punto es, en este caso $P(x) = x$, entonces $P(x_0) = 0$, por lo tanto $x_0 = 0$ es un punto singular.

Luego se verifica si es singular regular.

$$i) \lim_{x \rightarrow x_0} (x - x_0) \frac{Q(x)}{P(x)} = \lim_{x \rightarrow 0} (x) \frac{2}{x} = 2 = p_0 (\text{existe})$$

$$ii) \lim_{x \rightarrow x_0} (x - x_0)^2 \frac{R(x)}{P(x)} = \lim_{x \rightarrow 0} (x)^2 \frac{0}{x} = 0 = q_0 (\text{existe})$$

Los dos límites existen, por lo tanto x_0 es un punto singular regular.

La fórmula de la ecuación indicial indica:

$$r(r-1) + p_0 r + q_0 = 0$$

$$r(r-1) + 2r = 0$$

$$r(r-1+2) = 0, \text{ se obtiene que: } r(r+1) = 0$$

Las raíces de la ecuación indicial son: $r_1 = 0$, y $r_2 = -1$.

Asumiendo la solución como:

$$y = \sum_{n=0}^{\infty} a_n x^{n+r}, \quad a_0 \neq 0$$

Obteniendo la 1ra y 2da derivada:

$$y' = \sum_{n=0}^{\infty} a_n (n+r) x^{n+r-1}$$

$$y'' = \sum_{n=0}^{\infty} a_n (n+r)(n+r-1) x^{n+r-2}$$

Reemplazando y, y', y'' en la ecuación diferencial $xy'' + 2y' + xy = 0$ se obtiene:

$$x \sum_{n=0}^{\infty} a_n (n+r)(n+r-1) x^{n+r-2} + 2 \sum_{n=0}^{\infty} a_n (n+r) x^{n+r-1} + x \sum_{n=0}^{\infty} a_n x^{n+r} = 0$$

Introduciendo los coeficientes de cada sumatoria:

$$\sum_{n=0}^{\infty} a_n (n+r)(n+r-1) x^{n+r-1} + \sum_{n=0}^{\infty} 2a_n (n+r) x^{n+r-1} + \sum_{n=0}^{\infty} a_n x^{n+r+1} = 0$$

Se iguala las potencias de todas las sumatorias, en esta caso a $n+r-1$, haciendo un cambio de parámetro en alguna en la tercera sumatoria.

$$m-1 = n+1$$

$$\text{Si } n=0, \text{ entonces } m=2$$

$$n = m-2$$

$$\text{Luego } m = n$$

La nueva ecuación queda así:

$$\sum_{n=0}^{\infty} a_n(n+r)(n+r-1)x^{n+r-1} + \sum_{n=0}^{\infty} 2a_n(n+r)x^{n+r-1} + \sum_{n=2}^{\infty} a_{n-2}x^{n+r-1} = 0$$

Se iguala los subíndices de cada sumatoria al mayor de todas, en este caso a $n = 2$. Luego se desarrollan dos términos en la primera y segunda sumatoria:

$$\begin{aligned} & a_0(r)(r-1)x^{r-1} + a_1(r+1)(r)x^r + 2a_0(r)x^{r-1} + 2a_1(r+1)x^r \\ & + \sum_{n=2}^{\infty} a_n(n+r)(n+r-1)x^{n+r-1} + \sum_{n=2}^{\infty} 2a_n(n+r)x^{n+r-1} \\ & + \sum_{n=2}^{\infty} a_{n-2}x^{n+r-1} = 0 \end{aligned}$$

Se agrupan los coeficientes de cada sumatoria en una sola sumatoria:

$$\begin{aligned} & a_0(r)(r-1)x^{r-1} + a_1(r+1)(r)x^r + 2a_0(r)x^{r-1} + 2a_1(r+1)x^r \\ & + \sum_{n=2}^{\infty} [a_n(n+r)(n+r-1) + 2a_n(n+r) + a_{n-2}]x^{n+r-1} = 0 \end{aligned}$$

Igualmente los coeficientes de x^{r-1} , y x^r :

Para x^{r-1} , se tiene: $a_0(r)(r-1) + 2a_0(r) = 0$

Como $a_0 \neq 0$, se obtiene $(r)(r-1) + 2(r) = 0$, que es la misma ecuación indicial anterior.

Para x^r , se tiene: $a_1(r+1)(r) + 2a_1(r+1) = 0$

En este caso a_1 si puede ser igual a cero. $a_1 = 0$

La ecuación de recurrencia es:

$$a_n(n+r)(n+r-1) + 2a_n(n+r) + a_{n-2} = 0$$

Despejando el valor de a_n , se obtiene la fórmula de recurrencia general:

$$a_n = -\frac{a_{n-2}}{(n+r)(n+r-1) + 2(n+r)}; \quad \forall n \geq 2$$

Reemplazando la raíz mayor $r_1 = 0$, se obtiene la fórmula de recurrencia particular para la primera solución:

$$a_n = -\frac{a_{n-2}}{(n)(n-1) + 2(n)}, \text{ donde } a_n = -\frac{a_{n-2}}{(n)(n+1)}; \quad \forall n \geq 2$$

$$n = 2 \rightarrow a_2 = -\frac{a_0}{(2)(3)} = -\frac{a_0}{3!}$$

$$n = 3 \rightarrow a_3 = -\frac{a_1}{(3)(4)}, \text{ pero } a_1 = 0, \text{ entonces } a_3 = 0$$

$$n = 4 \rightarrow a_4 = -\frac{a_2}{(4)(5)} = \frac{a_0}{(2)(3)(4)(5)} = \frac{a_0}{5!}$$

$$n = 5 \rightarrow a_5 = -\frac{a_3}{(5)(6)} = 0,$$

$$n = 6 \rightarrow a_6 = -\frac{a_4}{(6)(7)} = -\frac{a_0}{(2)(3)(4)(5)(6)(7)} = -\frac{a_0}{7!}$$

$$n = 7 \rightarrow a_7 = -\frac{a_5}{(7)(8)} = 0,$$

Entonces la primera solución es, para el valor de $r=0$:

$$y_1 = \sum_{n=0}^{\infty} a_n x^n = [a_0 + a_1 x + a_2 x^2 + a_3 x^3 + a_4 x^4 + a_5 x^5 + a_6 x^6 + a_7 x^7 + \dots]$$

Reemplazando los coeficientes en la solución

$$y_1 = \sum_{n=0}^{\infty} a_n x^n = \left[a_0 - \frac{a_0}{3!} x^2 + \frac{a_0}{5!} x^4 - \frac{a_0}{7!} x^6 + \dots \right] = a_0 \left[1 - \frac{1}{3!} x^2 + \frac{1}{5!} x^4 - \frac{1}{7!} x^6 + \dots \right]$$

$$y_1 = a_0 \sum_{n=0}^{\infty} \frac{(-1)^n x^{2n}}{(2n+1)!} \text{ entonces, } y_1 = \sum_{n=0}^{\infty} \frac{(-1)^n x^{2n+1-1}}{(2n+1)!} = x^{-1} \sum_{n=0}^{\infty} \frac{(-1)^n x^{2n+1}}{(2n+1)!}$$

$$y_1 = x^{-1} \text{Sen}(x)$$

Por lo tanto y_2 , lo podemos encontrar de la siguiente forma:

$$y_2 = y_1 \int \frac{e^{-\int p(x) dx}}{(y_1)^2} dx = x^{-1} \text{Sen}(x) \int \frac{e^{-\int \frac{2}{x} dx}}{x^{-2} \text{Sen}^2(x)} dx$$

$$y_2 = x^{-1} \text{Sen}(x) \int \frac{x^{-2}}{x^{-2} \text{Sen}^2(x)} dx = x^{-1} \text{Sen}(x) \int \text{Csc}^2(x) dx$$

$$y_2 = x^{-1} \text{Sen}(x) [-\text{ctg}(x)] = -x^{-1} \text{Cos}(x)$$

La solución general: $y = C_1 x^{-1} \text{Sen}(x) + C_2 x^{-1} \text{Cos}(x)$

2) Resuelva:

$$\bullet \quad \boxed{x^2 \frac{d^2 y}{dx^2} + (x^2 - 3x) \frac{dy}{dx} + 3y = 0, \text{ alrededor de } x_0 = 0}$$

$$p(x) = x^2 \Rightarrow p(x_0) = 0, \text{ es singular}$$

$$x^2 \sum_{n=0}^{+\infty} C_n (n+r)(n+r-1) x^{n+r-2} + (x^2 - 3x) \sum_{n=0}^{+\infty} C_n (n+r) x^{n+r-1} + 3 \sum_{n=0}^{+\infty} C_n x^{n+r} = 0$$

$$\sum_{n=0}^{+\infty} C_n (n+r)(n+r-1) x^{n+r} + \sum_{n=0}^{+\infty} C_n (n+r) x^{n+r+1} - 3 \sum_{n=0}^{+\infty} C_n (n+r) x^{n+r} + 3 \sum_{n=0}^{+\infty} C_n x^{n+r} = 0$$

$$\sum_{n=0}^{+\infty} [(n+r-3)(n+r-1)] C_n x^{n+r} + \sum_{n=0}^{+\infty} C_n (n+r) x^{n+r+1} = 0$$

$$\sum_{n=0}^{+\infty} [(n+r-3)(n+r-1)] C_n x^{n+r} + \sum_{n=1}^{+\infty} C_{n-1} (n+r-1) x^{n+r} = 0$$

$$[(r-3)(r-1)] C_0 x^r + \sum_{n=1}^{+\infty} [(n+r-3)(n+r-1)] C_n + (n+r-1) C_{n-1} x^{n+r} = 0$$

$$[(r-3)(r-1)] C_0 = 0 \rightarrow (r-3)(r-1) = 0 \rightarrow \underline{r_1 = 3} \quad \underline{r_2 = 1} \quad r_1 - r_2 = \text{entero}$$

$$[(n+r-3)(n+r-1)] C_n + (n+r-1) C_{n-1} = 0 \rightarrow C_n = -\frac{C_{n-1}}{n+r-3}; \quad n \geq 1$$

$$r_1 = 3 \rightarrow C_n = -\frac{C_{n-1}}{n}; \quad n \geq 1 \quad r_2 = 1 \rightarrow C_n = -\frac{C_{n-1}}{n-2}; \quad n \geq 1 \text{ no esta definida para } n = 2$$

la primera solución será utilizando $r_1 = 3$

$$n = 1 \rightarrow C_1 = -\frac{C_0}{1} = -\frac{C_0}{1!}$$

$$n = 2 \rightarrow C_2 = -\frac{C_1}{2} = \frac{C_0}{2!}$$

$$n = 3 \rightarrow C_3 = -\frac{C_2}{3} = -\frac{C_0}{3!} \Rightarrow y_1(x) = C_0 x^3 \left[1 - \frac{x}{1!} + \frac{x^2}{2!} - \frac{x^3}{3!} + \dots \right] \therefore \underline{\underline{y_1(x) = C_0 x^3 e^{-x}}}$$

$$y_2(x) = y_1 \int \frac{e^{-\int p(x) dx}}{y_1^2} dx = x^3 e^{-x} \int \frac{e^{-\int 1 - \frac{3}{x} dx}}{x^6 e^{-2x}} dx = x^3 e^{-x} \int \frac{x^3 e^{-x}}{x^6 e^{-2x}} dx = x^3 e^{-x} \int \frac{e^x}{x^3} dx$$

$$y_2(x) = x^3 e^{-x} \int \sum_{n=0}^{+\infty} \frac{(-1)^n x^{n-3}}{n!} dx = x^3 e^{-x} \int \left(x^{-3} - x^{-2} + \frac{x^{-1}}{2} + \sum_{n=3}^{+\infty} \frac{(-1)^n x^{n-3}}{n!} \right) dx =$$

$$= x^3 e^{-x} \left(-\frac{x^{-2}}{2} + x^{-1} + \frac{\ln x}{2} + \sum_{n=3}^{+\infty} \frac{(-1)^n x^{n-2}}{n!(n-2)} \right) \therefore$$

$$\underline{\underline{y_2(x) = \frac{y_1 \ln x}{2} + x^3 e^{-x} \left(-\frac{x^{-2}}{2} + x^{-1} + \sum_{n=3}^{+\infty} \frac{(-1)^n x^{n-2}}{n!(n-2)} \right)}}$$

3) Resuelva la siguiente ecuación diferencial alrededor del punto $x_0 = 0$

$$\bullet \quad \boxed{(x^2 - x) \frac{d^2 y}{dx^2} + (3x - 1) \frac{dy}{dx} + y = 1}$$

$p(x) = x^2 \Rightarrow p(x_0) = 0$, es singular

$$(x^2 - x) \sum_{n=0}^{+\infty} C_n (n+r)(n+r-1) x^{n+r-2} + (3x-1) \sum_{n=0}^{+\infty} C_n (n+r) x^{n+r-1} + \sum_{n=0}^{+\infty} C_n x^{n+r} = 0$$

$$\sum_{n=0}^{+\infty} C_n (n+r)(n+r-1) x^{n+r} - \sum_{n=0}^{+\infty} C_n (n+r)(n+r-1) x^{n+r-1} + 3 \sum_{n=0}^{+\infty} C_n (n+r) x^{n+r} - \sum_{n=0}^{+\infty} C_n (n+r) x^{n+r-1} + \sum_{n=0}^{+\infty} C_n x^{n+r} = 0$$

$$\sum_{n=0}^{+\infty} [(n+r)(n+r-1) + 3(n+r) + 1] C_n x^{n+r} - \sum_{n=0}^{+\infty} (n+r)^2 C_n x^{n+r-1} = 0$$

$$\sum_{n=0}^{+\infty} [(n+r)(n+r-1) + 3(n+r) + 1] C_n x^{n+r} - \sum_{n=-1}^{+\infty} (n+r+1)^2 C_{n+1} x^{n+r} = 0$$

$$- [r^2] C_0 x^r + \sum_{n=0}^{+\infty} [(n+r)(n+r-1) + 3(n+r) + 1] C_n - (n+r+1)^2 C_{n+1} x^{n+r} = 0$$

$$- [r^2] C_0 = 0 \rightarrow \underline{r_1 = r_2 = 0}$$

$$[(n+r)(n+r-1) + 3(n+r) + 1] C_n - (n+r+1)^2 C_{n+1} \rightarrow C_{n+1} = \frac{[(n+r)(n+r-1) + 3(n+r) + 1] C_n}{(n+r+1)^2}; \quad n \geq 0$$

$$r_1 = 0 \rightarrow \underline{C_{n+1} = C_n; \quad n \geq 0}$$

la primera solución será utilizando $r_1 = 0$

$$n = 1 \rightarrow C_1 = \underline{C_0}$$

$$n = 2 \rightarrow C_2 = \underline{C_0}$$

$$n = 3 \rightarrow C_3 = \underline{C_0} \quad \Rightarrow y_1(x) = C_0 x^0 [1 + x + x^2 + x^3 + \dots] \therefore \underline{y_1(x) = C_0 \frac{1}{1-x}}$$

$$y_2(x) = y_1 \int \frac{e^{-\int p(x) dx}}{y_1^2} dx = \frac{1}{1-x} \int \frac{e^{-\int \frac{3x-1}{x^2-x} dx}}{x^2 e^{2x}} dx = \frac{1}{1-x} \int \frac{x^{-1} (x-1)^{-2}}{\left(\frac{1}{1-x}\right)^2} dx = \frac{1}{1-x} \int \frac{1}{x} dx \rightarrow \underline{y_2(x) = C_1 \frac{\ln x}{1-x}}$$

$$\underline{y_h(x) = k_1 \frac{1}{1-x} + k_2 \frac{\ln x}{1-x}}$$

$$y_p(x) = u_1 y_1 + u_2 y_2 \rightarrow W = \begin{vmatrix} \frac{1}{1-x} & \frac{\ln x}{1-x} \\ \frac{1}{(x-1)^2} & \frac{\ln x}{(x-1)^2} - \frac{1}{x(x-1)} \end{vmatrix} = \frac{1}{x(x-1)^2}$$

$$u_1 = - \int \frac{g(x) y_2}{W} dx = - \int \left(\frac{1}{x^2 - x} \right) \left(\frac{\ln x}{1-x} \right) x(x-1)^2 dx = \int \ln x dx = \underline{-x + x \ln x}$$

$$u_2 = \int \frac{g(x) y_1}{W} dx = \int \left(\frac{1}{x^2 - x} \right) \left(\frac{1}{1-x} \right) x(x-1)^2 dx = - \int 1 dx = \underline{-x}$$

$$y_p(x) = u_1 y_1 + u_2 y_2 = (-x + x \ln x) \left(\frac{1}{1-x} \right) - x \frac{\ln x}{1-x} = \underline{\underline{\frac{x}{x-1}}}$$

$$\underline{\underline{y(x) = k_1 \frac{1}{1-x} + k_2 \frac{\ln x}{1-x} + \frac{x}{x-1}}}$$

Transformada de Laplace

Halle:

$$\bullet \quad L\{4e^{5t} + 6t^3 - 3\operatorname{sen}(4t) + 2\cos(2t)\}$$

Por la propiedad de linealidad tenemos que:

$$\begin{aligned} L\{4e^{5t} + 6t^3 - 3\operatorname{sen}(4t) + 2\cos(2t)\} &= L\{4e^{5t}\} + L\{6t^3\} + L\{-3\operatorname{sen}(4t)\} + L\{2\cos(2t)\} \\ &= 4L\{e^{5t}\} + 6L\{t^3\} - 3L\{\operatorname{sen}(4t)\} + 2L\{\cos(2t)\} \\ &= 4\frac{1}{s-5} + 6\frac{3!}{s^4} - 3\frac{4}{s^2+16} + 2\frac{s}{s^2+4} \\ &= \frac{4}{s-5} + \frac{36}{s^4} - \frac{12}{s^2+16} + \frac{2s}{s^2+4} \end{aligned}$$

Halle

$$\bullet \quad L\{(t+2)^2 e^t + e^{-4t} \cosh(2t)\}$$

Por la propiedad de linealidad tenemos que:

$$\begin{aligned} L\{(t+2)^2 e^t + e^{-4t} \cosh(2t)\} &= L\{(t+2)^2 e^t\} + L\{e^{-4t} \cosh(2t)\} \\ &= L\{(t^2 + 4t + 4)e^t\} + L\{e^{-4t} \cosh(2t)\} \\ &= L\{t^2 e^t\} + L\{4te^t\} + L\{4e^t\} + L\{e^{-4t} \cosh(2t)\} \\ &= L\{t^2 e^t\} + 4L\{te^t\} + 4L\{e^t\} + L\{e^{-4t} \cosh(2t)\} \end{aligned}$$

Aplicando el primer teorema de la traslación:

$$\begin{aligned} L\{t^2 e^t\} + 4L\{te^t\} + 4L\{e^t\} + L\{e^{-4t} \cosh(2t)\} &= \frac{2!}{(s-1)^3} + 4\frac{1}{(s-1)^2} + 4\frac{1}{s-1} + \frac{s+4}{(s+4)^2-4} \\ &= \frac{5s^4 + 29s^3 + 9s^2 - 21s + 20}{(s-1)^3(s+2)(s+6)} \end{aligned}$$

Demuestre:

- **Demuestre el primer teorema de la traslación**

Si $L\{f(t)\} = F(s)$, entonces $L\{e^{at} f(t)\} = F(s - a)$

Tenemos : $L\{f(t)\} = \int_0^{\infty} e^{-st} f(t) dt = F(s)$

Entonces : $L\{e^{at} f(t)\} = \int_0^{\infty} e^{-st} e^{at} f(t) dt$

$$= \int_0^{\infty} e^{-(s-a)t} f(t) dt \rightarrow \text{si } \bar{s} = s - a$$

$$= \int_0^{\infty} e^{-\bar{s}t} f(t) dt = F(\bar{s}) = F(s - a)$$

Halle:

- $L\{\sinh^3(2t)\cos(t)\}$

Por la propiedad de linealidad tenemos que:

$$L\{\sinh^3(2t)\cos(t)\}$$

$$L\{\sinh^3(2t)\cos(t)\} = L\left\{\left(\frac{e^{2t} - e^{-2t}}{2}\right)^3 \cos(t)\right\}$$

$$= \frac{1}{8} L\{(e^{6t} - 3e^{2t} + 3e^{-2t} - e^{-6t})\cos(t)\}$$

$$= \frac{1}{8} [L\{e^{6t} \cos(t)\} + L\{-3e^{2t} \cos(t)\} + L\{3e^{-2t} \cos(t)\} + L\{-e^{-6t} \cos(t)\}]$$

$$= \frac{1}{8} [L\{e^{6t} \cos(t)\} - 3L\{e^{2t} \cos(t)\} + 3L\{e^{-2t} \cos(t)\} - L\{e^{-6t} \cos(t)\}]$$

Aplicando el primer teorema de la traslación:

$$\frac{1}{8} [L\{e^{6t} \cos(t)\} - 3L\{e^{2t} \cos(t)\} + 3L\{e^{-2t} \cos(t)\} - L\{e^{-6t} \cos(t)\}]$$

$$= \frac{1}{8} \left[\frac{s-6}{(s-6)^2 + 1} - 3 \frac{s-2}{(s-2)^2 + 1} + 3 \frac{s+2}{(s+2)^2 + 1} - \frac{s+6}{(s+6)^2 + 1} \right]$$

$$= \frac{48(s^4 - 46s^2 + 185)}{(s^2 - 12s + 37)(s^2 - 4s + 5)(s^2 + 4s + 5)(s^2 + 12s + 37)}$$

- Encuentre la transformada de la primera derivada de $f(t)$

Si $L\{f(t)\} = F(s)$, entonces $L\{f'(t)\} = sF(s) - f(0)$

$$\text{Tenemos : } L\{f'(t)\} = \int_0^{\infty} e^{-st} f'(t) dt = \lim_{P \rightarrow \infty} \int_0^P e^{-st} f'(t) dt$$

Integrando por partes : $u = e^{-st} \rightarrow du = -s e^{-st} dt$

$$dv = f'(t) dt \rightarrow v = f(t)$$

$$\begin{aligned} \lim_{P \rightarrow \infty} \int_0^P e^{-st} f'(t) dt &= \lim_{P \rightarrow \infty} \left[f(t) e^{-st} \Big|_0^P + s \int_0^P e^{-st} f(t) dt \right] \\ &= \lim_{P \rightarrow \infty} \left[e^{-sP} f(P) - f(0) + s \int_0^P e^{-st} f(t) dt \right] \\ &= s \int_0^{\infty} e^{-st} f(t) dt - f(0) + \lim_{P \rightarrow \infty} e^{-sP} f(P) \end{aligned}$$

pero $\lim_{P \rightarrow \infty} e^{-sP} f(P) = 0$ *asumiendo que $f(t)$ es de orden exponencial*

$$= sF(s) - f(0)$$

- Encuentre la transformada de la función $tf(t)$

Si $L\{f(t)\} = F(s)$, entonces $L\{tf(t)\} = -\frac{d}{ds} F(s)$

$$\text{Tenemos : } L\{f(t)\} = \int_0^{\infty} e^{-st} f(t) dt = F(s)$$

Derivando ambos lados de la igualdad tenemos :

$$\begin{aligned} \frac{d}{ds} F(s) &= \frac{d}{ds} \int_0^{\infty} e^{-st} f(t) dt \\ &= \int_0^{\infty} \frac{\partial}{\partial s} e^{-st} f(t) dt \\ &= \int_0^{\infty} -te^{-st} f(t) dt \\ &= - \int_0^{\infty} e^{-st} [tf(t)] dt \\ \rightarrow L\{tf(t)\} &= -\frac{d}{ds} F(s) \end{aligned}$$

- $L\{t^2 \cos(at)\}$

Por la propiedad de la derivada de la transformada tenemos que:

$$L\{t^2 \cos(at)\}$$

$$\begin{aligned} L\{t^2 \cos(at)\} &= (-1)^2 \frac{d^2}{ds^2} F(s) \\ &= \frac{d^2}{ds^2} \left(\frac{s}{s^2 + a^2} \right) \\ &= \frac{d}{ds} \left(\frac{a^2 - s^2}{(s^2 + a^2)^2} \right) \\ &= \left(\frac{-2s(s^2 + a^2)^2 - 2(s^2 + a^2)2s(a^2 - s^2)}{(s^2 + a^2)^4} \right) \\ &= \frac{2s(s^2 - 3a^2)}{(s^2 + a^2)^3} \end{aligned}$$

Halle:

$$\bullet \quad L\left\{\frac{\cos(\sqrt{t})}{\sqrt{t}}\right\}$$

Usando la propiedad de la transformada de la derivada

$$L\left\{\frac{\cos(\sqrt{t})}{\sqrt{t}}\right\}$$

Si $f(t) = \sin(\sqrt{t})$, entonces $f'(t) = \frac{\cos(\sqrt{t})}{2\sqrt{t}}$, además $f(0) = 0$

$$L\{f'(t)\} = sF(s) - f(0)$$

$$L\left\{\frac{\cos(\sqrt{t})}{2\sqrt{t}}\right\} = sL\{\sin(\sqrt{t})\}$$

$$L\left\{\frac{\cos(\sqrt{t})}{\sqrt{t}}\right\} = 2s L\{\sin(\sqrt{t})\}$$

Encuentro la transformada de $\sin(\sqrt{t})$

Por serie de potencias sabemos que $\sin(\sqrt{t}) = \sum_{n=0}^{+\infty} \frac{(-1)^n t^{\frac{2n+1}{2}}}{(2n+1)!}$

$$\sin(\sqrt{t}) = \sqrt{t} - \frac{(\sqrt{t})^3}{3!} + \frac{(\sqrt{t})^5}{5!} - \frac{(\sqrt{t})^7}{7!} + \dots = t^{\frac{1}{2}} - \frac{t^{\frac{3}{2}}}{3!} + \frac{t^{\frac{5}{2}}}{5!} - \frac{t^{\frac{7}{2}}}{7!} + \dots$$

$$L\{\sin(\sqrt{t})\} = \frac{\Gamma(\frac{3}{2})}{s^{\frac{3}{2}}} - \frac{\Gamma(\frac{5}{2})}{3!s^{\frac{5}{2}}} + \frac{\Gamma(\frac{7}{2})}{5!s^{\frac{7}{2}}} - \frac{\Gamma(\frac{9}{2})}{7!s^{\frac{9}{2}}} + \dots$$

$$= \frac{\sqrt{\pi}}{2s^{\frac{3}{2}}} \left[1 - \left(\frac{1}{2^2 s}\right) + \frac{\left(\frac{1}{2^2 s}\right)^2}{2!} - \frac{\left(\frac{1}{2^2 s}\right)^3}{3!} + \dots \right]$$

$$= \frac{\sqrt{\pi}}{2s^{\frac{3}{2}}} e^{-\frac{1}{4s}}$$

$$L\left\{\frac{\cos(\sqrt{t})}{\sqrt{t}}\right\} = 2s \frac{\sqrt{\pi}}{2s^{\frac{3}{2}}} e^{-\frac{1}{4s}} = \frac{\sqrt{\pi}}{s^{\frac{1}{2}}} e^{-\frac{1}{4s}}$$

- Encuentre la transformada de la integral de $f(t)$

Si $L\{f(t)\} = F(s)$, entonces $L\left\{\int_0^t f(u)du\right\} = \frac{F(s)}{s}$

Si $g(t) = \int_0^t f(u)du$, entonces $g'(t) = f(t)$ y $g(0) = 0$

Entonces sabemos que :

$$L\{g'(t)\} = sL\{g(t)\} - g(0)$$

$$L\{f(t)\} = sL\left\{\int_0^t f(u)du\right\}$$

Despejando tenemos que :

$$L\left\{\int_0^t f(u)du\right\} = \frac{L\{f(t)\}}{s} = \frac{F(s)}{s}$$

- Encuentre la transformada $f(t)/t$

Si $L\{f(t)\} = F(s)$, entonces $L\left\{\frac{f(t)}{t}\right\} = \int_s^\infty F(u)du$

Si $g(t) = \frac{f(t)}{t}$, entonces $f(t) = t g(t)$

Entonces sabemos que :

$$L\{f(t)\} = L\{t g(t)\}$$

$$L\{f(t)\} = -\frac{d}{ds} L\{g(t)\}$$

Integrando ambos lados tenemos que :

$$L\{g(t)\} = -\int_s^\infty f(u)du = \int_s^\infty f(u)du$$

$$L\left\{\frac{f(t)}{t}\right\} = \int_s^\infty f(u)du$$

Halle:

$$\bullet \quad L\left\{e^{4t}t\int_0^t \frac{1}{\theta}e^{-4\theta}\sin(3\theta)d\theta\right\}$$

$$L\left\{e^{4t}t\int_0^t \frac{1}{\theta}e^{-4\theta}\sin(3\theta)d\theta\right\}$$

Por el primer teorema de la traslación tenemos que :

$$L\{e^{4t}g(t)\} = G(s-4)$$

$$\text{Debo encontrar } G(s) \text{ que es } L\left\{t\int_0^t \frac{1}{\theta}e^{-4\theta}\sin(3\theta)d\theta\right\},$$

por el teorema de la derivada de la transformada sabemos que :

$$L\{t h(t)\} = -\frac{d}{ds} H(s)$$

$$\text{Encuentro } H(s) = L\left\{\int_0^t \frac{1}{\theta}e^{-4\theta}\sin(3\theta)d\theta\right\} = \frac{M(s)}{s}, \text{ si } M(s) = L\left\{\frac{1}{\theta}e^{-4\theta}\sin(3\theta)\right\}$$

$$\text{De donde hallamos } M(s) = L\left(\frac{x(\theta)}{\theta}\right) = \int_s^\infty X(u)du$$

$X(u) = L\{e^{-4\theta}\sin(3\theta)\}$ que por el primer teorema de traslación es :

$$X(u) = L\{e^{-4\theta}\sin(3\theta)\} = \frac{3}{(u+4)^2 + 9} = \frac{3}{u^2 + 8u + 25}$$

$$M(s) = L\left(\frac{x(\theta)}{\theta}\right) = \int_s^\infty X(u)du = \int_s^\infty \frac{3}{u^2 + 8u + 25} du = \arctan\left(\frac{u+4}{3}\right)\Big|_s^\infty = \frac{\pi}{2} - \arctan\left(\frac{s+4}{3}\right)$$

$$H(s) = \frac{M(s)}{s} = \frac{1}{s}\left(\frac{\pi}{2} - \arctan\left(\frac{s+4}{3}\right)\right)$$

$$G(s) = L\{t h(t)\} = -\frac{d}{ds}\left[\frac{1}{s}\left(\frac{\pi}{2} - \arctan\left(\frac{s+4}{3}\right)\right)\right] = \frac{\pi}{2s^2} + \frac{3}{s(s^2 + 8s + 25)} - \frac{\arctan\left(\frac{s+4}{3}\right)}{s^2}$$

$$L\left\{e^{4t}t\int_0^t \frac{1}{\theta}e^{-4\theta}\sin(3\theta)d\theta\right\} = G(s-4) = \frac{\pi}{2(s-4)^2} + \frac{3}{(s-4)((s-4)^2 + 8(s-4) + 25)} - \frac{\arctan\left(\frac{s}{3}\right)}{(s-4)^2}$$

• **Demuestre el segundo teorema de la traslación**

Si $L\{f(t)\} = F(s)$, entonces $L\{\mu(t-a)f(t-a)\} = e^{-as}F(s)$

Tenemos : $L\{\mu(t-a)f(t-a)\} = \int_0^{\infty} e^{-st} \mu(t-a)f(t-a) dt$

Entonces : $L\{\mu(t-a)f(t-a)\} = \int_a^{\infty} e^{-st} f(t-a) dt$

Si $t = u + a \rightarrow u = t - a$ y $dt = du$

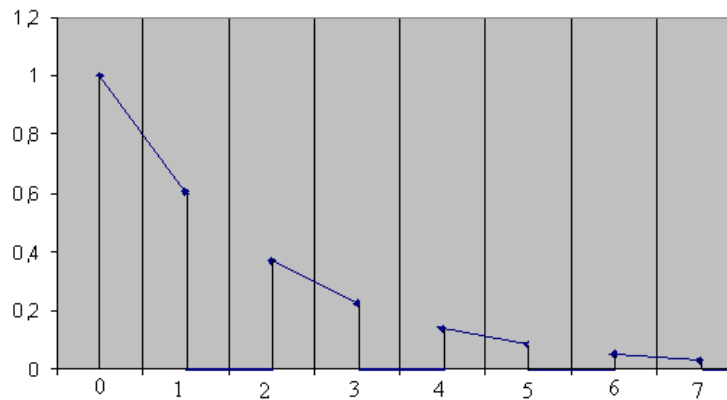
Cuando $t = a \rightarrow u = 0$ y $t = \infty \rightarrow u = \infty$

$L\{\mu(t-a)f(t-a)\} = \int_0^{\infty} e^{-s(u+a)} f(u) du$

$L\{\mu(t-a)f(t-a)\} = e^{-as} \int_0^{\infty} e^{-su} f(u) du = e^{-as} F(s)$

• **Encuentre la transformada**

$$f(t) = \begin{cases} e^{-t/2} & ; 2n < t < 2n+1 \\ 0 & ; 2n+1 < t < 2n+2 \end{cases} \quad n = 0, 1, 2, 3, \dots$$



$$f(t) = e^{-\frac{t}{2}} [\mu_0(t) - \mu_1(t) + \mu_2(t) - \mu_3(t) + \mu_4(t) - \mu_5(t) \dots]$$

Por el primer teorema de la traslación tenemos que $L\{f(t)\} = G\left(s + \frac{1}{2}\right)$

$$G(s) = L\{\mu_0(t) - \mu_1(t) + \mu_2(t) - \mu_3(t) + \mu_4(t) - \mu_5(t) \dots\}$$

$$G(s) = \frac{1}{s} - \frac{e^{-s}}{s} + \frac{e^{-2s}}{s} - \frac{e^{-3s}}{s} + \frac{e^{-4s}}{s} - \dots = \frac{1}{s} (1 - e^{-s} + e^{-2s} - e^{-3s} + e^{-4s} - \dots)$$

$$G(s) = \frac{1}{s} \sum_{n=0}^{+\infty} \left(-\frac{1}{e^s}\right)^n = \frac{1}{s} \left(\frac{1}{1 + \frac{1}{e^s}} \right) = \frac{e^s}{s(e^s + 1)}$$

$$L\{f(t)\} = G\left(s + \frac{1}{2}\right) = \frac{e^{s+1/2}}{\left(s + \frac{1}{2}\right)(e^{s+1/2} + 1)}$$

$$\bullet \quad L\left\{ \boxed{\operatorname{sen}(t)\mu_{\frac{\pi}{4}}(t) + \frac{\operatorname{sen}(3t)}{t}\delta(t)} \right\}$$

$$L\left\{ \operatorname{sen}(t)\mu_{\frac{\pi}{4}}(t) + \frac{\operatorname{sen}(3t)}{t}\delta(t) \right\}$$

$$L\left\{ \operatorname{sen}(t)\mu_{\frac{\pi}{4}}(t) + \frac{\operatorname{sen}(3t)}{t}\delta(t) \right\} = L\left\{ \operatorname{sen}(t)\mu_{\frac{\pi}{4}}(t) \right\} + L\left\{ \frac{\operatorname{sen}(3t)}{t}\delta(t) \right\}$$

Para la primera transformada utilizo el segundo teorema de la traslación :

$$L\left\{ f\left(t - \frac{\pi}{4}\right)\mu_{\frac{\pi}{4}}(t) \right\} = e^{-\frac{\pi}{4}s} F(s)$$

Pero debo desplazar la función que multiplica al escalón :

$$\operatorname{sen}\left(t - \frac{\pi}{4} + \frac{\pi}{4}\right) = \cos\left(t - \frac{\pi}{4}\right)\operatorname{sen}\left(\frac{\pi}{4}\right) + \operatorname{sen}\left(t - \frac{\pi}{4}\right)\cos\left(\frac{\pi}{4}\right) = \frac{\sqrt{2}}{2}\left(\cos\left(t - \frac{\pi}{4}\right) + \operatorname{sen}\left(t - \frac{\pi}{4}\right)\right)$$

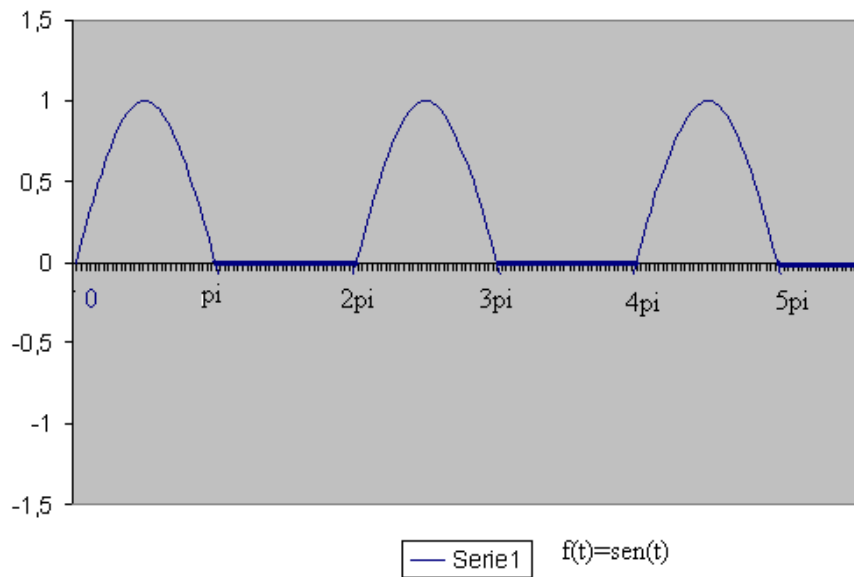
$$\begin{aligned} L\left\{ \frac{\sqrt{2}}{2}\left(\cos\left(t - \frac{\pi}{4}\right) + \operatorname{sen}\left(t - \frac{\pi}{4}\right)\right)\mu_{\frac{\pi}{4}}(t) \right\} &= \frac{\sqrt{2}}{2}\left[L\left\{ \cos\left(t - \frac{\pi}{4}\right)\mu_{\frac{\pi}{4}}(t) \right\} + L\left\{ \operatorname{sen}\left(t - \frac{\pi}{4}\right)\mu_{\frac{\pi}{4}}(t) \right\} \right] \\ &= \frac{\sqrt{2}}{2}e^{-\frac{\pi}{4}s}\left[\frac{s}{s^2+1} + \frac{1}{s^2+1} \right] = \frac{\sqrt{2}}{2}e^{-\frac{\pi}{4}s}\left[\frac{s+1}{s^2+1} \right] \end{aligned}$$

Para la segunda transformada utilizo la función impulso :

$$L\left\{ \frac{\operatorname{sen}(3t)}{t}\delta(t) \right\} = e^{-0s} \lim_{t \rightarrow 0} \frac{\operatorname{sen}(3t)}{t} = 1(3) = 3$$

$$L\left\{ \operatorname{sen}(t)\mu_{\frac{\pi}{4}}(t) + \frac{\operatorname{sen}(3t)}{t}\delta(t) \right\} = \underline{\underline{\frac{\sqrt{2}}{2}e^{-\frac{\pi}{4}s}\left[\frac{s+1}{s^2+1} \right] + 3}}$$

- Encuentre la transformada de la siguiente gráfica



Tenemos que encontrar la transformada de una función periódica:

$$g(t) = \begin{cases} \text{sen}(t) & 0 < t < \pi \\ 0 & \pi < t < 2\pi \end{cases} \quad \text{extendida periódicamente con periodo } 2\pi$$

$$L\{g(t)\} = \frac{1}{1 - e^{-2\pi s}} \int_0^{2\pi} e^{-st} g(t) dt$$

$$L\{g(t)\} = \frac{1}{1 - e^{-2\pi s}} \int_0^{\pi} e^{-st} \text{sen}(t) dt$$

$$\text{Integro por partes : } u = e^{-st} \rightarrow du = -s e^{-st}$$

$$dv = \text{sen}(t) dt \rightarrow v = -\cos(t)$$

$$\int e^{-st} \text{sen}(t) dt = -\cos(t) e^{-st} - s \int e^{-st} \cos(t) dt$$

$$\text{Integro por partes : } u = e^{-st} \rightarrow du = -s e^{-st}$$

$$dv = \cos(t) dt \rightarrow v = \text{sen}(t)$$

$$\int e^{-st} \text{sen}(t) dt = -\cos(t) e^{-st} - s \left(e^{-st} \text{sen}(t) + s \int e^{-st} \text{sen}(t) dt \right)$$

$$(s^2 + 1) \int e^{-st} \text{sen}(t) dt = e^{-st} (-s \text{sen}(t) - \cos(t))$$

$$\int e^{-st} \text{sen}(t) dt = \frac{e^{-st} (-s \text{sen}(t) - \cos(t))}{s^2 + 1}$$

Reemplazando :

$$L\{g(t)\} = \frac{1}{1 - e^{-2\pi s}} \left\{ \frac{e^{-st} (-s \text{sen}(t) - \cos(t))}{s^2 + 1} \right\} \Bigg|_0^{\pi}$$

$$L\{g(t)\} = \frac{1}{1 - e^{-2\pi s}} \left\{ \frac{1 + e^{-\pi s}}{s^2 + 1} \right\} = \frac{1}{(1 - e^{-\pi s})(s^2 + 1)}$$

• **Demuestre el teorema de la convolución**

Si $L^{-1}\{F(s)\} = f(t)$ y $L^{-1}\{G(s)\} = g(t)$, entonces $L\{F(s)G(s)\} = \int_0^t f(u)g(t-u)du = f(t) * g(t)$

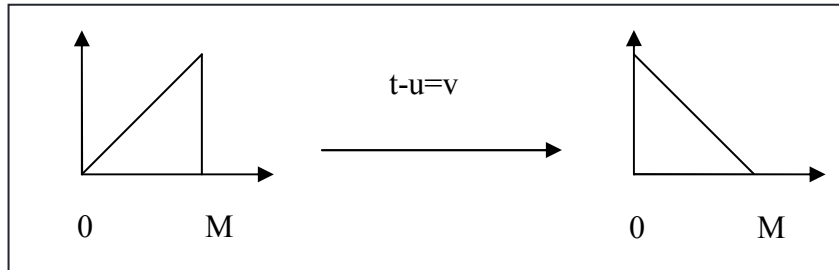
$$L\left\{\int_0^t f(u)g(t-u)du\right\} = F(s)G(s)$$

donde $F(s) = L\{f(t)\}$, $G(s) = L\{g(t)\}$ por lo que :

$$L\left\{\int_0^t f(u)g(t-u)du\right\} = \int_{t=0}^{\infty} e^{-st} \left\{ \int_{u=0}^t f(u)g(t-u)du \right\} dt = \int_{t=0}^{\infty} \int_{u=0}^t e^{-st} f(u)g(t-u)du dt = \lim_{M \rightarrow \infty} S_M$$

$$\text{donde } S_M = \int_{t=0}^M \int_{u=0}^t e^{-st} f(u)g(t-u)du dt$$

La región en el plano en donde se llevará a cabo la integración es:



Luego de hacer el cambio $t-u=v$ la región cambia, por lo que el integral se transforma en:

$$S_M = \iint_{R_{tu}} e^{-st} f(u)g(t-u)du dt = \iint_{R_{uv}} e^{-s(u+v)} f(u)g(v) \left| \frac{\partial(u,t)}{\partial(u,v)} \right| du dv$$

Donde el Jacobiano de la transformación es :

$$J = \frac{\partial(u,t)}{\partial(u,v)} = \begin{vmatrix} \frac{\partial u}{\partial u} & \frac{\partial u}{\partial v} \\ \frac{\partial t}{\partial u} & \frac{\partial t}{\partial v} \end{vmatrix} = \begin{vmatrix} 1 & 0 \\ 1 & 1 \end{vmatrix} = 1$$

$$\text{De donde } S_M = \int_{v=0}^M \int_{u=0}^{M-v} e^{-s(u+v)} f(u)g(v)du dv$$

$$\text{Definamos otra función } K(u,v) = \begin{cases} e^{-s(u+v)} f(u)g(v) & u+v \leq M \\ 0 & u+v > M \end{cases}$$

$$S_M = \int_{v=0}^M \int_{u=0}^M K(u,v)du dv, \text{ entonces } \lim_{M \rightarrow \infty} S_M = \int_{v=0}^{\infty} \int_{u=0}^{\infty} K(u,v)du dv$$

$$= \int_{v=0}^{\infty} \int_{u=0}^{\infty} e^{-s(u+v)} f(u)g(v)du dv = \left\{ \int_0^{\infty} e^{-su} f(u)du \right\} \left\{ \int_0^{\infty} e^{-sv} g(v)dv \right\} = F(s)G(s)$$

Halle:

$$\bullet \quad L^{-1} \left\{ \frac{s}{(s^2 + a^2)^2} \right\}$$

$$L^{-1} \left\{ \frac{s}{(s^2 + a^2)^2} \right\}$$

Usando el integral de convolución tenemos que :

$$L^{-1} \left\{ \frac{s}{(s^2 + a^2)} \frac{1}{(s^2 + a^2)} \right\} = \cos(at) * \frac{1}{a} \operatorname{sen}(at)$$

$$\begin{aligned} L^{-1} \left\{ \frac{s}{(s^2 + a^2)} \frac{1}{(s^2 + a^2)} \right\} &= \int_0^t \cos(au) \frac{\operatorname{sen}(a(t-u))}{a} du \\ &= \frac{1}{a} \int_0^t \cos(au) [\operatorname{sen}(at) \cos(au) - \cos(at) \operatorname{sen}(au)] du \\ &= \frac{1}{a} \operatorname{sen}(at) \int_0^t \cos^2(au) du - \frac{1}{a} \cos(at) \int_0^t \operatorname{sen}(au) \cos(au) du \\ &= \frac{1}{a} \operatorname{sen}(at) \int_0^t \left(\frac{1 + \cos(2au)}{2} \right) du - \frac{1}{a} \cos(at) \int_0^t \frac{\operatorname{sen}(2au)}{2} du \\ &= \frac{1}{a} \operatorname{sen}(at) \left(\frac{t}{2} + \frac{\operatorname{sen}(2at)}{4a} \right) - \frac{1}{a} \cos(at) \left(\frac{1 - \cos(2at)}{4a} \right) \\ &= \frac{1}{a} \operatorname{sen}(at) \left(\frac{t}{2} + \frac{\operatorname{sen}(at) \cos(at)}{2a} \right) - \frac{1}{a} \cos(at) \left(\frac{\operatorname{sen}^2(at)}{2a} \right) \\ &= \frac{t \operatorname{sen}(at)}{2a} \end{aligned}$$

Resolución de ecuaciones diferenciales mediante la transformada de Laplace

Encuentre la solución de la siguiente ecuación diferencial:

- $y'''' + 4y''' + 5y'' + 2y' = 10 \cos(t), \quad y(0) = y'(0) = 0 \quad y''(0) = 3$

Aplicando la transformada de Laplace

$$L\{y''''\} + 4L\{y'''\} + 5L\{y''\} + 2L\{y'\} = 10L\{\cos(t)\}$$

Encuentro las transformadas necesarias :

$$L\{y''''\} = s^3 Y(s) - s^2 y(0) - sy'(0) - y''(0) = s^3 Y(s) - 3$$

$$L\{y'''\} = s^2 Y(s) - sy(0) - y'(0) = s^2 Y(s)$$

$$L\{y''\} = sY(s) - y(0) = sY(s)$$

$$L\{y'\} = Y(s)$$

$$L\{\cos(t)\} = \frac{s}{s^2 + 1}$$

Reemplazando las transformadas :

$$(s^3 Y(s) - 3) + 4(s^2 Y(s)) + 5(sY(s)) + 2Y(s) = 10 \frac{s}{s^2 + 1}$$

$$(s^3 + 4s^2 + 5s + 2)Y(s) - 3 = 10 \frac{s}{s^2 + 1}$$

$$(s + 1)^2 (s + 2)Y(s) = \frac{3s^2 + 10s + 3}{s^2 + 1}$$

$$Y(s) = \frac{3s^2 + 10s + 3}{(s^2 + 1)(s + 1)^2 (s + 2)} = \frac{A}{s + 2} + \frac{B}{s + 1} + \frac{C}{(s + 1)^2} + \frac{Ds + E}{s^2 + 1}$$

$$\rightarrow 3s^2 + 10s + 3 = A(s + 1)^2 (s^2 + 1) + B(s + 1)(s^2 + 1)(s + 2) + C(s^2 + 1)(s + 2) + (Ds + E)(s + 1)^2 (s + 2)$$

$$3s^2 + 10s + 3 = (A + B + D)s^4 + (2A + 3B + C + 4D + E)s^3 + (2A + 3B + 2C + 5D + 4E)s^2 + (2A + 3B + C + 2D + 5E)s + (A + 2B + 2C + 2E)$$

Tenemos el siguiente sistema de ecuaciones :

$$A + B + D = 0$$

$$2A + 3B + C + 4D + E = 0$$

$$2A + 3B + 2C + 5D + 4E = 3$$

$$2A + 3B + C + 2D + 5E = 10$$

$$A + 2B + 2C + 2E = 3$$

$$\text{De donde } A = -1, B = 2, C = -2, D = -1, E = 2$$

$$Y(s) = \frac{-1}{s + 2} + \frac{2}{s + 1} - \frac{2}{(s + 1)^2} + \frac{-s + 2}{s^2 + 1}$$

$$y(t) = L^{-1}\{Y(s)\} = L^{-1}\left\{\frac{-1}{s + 2} + \frac{2}{s + 1} - \frac{2}{(s + 1)^2} + \frac{-s + 2}{s^2 + 1}\right\}$$

$$\underline{\underline{y(t) = -e^{-2t} + 2e^{-t} - 2te^{-t} - \cos(t) + 2\sin(t)}}$$

Encuentre la solución de la siguiente ecuación diferencial:

$$\bullet \quad \frac{d^2 y}{dt^2} + 4y = h(t), \quad \text{donde } h(t) = \begin{cases} -4t + 8\pi & ; 0 < t < 2\pi \\ 0 & ; t > 2\pi \end{cases}, \quad y(0) = 2, y'(0) = 0$$

Aplicando la transformada de Laplace

$$L\{y''\} + 4L\{y\} = L\{h(t)\}$$

Encuentro las transformadas necesarias :

$$L\{y''\} = s^2 Y(s) - sy(0) - y'(0) = s^2 Y(s) - 2s$$

$$L\{y\} = Y(s)$$

$$L\{h(t)\} = L\{(\mu_0(t) - \mu_{2\pi}(t))(-4t + 8\pi)\} = L\{(\mu_0(t))(-4t + 8\pi)\} + 4L\{(\mu_{2\pi}(t))(t - 2\pi)\}$$

$$L\{h(t)\} = \frac{-4}{s^2} + \frac{8\pi}{s} + 4e^{-2\pi s} \frac{1}{s^2}$$

Reemplazando :

$$s^2 Y(s) - 2s + 4Y(s) = \frac{-4}{s^2} + \frac{8\pi}{s} + 4e^{-2\pi s} \frac{1}{s^2}$$

$$(s^2 + 4)Y(s) = \frac{2s^3 + 8\pi s - 4}{s^2} + e^{-2\pi s} \frac{4}{s^2}$$

$$Y(s) = \frac{2s^3 + 8\pi s - 4}{s^2(s^2 + 4)} + e^{-2\pi s} \frac{4}{s^2(s^2 + 4)}$$

Encuentro fracciones parciales :

$$\bullet \quad \frac{2s^3 + 8\pi s - 4}{s^2(s^2 + 4)} = \frac{A}{s} + \frac{B}{s^2} + \frac{Cs + D}{s^2 + 4}$$

$$2s^3 + 8\pi s - 4 = As(s^2 + 4) + B(s^2 + 4) + (Cs + D)s^2$$

$$2s^3 + 8\pi s - 4 = (A + C)s^3 + (B + D)s^2 + (4A)s + (4B)$$

$$A + C = 2$$

$$B + D = 0$$

$$4A = 8\pi$$

$$4B = -4$$

Re solviendo el sistema tenemos que : $A = 2\pi, B = -1, C = 2 - 2\pi, D = 1$

$$\bullet \quad \frac{4}{s^2(s^2 + 4)} = \frac{A}{s} + \frac{B}{s^2} + \frac{Cs + D}{s^2 + 4}$$

$$4 = As(s^2 + 4) + B(s^2 + 4) + (Cs + D)s^2$$

$$4 = (A + C)s^3 + (B + D)s^2 + (4A)s + (4B)$$

$$A + C = 0$$

$$B + D = 0$$

$$4A = 0$$

$$4B = 4$$

Re solviendo el sistema tenemos que : $A = 0, B = 1, C = 0, D = -1$

$$Y(s) = \frac{2\pi}{s} - \frac{1}{s^2} + \frac{(2 - 2\pi)s + 1}{s^2 + 4} + e^{-2\pi s} \left(\frac{1}{s^2} - \frac{1}{s^2 + 4} \right)$$

$$y(t) = 2\pi - t + (2 - 2\pi)\cos(2t) + \frac{\sin(2t)}{2} + \mu_{2\pi}(t) \left[(t - 2\pi) - \frac{\sin(2(t - 2\pi))}{2} \right]$$

- Determinar la solución del siguiente problema de valor inicial:

$$y''(t) + y(t) = f(t) + \delta(t - 2\pi); \quad y(0) = 0 \wedge y'(0) = 1 \wedge f(t) = \begin{cases} 0, & 0 \leq t < \pi \\ 1, & \pi \leq t < 2\pi \\ 0, & t \geq 2\pi \end{cases}$$

Primero se expresa $f(t)$ en términos de funciones escalones de la siguiente manera:

$$f(t) = u(t - \pi) - u(t - 2\pi)$$

Se reemplaza $f(t)$ en la ecuación diferencial y se procede a resolverla usando transformadas de Laplace:

$$\begin{aligned} y''(t) + y(t) &= u(t - \pi) - u(t - 2\pi) + \delta(t - 2\pi) \\ \mathcal{L}[y''(t)] + \mathcal{L}[y(t)] &= \mathcal{L}[u(t - \pi)] - \mathcal{L}[u(t - 2\pi)] + \mathcal{L}[\delta(t - 2\pi)] \\ [S^2 Y(S) - Sy(0) - y'(0)] + [Y(S)] &= \frac{e^{-\pi S}}{S} - \frac{e^{-2\pi S}}{S} + e^{-2\pi S} \\ [S^2 Y(S) - 1] + [Y(S)] &= \frac{e^{-\pi S}}{S} - \frac{e^{-2\pi S}}{S} + e^{-2\pi S} \\ (S^2 + 1)Y(S) &= \frac{e^{-\pi S}}{S} - \frac{e^{-2\pi S}}{S} + e^{-2\pi S} + 1 \end{aligned}$$

Despejando $Y(S)$:

$$Y(S) = \frac{e^{-\pi S}}{S(S^2 + 1)} - \frac{e^{-2\pi S}}{S(S^2 + 1)} + \frac{e^{-2\pi S}}{(S^2 + 1)} + \frac{1}{(S^2 + 1)}$$

Encontrando la solución mediante transformada inversa de Laplace:

$$\begin{aligned} y(t) &= \mathcal{L}^{-1}\left[\frac{e^{-\pi S}}{S(S^2 + 1)}\right] - \mathcal{L}^{-1}\left[\frac{e^{-2\pi S}}{S(S^2 + 1)}\right] + \mathcal{L}^{-1}\left[\frac{e^{-2\pi S}}{(S^2 + 1)}\right] + \mathcal{L}^{-1}\left[\frac{1}{(S^2 + 1)}\right] \\ \text{i)} \quad \mathcal{L}^{-1}\left[\frac{1}{(S^2 + 1)}\right] &= \text{Sen}(t) \\ \text{ii)} \quad \mathcal{L}^{-1}\left[\frac{e^{-2\pi S}}{(S^2 + 1)}\right] &= \text{Sen}(t - 2\pi)u(t - 2\pi) \end{aligned}$$

$$*** \quad \mathcal{L}^{-1}\left[\frac{1}{S(S^2 + 1)}\right] = \int_0^t \text{Sen}(u) du = -[\cos(u)]_0^t = 1 - \cos(t)$$

$$\text{iii)} \quad \text{Entonces } \mathcal{L}^{-1}\left[\frac{e^{-2\pi S}}{S(S^2 + 1)}\right] = [1 - \cos(t - 2\pi)]u(t - 2\pi)$$

$$\text{iv)} \quad \mathcal{L}^{-1}\left[\frac{e^{-\pi S}}{S(S^2 + 1)}\right] = [1 - \cos(t - \pi)]u(t - \pi)$$

$$\begin{aligned} y(t) &= [1 - \cos(t - \pi)]u(t - \pi) \\ &- [1 - \cos(t - 2\pi)]u(t - 2\pi) + \text{Sen}(t - 2\pi)u(t - 2\pi) + \text{Sen}(t) \end{aligned}$$

Encuentre la solución de la siguiente ecuación integro - diferencial:

- $\int_0^t y(u)y(t-u)du = 2y(t) + \frac{t^3}{6} - \delta(t)$

Aplicando la transformada de Laplace

$$L\left\{\int_0^t y(u)y(t-u)du\right\} = 2L\{y(t)\} + L\left\{\frac{t^3}{6}\right\} - L\{\delta(t)\}$$

Encuentro las transformadas necesarias :

$$L\left\{\int_0^t y(u)y(t-u)du\right\} = L\{y(t) * y(t)\} = Y^2(s)$$

$$L\{y(t)\} = Y(s)$$

$$L\left\{\frac{t^3}{6}\right\} = \frac{3!}{6s^4} = \frac{1}{s^4}$$

$$L\{\delta(t)\} = 1$$

Reemplazando :

$$Y^2(s) = 2Y(s) + \frac{1}{s^4} - 1$$

$$Y^2(s) - 2Y(s) + \left(\frac{s^4 - 1}{s^4}\right) = 0$$

$$Y_{1,2}(s) = \frac{2 \pm \sqrt{4 - 4\left(\frac{s^4 - 1}{s^4}\right)}}{2} = \frac{2 \pm \sqrt{\frac{4s^4 - 4s^4 + 4}{s^4}}}{2}$$

$$Y_1(s) = 1 + \frac{1}{s^2} \rightarrow \underline{\underline{y_1(t) = \delta(t) + t}}$$

$$Y_2(s) = 1 - \frac{1}{s^2} \rightarrow \underline{\underline{y_2(t) = \delta(t) - t}}$$

Encuentre la solución de la siguiente ecuación diferencial de coeficientes variables:

- $ty'' + (1 - 2t)y' - 2y = 0, \quad y(0) = 1, \quad y'(0) = 2$

Aplicando la transformada de Laplace

$$L\{ty''\} + L\{(1 - 2t)y'\} - 2L\{y\} = 0$$

Encuentro las transformadas necesarias :

$$L\{ty''\} = -\frac{d}{ds}L\{y''\} = -\frac{d}{ds}[s^2Y(s) - sy(0) - y'(0)] = -s^2Y'(s) - 2sY(s) + 1$$

$$L\{(1 - 2t)y'\} = L\{y'\} - 2L\{ty'\} = (sY(s) - y(0)) + 2\frac{d}{ds}[sY(s) - y(0)]$$

$$L\{(1 - 2t)y'\} = (sY(s) - 1) + 2(Y(s) + sY'(s)) = 2sY'(s) + (s + 2)Y(s) - 1$$

$$L\{y\} = Y(s)$$

Reemplazando :

$$(-s^2Y'(s) - 2sY(s) + 1) + (2sY'(s) + (s + 2)Y(s) - 1) - 2Y(s) = 0$$

$$(-s^2 + 2s)Y'(s) + (-2s + s + 2 - 2)Y(s) = 0$$

$$-s(s - 2)Y'(s) - sY(s) = 0$$

$$-s(s - 2)Y'(s) = sY(s)$$

$$\frac{Y'(s)}{Y(s)} = \frac{s}{-s(s - 2)}$$

$$\int \frac{Y'(s)}{Y(s)} = -\int \frac{ds}{(s - 2)}$$

$$\ln(Y(s)) = -\ln(s - 2) + \ln(K)$$

$$Y(s) = \frac{K}{s - 2} \rightarrow \underline{y(t) = Ke^{2t}}$$

$$y(0) = Ke^{2(0)} = 1 \rightarrow \underline{K = 1}$$

$$\underline{\underline{y(t) = e^{2t}}}$$

Encuentre la solución de la siguiente ecuación diferencial de coeficientes variables:

• $t y'' - (t+2)y' + 3y = t - 1$

Aplicando la transformada de Laplace

$$L\{ty''\} - L\{(t+2)y'\} + 3L\{y\} = L\{t\} - L\{1\}$$

Encuentro las transformadas necesarias :

$$L\{ty''\} = -\frac{d}{ds} L\{y''\} = -\frac{d}{ds} [s^2 Y(s) - sy'(0) - y'(0)] = -s^2 Y'(s) - 2sY(s) + k_1$$

$$L\{(t+2)y'\} = L\{ty'\} + 2L\{y'\} = -\frac{d}{ds} [sY(s) - y(0)] + 2[sY(s) - y(0)]$$

$$L\{(t+2)y'\} = 2[sY(s) - k_1] - (Y(s) + sY'(s)) = -sY'(s) + (2s-1)Y(s) - 2k_1$$

$$L\{y\} = Y(s)$$

$$L\{t\} - L\{1\} = \frac{1}{s^2} - \frac{1}{s} = \frac{1-s}{s^2}$$

Reemplazando :

$$(-s^2 Y'(s) - 2sY(s) + k_1) - (-sY'(s) + (2s-1)Y(s) - 2k_1) + 3Y(s) = \frac{1-s}{s^2}$$

$$(-s^2 + s)Y'(s) + (-2s - 2s + 1 + 3)Y(s) + (k_1 + 2k_1) = \frac{1-s}{s^2}$$

$$-s(s-1)Y'(s) - 4(s-1)Y(s) = \frac{1-s-3k_1 s^2}{s^2}$$

$$Y'(s) + \frac{2}{s} Y(s) = \frac{-1+s+3k_1 s^2}{s^3(s-1)}$$

$$u(s) = e^{\int \frac{2}{s} ds} = e^{2 \ln(s)} = (s)^2$$

$$u(s)Y(s) = \int u(s) \left(\frac{-1+s+3k_1 s^2}{s^3(s-1)} \right) ds$$

$$(s)^2 Y(s) = \int \left(\frac{-1+s+3k_1 s^2}{s(s-1)} \right) ds = \int \left(\frac{1}{s} + 3k_1 \frac{1}{s-1} \right) ds$$

$$s^2 Y(s) = \ln(s) + 3k_1 \ln(s-1) + k_2 = \ln(s(s-1)^{3k_1}) + k_2$$

$$Y(s) = \frac{\ln(s(s-1)^{3k_1})}{s^2} + \frac{k_2}{s^2} \rightarrow y(t) = L^{-1}\{Y(s)\}$$

$$y(t) = L^{-1}\left\{\frac{\ln(s(s-1)^{3k_1})}{s^2} + \frac{k_2}{s^2}\right\} = L^{-1}\left\{\frac{\ln(s(s-1)^{3k_1})}{s^2}\right\} + L^{-1}\left\{\frac{k_2}{s^2}\right\}$$

$$L^{-1}\left\{\frac{\ln(s(s-1)^{3k_1})}{s^2}\right\} = L^{-1}\left\{\ln(s(s-1)^{3k_1}) \frac{1}{s^2}\right\} = L^{-1}\{F(s)G(s)\} = f(t) * g(t)$$

$$f(t) = L^{-1}\{\ln(s(s-1)^{3k_1})\} \rightarrow tf(t) = -L^{-1}\left\{\frac{d}{ds} \ln(s(s-1)^{3k_1})\right\} = -L^{-1}\left\{\frac{(3k_1+1)s-1}{s(s-1)}\right\}$$

$$tf(t) = -\left[L^{-1}\left\{\frac{(3k_1)}{(s-1)} + \frac{1}{s}\right\}\right] = -(3k_1 e^t + 1) \rightarrow f(t) = \frac{-(3k_1 e^t + 1)}{t}$$

$$g(t) = L^{-1}\left\{\frac{1}{s^2}\right\} = t$$

$$y(t) = \frac{-(3k_1 e^t + 1)}{t} * t + k_2 t \rightarrow y(t) = \int_0^t \frac{-(3k_1 e^u + 1)}{u} (t-u) du + k_2 t$$

Método de eliminación

1) Usando el método de eliminación, resuelva el siguiente sistema de ecuaciones diferenciales:

$$\begin{cases} 2x' + y' - x - y = e^{-t} & (1) \\ x' + y' + 2x + y = e^t & (2) \end{cases}$$

Restando: (1)-(2);

Se obtiene:

$$x' - 3x - 2y = e^{-t} - e^t$$

Despejando y :

$$y = \frac{x'}{2} - \frac{3x}{2} + \frac{e^t - e^{-t}}{2}$$

Reemplazando y en (1):

$$2x' + \left(\frac{x'}{2} - \frac{3x}{2} + \frac{e^t}{2} - \frac{e^{-t}}{2} \right)' - x - \left(\frac{x'}{2} - \frac{3x}{2} + \frac{e^t}{2} - \frac{e^{-t}}{2} \right) = e^{-t}$$

$$\Rightarrow 2x' + \frac{x''}{2} - \frac{3x'}{2} + \frac{e^t}{2} + \frac{e^{-t}}{2} - x - \frac{x'}{2} + \frac{3x}{2} - \frac{e^t}{2} + \frac{e^{-t}}{2} = e^{-t}$$

$$\Rightarrow \frac{x''}{2} + \frac{x}{2} = 0 \quad \Rightarrow \quad x'' + x = 0$$

$$\Rightarrow \text{si } x = e^{rt}$$

$$\Rightarrow e^{rt}[r^2 + 1] = 0$$

$$\Rightarrow r^2 + 1 = 0$$

$$\Rightarrow r_{1,2} = \pm i$$

$$\Rightarrow x = C_1 \cos t + C_2 \sin t$$

$$\Rightarrow y = \frac{x'}{2} - \frac{3x}{2} + \frac{e^t}{2} - \frac{e^{-t}}{2}$$

$$x' = -C_1 \sin t + C_2 \cos t$$

$$\Rightarrow y = -\frac{C_1}{2} \sin t + \frac{C_2}{2} \cos t - \frac{3}{2}(C_1 \cos t + C_2 \sin t) + \frac{e^t}{2} - \frac{e^{-t}}{2}$$

$$y = \underbrace{\left(-\frac{C_1}{2} - \frac{3C_2}{2} \right)}_{k_1} \sin t + \underbrace{\left(\frac{C_2}{2} - \frac{3C_1}{2} \right)}_{k_2} \cos t + \frac{e^t}{2} - \frac{e^{-t}}{2}$$

$$\Rightarrow y = k_1 \sin t + k_2 \cos t + \frac{e^t}{2} - \frac{e^{-t}}{2}; \quad \text{Pero } \frac{e^t - e^{-t}}{2} = \sinh t$$

Solución:

$$\begin{cases} x = C_1 \cos t + C_2 \sin t \\ y = k_1 \sin t + k_2 \cos t + \sinh t \end{cases}$$

2) Utilice el método de eliminación para encontrar la solución general del sistema lineal dado, donde x' , y' , z' denotan diferenciación con respecto a t .

$$\frac{dx}{dt} = 2x - 3y \quad \textcircled{1}$$

$$\frac{dy}{dt} = y - 2x \quad \textcircled{2}$$

De la primera ecuación despejamos y ;

$$\Rightarrow y = \frac{1}{3}(2x) - \frac{1}{3} \frac{dx}{dt}$$

$$\Rightarrow y = \frac{2}{3}x - \frac{x'}{3}$$

Reemplazando y en la segunda ecuación:

$$\Rightarrow \frac{dy}{dt} = \frac{2}{3}x' - \frac{x''}{3}$$

$$\Rightarrow \frac{2}{3}x' - \frac{x''}{3} = \frac{2}{3}x - \frac{x'}{3} - 2x$$

Multiplicando la ecuación por 3;

$$\Rightarrow 2x' - x'' = 2x - x' - 6x$$

$$\Rightarrow x'' - 3x' - 4x = 0$$

Obtenemos una ecuación diferencial de coeficientes constantes:

Resolviendo la ecuación 3 con $x=e^{rt}$;

$$\Rightarrow e^{rt} [r^2 - 3r - 4] = 0$$



Ecuación Característica

$$\Rightarrow r^2 - 3r - 4 = 0$$

$$(r - 4)(r + 1) = 0$$

$$\Rightarrow r_1 = 4, r_2 = -1$$

$$\Rightarrow x_1 = e^{4t}, x_2 = e^{-t}$$

$$\Rightarrow x = c_1 e^{4t} + c_2 e^{-t};$$

Ahora encontremos y :

$$y = \frac{2}{3}(x) - \frac{1}{3}(x')$$

$$x = C_1 e^{4t} + C_2 e^{-t}$$

$$x' = 4C_1 e^{4t} - C_2 e^{-t}$$

⇒ Reemplazando x , y y x' en y :

$$\Rightarrow y = \frac{2}{3}[C_1 e^{4t} + C_2 e^{-t}] - \frac{1}{3}[4C_1 e^{4t} - C_2 e^{-t}]$$

$$y = -\frac{2}{3}C_1 e^{4t} + C_2 e^{-t}$$

*** Encuentre la solución particular del problema anterior dado:
 $x(0)=8$, $y(0)=3$**

Del ejercicio anterior:

$$\begin{cases} x = C_1 e^{4t} + C_2 e^{-t} \\ y = -\frac{2}{3}C_1 e^{4t} + C_2 e^{-t} \end{cases}$$

Como $x(0)=8$, entonces:

$$8 = C_1 + C_2 \quad \textcircled{1}$$

Como $y(0)=3$, entonces:

$$3 = -\frac{2}{3}C_1 + C_2 \quad \textcircled{2}$$

Con $\textcircled{1}$ y $\textcircled{2}$ se obtiene un sistema de 2 ecuaciones con dos incógnitas; resolviendo el sistema se obtiene:

$$C_2=5, \quad C_1=3$$

$$\Rightarrow \text{La solución particular es: } \begin{cases} x = 3e^{4t} + 5e^{-t} \\ y = -2e^{4t} + 5e^{-t} \end{cases}$$

Método de los operadores diferenciales

1) Usando el método de las operaciones diferenciales resuelva el siguiente sistema de ecuaciones diferenciales:

$$\begin{cases} (D^2 - 4D + 4)x_1 + (D^2 + 2D)x_2 = t \\ (D^2 - 2D)x_1 + (D^2 + 4D + 4)x_2 = e^t \end{cases}$$

$$\begin{cases} (D - 2)^2 x_1 + D(D + 2)x_2 = t \\ D(D - 2)x_1 + (D + 2)^2 x_2 = e^t \end{cases}$$

Encontrando $x_1(t)$ usando la regla de Kramer se obtiene que:

$$x_1(t) = \frac{\begin{vmatrix} t & D(D+2) \\ e^t & (D+2)^2 \end{vmatrix}}{\begin{vmatrix} (D-2)^2 & D(D+2) \\ D(D-2) & (D+2)^2 \end{vmatrix}} = \frac{(D+2)^2 t - D(D+2)e^t}{(D-2)^2(D+2)^2 - D(D+2)D(D-2)} = \frac{(D+2)[(D+2)t - De^t]}{(D+2)(D-2)[(D+2)(D-2) - D^2]}$$

$$x_1(t) = \frac{(D+2)(1+2t-e^t)}{(D^2-4)(D^2-4-D^2)} = \frac{2-e^t+2+4t-2e^t}{-4(D^2-4)} = \frac{4+4t-3e^t}{-4(D^2-4)}$$

$$x_1(t) = \frac{4+4t-3e^t}{-4(D^2-4)};$$

$$-4(D^2-4)x_1(t) = 4+4t-3e^t;$$

$$(D^2-4)x_1(t) = -1-t+\frac{3}{4}e^t;$$

$$x_1''(t) - 4x_1(t) = -1-t+\frac{3}{4}e^t;$$

Encontrando la solución homogénea:

$$x_1''(t) - 4x_1(t) = 0;$$

$$x_1(t) = e^{rt};$$

$$e^{rt}[r^2 - 4] = 0;$$

$$r^2 - 4 = 0; \quad r_{1,2} = \pm 2;$$

$$x_{1h}(t) = C_1 e^{2t} + C_2 e^{-t};$$

Encontrando la solución particular x_{p1} :

$$x_{p1} = a + bt + ce^t;$$

$$x'_{p1} = b + ce^t;$$

$$x''_{p1} = ce^t;$$

Reemplazando en $x_1''(t) - 4x_1(t) = -1-t+\frac{3}{4}e^t$, se obtiene:

$$ce^t - 4(a + bt + ce^t) = -1-t+\frac{3}{4}e^t;$$

$$-4a - 4bt - 3ce^t = -1-t+\frac{3}{4}e^t;$$

Ahora se procede a encontrar la solución $x_2(t)$, usando la regla de Kramer:

$$x_2(t) = \frac{\begin{vmatrix} (D-2)^2 & t \\ D(D-2) & e^t \end{vmatrix}}{\begin{vmatrix} (D-2)^2 & D(D+2) \\ D(D-2) & (D+2)^2 \end{vmatrix}} = \frac{(D-2)^2 e^t - D(D-2)t}{-4(D^2-4)} = \frac{(D-2)[(D-2)e^t - Dt]}{-4(D^2-4)} = \frac{(D-2)(e^t - 2e^t - 1)}{-4(D^2-4)}$$

$$x_2(t) = \frac{(D-2)(-e^t - 1)}{-4(D^2-4)} = \frac{-e^t + 2e^t + 2}{-4(D^2-4)} = \frac{e^t + 2}{-4(D^2-4)};$$

$$-4(D^2-4)x_2(t) = e^t + 2;$$

$$(D^2-4)x_2(t) = -\frac{e^t}{4} - \frac{1}{2};$$

$$x_2''(t) - 4x_2(t) = -\frac{e^t}{4} - \frac{1}{2};$$

$$r_{1,2} = \pm 2;$$

$$x_{2h}(t) = C_1 e^{2t} + C_2 e^{-2t};$$

Encontrando la solución particular:

$$x_{2p} = a + be^t;$$

$$x_{2p}' = be^t;$$

$$x_{2p}'' = be^t;$$

Reemplazando x_{2p} en $x_2''(t) - 4x_2(t) = -\frac{e^t}{4} - \frac{1}{2}$:

$$be^t - 4(a + be^t) = -\frac{e^t}{4} - \frac{1}{2};$$

$$-3be^t - 4a = -\frac{e^t}{4} - \frac{1}{2};$$

$$b = \frac{1}{12}; \quad a = \frac{1}{8};$$

$$x_{2p} = \frac{1}{8} + \frac{e^t}{12};$$

$$x_2(t) = C_1 e^{2t} + C_2 e^{-2t} + \frac{1}{8} + \frac{e^t}{12};$$

La solución es:

$$\begin{cases} \mathbf{x}_1(t) = C_1 e^{2t} + C_2 e^{-t} + \frac{1}{4} + \frac{1}{4}t - \frac{1}{4}e^t; \\ x_2(t) = C_1 e^{2t} + C_2 e^{-2t} + \frac{1}{8} + \frac{e^t}{12}; \end{cases}$$

2.-) Usando el método de los operadores diferenciales resuelva el sistema:

$$\begin{cases} (D+2)(x_1) + (D-1)(x_2) = -\text{sent} & (1) \\ (D-3)(x_1) + (D+2)(x_2) = 4\cos t & (2) \end{cases}$$

Multiplico 1 por $(D-3)$ y 2 por $(D+2)$

$$(D+2)(D-3)x_1 + (D-1)(D-3)x_2 = (D-3)(-\text{sent})$$

–

$$(D+2)(D-3)x_1 + (D+2)^2 x_2 = (D+2)(4\cos t)$$

$$(D^2 - 4D + 3)x_2 - (D^2 + 4D + 4)x_2 = -\cos t + 3\text{sent} + t\text{sent} - 8\cos t$$

$$(-8D - 1)x_2 = 7\text{sent} - 9\cos t$$

$$-8x_2' - x_2 = 7\text{sent} - 9\cos t$$

$$8x_2' + x_2 = 9\cos t - 7\text{sent};$$

$$8x_2' + x_2 = 0;$$

$$x_2 = e^{rt};$$

$$x_2' = re^{rt};$$

$$8r + 1 = 0;$$

$$r = -\frac{1}{8};$$

$$x_2 = Ce^{-\frac{1}{8}t};$$

$$x_2 = A\cos t + B\text{sent};$$

$$x_2' = -A\text{sent} + B\cos t;$$

$$8x_2' + x_2 = 0;$$

$$8(-A\text{sent} + B\cos t) + A\cos t + B\text{sent} = 0;$$

$$(-8A + B)\text{sent} + (8B + A)\cos t = 9\cos t - 7\text{sent};$$

$$\begin{cases} -8A + B = -7; \\ 8B + A = 9; \end{cases}$$

Resolviendo el sistema :

$$A = 1, \quad B = 1,$$

La solución particular es :

$$x_{2p} = \cos t + \text{sent};$$

$$x_2 = Ce^{-\frac{1}{8}t} + \cos t + \text{sent};$$

Ahora procedemos a encontrar x_1 del sistema de ecuaciones:

$$\begin{cases} (D+2)(x_1) + (D-1)(x_2) = -\operatorname{sent} & (1) \end{cases}$$

$$\begin{cases} (D-3)(x_1) + (D+2)(x_2) = 4 \cos t & (2) \end{cases}$$

$$x_1' + 2x_1 + x_2' - x_2 = -\operatorname{sent}; \quad (1)$$

$$x_1' - 3x_1 + x_2' + 2x_2 = 4 \cos t \quad (2)$$

Restando (1) y (2), se obtiene :

$$5x_1 - 3x_2 = -\operatorname{sent} - 4 \cos t;$$

$$x_1 = 3x_2 - \operatorname{sent} - 4 \cos t;$$

$$x_1 = 3 \left(\operatorname{Ce}^{-\frac{1}{8}t} + \cos t + \operatorname{sent} \right) - \operatorname{sent} - 4 \cos t;$$

$$x_1 = 3 \operatorname{Ce}^{-\frac{1}{8}t} - \cos t + 2 \operatorname{sent};$$

La solución del sistema es :

$$\begin{cases} x_1 = 3 \operatorname{Ce}^{-\frac{1}{8}t} - \cos t + 2 \operatorname{sent}; \\ x_2 = \operatorname{Ce}^{-\frac{1}{8}t} + \cos t + \operatorname{sent}; \end{cases}$$

Método de Laplace

1) Utilice el método de las transformadas de Laplace para resolver el problema de valor inicial dado. Aquí x' , y' , etc. denotan diferenciación con respecto a t .

$$\begin{cases} x' - 3x' + 2y = \text{sent}; & x(0) = 0; & \textcircled{1} \\ 4x - y' - y = \text{cost}; & y(0) = 0; & \textcircled{2} \end{cases}$$

Aplicando transformada de Laplace a las dos ecuaciones:

$$\begin{cases} \mathcal{L}[x'] - 3\mathcal{L}[x] + 2\mathcal{L}[y] = \mathcal{L}[\text{sent}] \\ \mathcal{L}[4x] - \mathcal{L}[y'] - \mathcal{L}[y] = \mathcal{L}[\text{cost}] \end{cases}$$

$$\begin{cases} 5x(s) - x(0) - 3x(s) + 2y(s) = \frac{1}{s^2 + 1}; & \textcircled{1} \\ 4x(s) - sy(s) - y(0) - y(s) = \frac{s}{s^2 + 1}; & \textcircled{2} \end{cases} \approx \begin{cases} (-4)(s-3)x(s) - 8y(s) = -\frac{4}{s^2 + 1}; \\ 4(s-3)x(s) - (s-3)(s+1)y(s) = \frac{s(s-3)}{s^2 + 1}; \end{cases}$$

$$\begin{cases} (-4) \left\{ \begin{aligned} (s-3)x(s) + 2y(s) &= \frac{1}{s^2 + 1} \\ 4x(s) - (s+1)y(s) &= \frac{s}{s^2 + 1} \end{aligned} \right. \end{cases}$$

Sumo $\textcircled{1}$ y $\textcircled{2}$, entonces se obtiene:

$$\begin{aligned} -[8 + (s-3)(s+1)]y(s) &= \frac{s^2 - 3s - 4}{s^2 + 1} \\ -[s^2 - 2s + 5]y(s) &= \frac{(s-4)(s+1)}{s^2 + 1} \\ \Rightarrow y(s) &= -\frac{(s^2 - 3s - 4)}{(s^2 - 2s + 5)(s^2 + 1)} = -\left[\frac{As + B}{s^2 - 2s + 5} + \frac{Cs + D}{s^2 + 1} \right] \end{aligned}$$

$$\Rightarrow \frac{s^2 - 3s - 4}{(s^2 - 2s + 5)(s^2 + 1)} = \frac{(A+C)(s^3) + (B+D-2C)s^2 + (A-2D+5C)s + (B+5D)}{(s^2 - 2s + 5)(s^2 + 1)}$$

$$\Rightarrow \begin{cases} A + C = 0 \\ B + D - 2C = 1 \\ A - 2D + 5C = -3 \\ B + 5D = -4 \end{cases} \quad \text{Resolviendo el sistema:} \quad \begin{cases} A = 11/10; \\ B = -1/2; \\ C = -11/10; \\ D = -7/10; \end{cases}$$

$$\Rightarrow y(s) = -\left[\frac{\frac{11}{10}s - \frac{1}{2}}{s^2 - 2s + 5} + \frac{-\frac{11}{10}s - \frac{7}{10}}{s^2 + 1} \right]$$

$$y(s) = \frac{\frac{1}{2} - \frac{11}{10}s}{[(s-1)^2 + 4]} + \frac{\frac{11}{10}s + \frac{7}{10}}{s^2 + 1}$$

$$y(s) = \frac{1}{2} \cdot \frac{1}{[(s-1)^2 + 4]} - \frac{11}{10} \cdot \frac{s}{[(s-1)^2 + 4]} + \frac{11}{10} \cdot \frac{s}{s^2 + 1} + \frac{7}{10} \cdot \frac{1}{s^2 + 1}$$

$$y(s) = \frac{1}{4} \cdot \frac{2}{[(s-1)^2 + 4]} - \frac{11}{10} \cdot \frac{(s-1+1)}{[(s-1)^2 + 4]} + \frac{11}{10} \cdot \frac{s}{s^2 + 1} + \frac{7}{10} \cdot \frac{1}{s^2 + 1}$$

$$y(s) = \frac{1}{4} \cdot \frac{2}{[(s-1)^2 + 4]} - \frac{11}{10} \cdot \frac{(s-1)}{[(s-1)^2 + 4]} - \frac{11}{20} \cdot \frac{2}{[(s-1)^2 + 4]} + \frac{11}{10} \cdot \frac{s}{s^2 + 1} + \frac{7}{10} \cdot \frac{1}{s^2 + 1}$$

⇒ Aplicando transformada inversa de Laplace a $y(s)$:

$$L^{-1}[y(s)] = y(t);$$

$$y(t) = \frac{1}{4} L^{-1} \left[\frac{2}{[(s-1)^2 + 4]} \right] - \frac{11}{10} L^{-1} \left[\frac{(s-1)}{[(s-1)^2 + 4]} \right] - \frac{11}{20} L^{-1} \left[\frac{2}{[(s-1)^2 + 4]} \right] + \frac{11}{10} L^{-1} \left[\frac{s}{s^2 + 1} \right] + \frac{7}{10} L^{-1} \left[\frac{1}{s^2 + 1} \right]$$

$$y(t) = \frac{1}{4} e^{-t} \sin(2t) - \frac{11}{10} e^{-t} \cos(2t) - \frac{11}{20} e^{-t} \sin(2t) + \frac{11}{10} \cos(t) + \frac{7}{10} \sin(t)$$

$$y(t) = -\frac{3}{10} e^{-t} \sin(2t) - \frac{11}{10} e^{-t} \cos(2t) + \frac{11}{10} \cos(t) + \frac{7}{10} \sin(t)$$

De la ecuación $4x - y' - y = \cos(t)$; podemos encontrar $x(t)$:

$$x(t) = \frac{y' + y + \cos(t)}{4}$$

$$y'(t) = -\frac{3}{10} [e^{-t} \cos(2t) - e^{-t} \sin(2t)] - \frac{11}{10} [-2e^{-t} \sin(2t) - e^{-t} \cos(2t)] - \frac{11}{10} \sin(t) + \frac{7}{10} \cos(t)$$

$$\frac{y'(t)}{4} = \frac{1}{5} e^{-t} \cos(2t) + \frac{5}{8} e^{-t} \sin(2t) - \frac{11}{40} \sin(t) + \frac{7}{40} \cos(t)$$

$$\frac{y(t)}{4} = -\frac{3}{40} e^{-t} \sin(2t) - \frac{11}{40} e^{-t} \cos(2t) + \frac{11}{40} \cos(t) + \frac{7}{40} \sin(t)$$

La solución:

$$\begin{cases} x(t) = -\frac{3}{40} e^{-t} \cos(2t) + \frac{11}{20} e^{-t} \sin(2t) - \frac{1}{10} \sin(t) + \frac{7}{10} \cos(t) \\ y(t) = -\frac{3}{10} e^{-t} \sin(2t) - \frac{11}{10} e^{-t} \cos(2t) + \frac{11}{10} \cos(t) + \frac{7}{10} \sin(t) \end{cases}$$

2) Resolver $\begin{cases} X''+Y'+3X=15e^{-t} \\ Y''-4X'+3Y=15t \end{cases}$ con las condiciones $X(0)=0, X'(0)=0, Y(0)=0, Y'(0)=0$.

Aplicando la transformada de Laplace a ambas ecuaciones:

$$\begin{cases} \mathcal{L}[X''+Y'+3X]=\mathcal{L}[15e^{-t}] \\ \mathcal{L}[Y''-4X'+3Y]=\mathcal{L}[15t] \end{cases}$$

$$\begin{cases} [s^2X(s)-sX(0)-X'(0)]+[sY(s)-Y(0)]-X(s)=\frac{15}{s+1}; \\ [s^2Y(s)-sY(0)-Y'(0)]-4[sX(s)-X(0)]-Y(s)=\frac{15}{s^2}; \end{cases}$$

$$\begin{cases} [s^2X(s)]+[sY(s)]-X(s)=\frac{15}{s+1}; \\ [s^2Y(s)]-4[sX(s)]-Y(s)=\frac{15}{s^2}; \end{cases}$$

$$\begin{cases} (s^2-1)X(s)+sY(s)=\frac{15}{s+1}; \\ -4sX(s)+(s^2-1)Y(s)=\frac{15}{s^2}; \end{cases}$$

Aplicando la regla de Kramer :

$$X(S)=\frac{\begin{vmatrix} \frac{15}{s+1} & s \\ \frac{15}{s^2} & (s^2-1) \end{vmatrix}}{\begin{vmatrix} (s^2-1) & s \\ -4s & (s^2-1) \end{vmatrix}}=\frac{\frac{15(s^2-1)}{s+1}-\frac{15s}{s^2}}{(s^2-1)^2+4s^2}=\frac{\frac{15(s-1)(s+1)}{s+1}-\frac{15}{s}}{s^4+2s^2+1}=\frac{\frac{15(s-1)}{(s^2+1)^2}-\frac{15}{s}}{(s^2+1)^2}=\frac{\frac{s(s-1)-15}{s(s^2+1)^2}}{(s^2+1)^2}$$

$$X(S)=\frac{15(s^2-s)-15}{s(s^2+1)(s^2+1)}=\frac{15(s^2-s-1)}{s(s^2+1)(s^2+1)}=15\left[\frac{A}{s}+\frac{Bs+C}{(s^2+1)^2}+\frac{Ds+E}{(s^2+1)}\right]$$

Expresando $X(s)$ como la suma de fracciones parciales se obtiene que los valores de los coeficientes son :

$$A = -1, \quad B = 2, \quad C = -1, \quad D = 1, \quad E = 0$$

Por lo tanto $X(s)$ lo expresamos como :

$$X(S)=15\left[\frac{-1}{s}+\frac{2s-1}{(s^2+1)^2}+\frac{s}{(s^2+1)}\right]$$

Obteniendo $x(t)$ aplicando transformada de Laplace inversa a $X(S)$:

$$x(t)=15\mathcal{L}^{-1}\left[\frac{-1}{s}+\frac{2s-1}{(s^2+1)^2}+\frac{s}{(s^2+1)}\right]=15\mathcal{L}^{-1}\left[\frac{-1}{s}\right]+15\mathcal{L}^{-1}\left[\frac{2s-1}{(s^2+1)^2}\right]+15\mathcal{L}^{-1}\left[\frac{s}{(s^2+1)}\right];$$

$$\mathcal{L}^{-1}\left[\frac{-1}{s}\right]=-1;$$

$$\mathcal{L}^{-1}\left[\frac{s}{(s^2+1)}\right]=\cos t;$$

$$\mathcal{L}^{-1}\left[\frac{2s-1}{(s^2+1)^2}\right]=2\mathcal{L}^{-1}\left[\frac{s}{(s^2+1)^2}\right]-\mathcal{L}^{-1}\left[\frac{1}{(s^2+1)^2}\right]$$

$$\mathcal{L}^{-1}\left[\frac{s}{(s^2+1)^2}\right] = \mathcal{L}^{-1}\left[\frac{s}{(s^2+1)(s^2+1)}\right] = (\text{sent} * \cos t);$$

$$(\text{sent} * \cos t) = \int_0^t \text{sen}(u) \cos(t-u) du = \int_0^t \left[\frac{\text{sen}(t) + \text{sen}(2u-t)}{2} \right] du = \left[\frac{u \text{sen}(u)}{2} - \frac{\cos(2u-t)}{4} \right]_0^t$$

$$(\text{sent} * \cos t) = \left[\frac{t \text{sen}(t)}{2} - \frac{\cos(t)}{4} - 0 + \frac{\cos(-t)}{4} \right]_0^t = \frac{t \text{sen} t}{2};$$

$$\mathcal{L}^{-1}\left[\frac{s}{(s^2+1)^2}\right] = (\text{sent} * \cos t) = \frac{t \text{sen} t}{2};$$

$$\mathcal{L}^{-1}\left[\frac{1}{(s^2+1)^2}\right] = \mathcal{L}^{-1}\left[\frac{1}{(s^2+1)(s^2+1)}\right] = (\text{sent} * \text{sent}) = \int_0^t \text{sen}(u) \text{sen}(t-u) du = \int_0^t \left[\frac{\cos(2u-t) - \cos(t)}{2} \right] du;$$

$$\mathcal{L}^{-1}\left[\frac{1}{(s^2+1)^2}\right] = \left[\frac{\text{sen}(2u-t)}{4} - \frac{u \cos t}{2} \right]_0^t = \frac{\text{sen}(t)}{4} - \frac{t \cos t}{2} - \frac{\text{sen}(-t)}{4} = \frac{\text{sent} - t \cos t}{2}$$

$$\mathcal{L}^{-1}\left[\frac{1}{(s^2+1)^2}\right] = \frac{\text{sent} - t \cos t}{2}$$

$$\mathcal{L}^{-1}\left[\frac{2s-1}{(s^2+1)^2}\right] = 2\left[\frac{t \text{sen} t}{2}\right] - \left[\frac{\text{sent} - t \cos t}{2}\right] = t \text{sen} t - \frac{\text{sent}}{2} + \frac{t \cos t}{2}$$

$$x(t) = 15 \mathcal{L}^{-1}\left[\frac{-1}{s}\right] + 15 \mathcal{L}^{-1}\left[\frac{2s-1}{(s^2+1)^2}\right] + 15 \mathcal{L}^{-1}\left[\frac{s}{(s^2+1)}\right]$$

$$x(t) = -15 + 15\left[t \text{sen} t - \frac{\text{sent}}{2} + \frac{t \cos t}{2}\right] + 15[\cos t]$$

$$x(t) = -15 + 15t \text{sen} t - 7.5 \text{sent} + 7.5t \cos t + 15 \cos t$$

Ahora encontremos y(t) usando una ecuación del sistema:

$$X'' + Y' + 3X = 15e^{-t}$$

$$y' = 15e^{-t} - x'' - 3x;$$

$$x = -15 + 15t \text{sen} t - 7.5 \text{sent} + 7.5t \cos t + 15 \cos t;$$

$$x' = 15t \cos t + 15 \text{sen} t - 7.5 \cos t - 7.5t \text{sen} t + 7.5 \cos t - 15 \text{sent};$$

$$x' = 15t \cos t - 7.5t \text{sen} t;$$

$$x'' = -15t \text{sen} t + 15 \cos t - 7.5t \cos t - 7.5 \text{sen} t;$$

$$y' = 15e^{-t} + 15t \text{sen} t - 15 \cos t + 7.5t \cos t + 7.5 \text{sen} t - 3(-15 + 15t \text{sen} t - 7.5 \text{sent} + 7.5t \cos t + 15 \cos t);$$

$$y' = 15e^{-t} - 30t \text{sen} t - 15t \cos t - 60 \cos t + 30 \text{sen} t;$$

$$y = \left(\int 15e^{-t} - 30t \text{sen} t - 15t \cos t - 60 \cos t + 30 \text{sen} t \right)$$

$$y = -15e^{-t} + 30t \cos t - 30 \text{sen} t - 15t \text{sen} t - 15 \cos t - 60 \text{sen} t - 30 \cos t + C;$$

$$y(0) = 0, \text{ entonces } C = 45;$$

La solución es :

$$\begin{cases} x(t) = -15 + 15t \text{sen} t - 7.5 \text{sent} + 7.5t \cos t + 15 \cos t \\ y(t) = -15e^{-t} + 30t \cos t - 15t \text{sen} t - 90 \text{sen} t - 45 \cos t + 45; \end{cases}$$

Método de los valores y vectores propios

1) Resuelva por el método de los valores y vectores propios el siguiente sistema:

$$\begin{cases} x' = -4x + y + z \\ y' = x + 5y - z \\ z' = y - 3z \end{cases}$$

$$\begin{pmatrix} x' \\ y' \\ z' \end{pmatrix} = \begin{pmatrix} -4 & 1 & 1 \\ 1 & 5 & -1 \\ 0 & 1 & -3 \end{pmatrix} \begin{pmatrix} x \\ y \\ z \end{pmatrix}$$

$$A = \begin{pmatrix} -4 & 1 & 1 \\ 1 & 5 & -1 \\ 0 & 1 & -3 \end{pmatrix} \quad \det(A - \lambda I) = 0$$

$$\det(A - \lambda I) = \begin{vmatrix} -4 - \lambda & 1 & 1 \\ 1 & 5 - \lambda & -1 \\ 0 & 1 & -3 - \lambda \end{vmatrix} = (-4 - \lambda)[(5 - \lambda)(-3 - \lambda) + 1] - 1[(-3 - \lambda) - 1] = 0$$

$$(\lambda + 4)(\lambda - 5)(\lambda + 3) = 0$$

$$\lambda_1 = -4 \quad \lambda_2 = 5 \quad \lambda_3 = -3$$

$$\lambda = -4$$

$$\begin{pmatrix} 0 & 1 & 1 \\ 1 & 9 & -1 \\ 0 & 1 & 1 \end{pmatrix} \begin{pmatrix} x \\ y \\ z \end{pmatrix} = \begin{pmatrix} 0 \\ 0 \\ 0 \end{pmatrix}$$

$$\begin{cases} y + z = 0 \\ x + 9y - z = 0 \end{cases} \quad \dots \quad \begin{cases} y = -z \\ x = 10z \end{cases}$$

$$\begin{pmatrix} x \\ y \\ z \end{pmatrix} \Rightarrow \begin{pmatrix} 10z \\ -z \\ z \end{pmatrix} \Rightarrow \begin{pmatrix} 10 \\ -1 \\ 1 \end{pmatrix} z$$

$$v_1 = \begin{pmatrix} 10 \\ -1 \\ 1 \end{pmatrix}$$

$$\lambda = 5$$

$$\begin{pmatrix} -9 & 1 & 1 \\ 1 & 0 & -1 \\ 0 & 1 & -8 \end{pmatrix} \begin{pmatrix} x \\ y \\ z \end{pmatrix} = \begin{pmatrix} 0 \\ 0 \\ 0 \end{pmatrix}$$

$$\begin{cases} -y + 8z = 0 \\ x - z = 0 \end{cases} \quad \dots \quad \begin{cases} y = 8z \\ x = z \end{cases}$$

$$\begin{pmatrix} x \\ y \\ z \end{pmatrix} \Rightarrow \begin{pmatrix} z \\ 8z \\ z \end{pmatrix} \Rightarrow \begin{pmatrix} 1 \\ 8 \\ 1 \end{pmatrix} z$$

$$v_2 = \begin{pmatrix} 1 \\ 8 \\ 1 \end{pmatrix}$$

$$\lambda = -3$$

$$\begin{pmatrix} -1 & 1 & 1 \\ 1 & 8 & -1 \\ 0 & 1 & 0 \end{pmatrix} \begin{pmatrix} x \\ y \\ z \end{pmatrix} = \begin{pmatrix} 0 \\ 0 \\ 0 \end{pmatrix}$$

$$\begin{cases} -x + y + z = 0 \\ x - z = 0 \end{cases}$$

$$\begin{pmatrix} x \\ y \\ z \end{pmatrix} \Rightarrow \begin{pmatrix} z \\ 0 \\ z \end{pmatrix} \Rightarrow \begin{pmatrix} 1 \\ 0 \\ 1 \end{pmatrix} z$$

$$v_3 = \begin{pmatrix} 1 \\ 0 \\ 1 \end{pmatrix}$$

$$x(t) = c_1 v_1 e^{\lambda_1 t} + c_2 v_2 e^{\lambda_2 t} + c_3 v_3 e^{\lambda_3 t}$$

$$x(t) = c_1 \begin{pmatrix} 10 \\ -1 \\ 1 \end{pmatrix} e^{-4t} + c_2 \begin{pmatrix} 1 \\ 8 \\ 1 \end{pmatrix} e^{5t} + c_3 \begin{pmatrix} 1 \\ 0 \\ 1 \end{pmatrix} e^{-3t}$$

2) Resolver el sistema

$$X' = \begin{pmatrix} -3 & 0 & 2 \\ 1 & -1 & 0 \\ -2 & -1 & 0 \end{pmatrix} X$$

$$\begin{pmatrix} -3-\lambda & 0 & 2 \\ 1 & -1-\lambda & 0 \\ -2 & -1 & -\lambda \end{pmatrix} = 0$$

$$(-3-\lambda)[\lambda(\lambda+1)] + 2[-1-2(1+\lambda)] = 0$$

$$-(\lambda+3)(\lambda)(\lambda+1) + 2(-3-2\lambda) = 0$$

$$-\lambda^3 - 4\lambda^2 - 3\lambda - 6 - 4\lambda = 0$$

$$\lambda^3 + 4\lambda^2 + 7\lambda + 6 = 0$$

$$\lambda_1 = -2$$

$$\lambda_2 = -1 + \sqrt{2}i$$

$$\lambda_3 = -1 - \sqrt{2}i$$

Se procede a encontrar el vector propio asociado al siguiente valor:

$$* \lambda_1 = -2$$

$$\left(\begin{array}{ccc|c} -1 & 0 & 2 & 0 \\ 1 & 1 & 0 & 0 \\ -2 & -1 & 2 & 0 \end{array} \right) \approx \left(\begin{array}{ccc|c} -1 & 0 & 2 & 0 \\ 0 & 1 & 2 & 0 \\ 0 & -1 & -2 & 0 \end{array} \right) \approx \left(\begin{array}{ccc|c} -1 & 0 & 2 & 0 \\ 0 & 1 & 2 & 0 \\ 0 & 0 & 0 & 0 \end{array} \right)$$

$$y = -2z$$

$$x = 2z$$

$$v_1 = \begin{pmatrix} 2 \\ -2 \\ 1 \end{pmatrix}$$

Se procede a encontrar el vector propio asociado al siguiente valor $\lambda_3 = -1 - \sqrt{2}i$:

$$\left(\begin{array}{ccc|c} -2+\sqrt{2}i & 0 & 2 & 0 \\ 1 & \sqrt{2}i & 0 & 0 \\ -2 & -1 & 1+\sqrt{2}i & 0 \end{array} \right) \approx \left(\begin{array}{ccc|c} 6 & 0 & 2(-2-\sqrt{2}i) & 0 \\ 1 & \sqrt{2}i & 0 & 0 \\ -2 & -1 & 1+\sqrt{2}i & 0 \end{array} \right) \approx \left(\begin{array}{ccc|c} 6 & 0 & 2(-2-\sqrt{2}i) & 0 \\ 1 & \sqrt{2}i & 0 & 0 \\ 0 & -3 & -1+\sqrt{2}i & 0 \end{array} \right) \approx$$

$$6x = (4 + 2\sqrt{2}i)z;$$

$$3y = (-1 + \sqrt{2}i)z;$$

$z \in \text{Reales.}$

Entonces:

$$x = \left(\frac{2}{3} + \frac{\sqrt{2}i}{3} \right) z;$$

$$y = \left(-\frac{1}{3} + \frac{\sqrt{2}i}{3} \right) z;$$

$z \in \text{Reales.}$

Entonces podemos concluir que el vector propio complejo asociado a este valor de $\lambda_3 = -1 - \sqrt{2}i$ es:

$$v = \begin{pmatrix} x \\ y \\ z \end{pmatrix} = \begin{pmatrix} \left(\frac{2}{3} + \frac{\sqrt{2}i}{3} \right) z \\ \left(-\frac{1}{3} + \frac{\sqrt{2}i}{3} \right) z \\ z \end{pmatrix},$$

Podemos usar un vector propio que tenga la forma de v , si $z = 3$:

$$\bar{v} = \begin{pmatrix} x \\ y \\ z \end{pmatrix} = \begin{pmatrix} (2 + \sqrt{2}i) \\ (-1 + \sqrt{2}i) \\ 3 \end{pmatrix} = \underbrace{\begin{pmatrix} 2 \\ -1 \\ 3 \end{pmatrix}}_{\bar{a}} + \underbrace{\begin{pmatrix} \sqrt{2} \\ \sqrt{2} \\ 0 \end{pmatrix}}_{\bar{b}} i,$$

Entonces procedemos a encontrar la primera solución l.i. con $\lambda_1 = -2$:

$$x_1 = e^{-2t} \begin{pmatrix} 2 \\ -2 \\ 1 \end{pmatrix}$$

Ahora procedemos a encontrar la segunda y tercera solución l.i. con $\lambda_3 = -1 - \sqrt{2}i$, tiene la siguiente forma $\lambda = \alpha + \beta i$, por lo tanto las otras dos soluciones son:

$$x_2 = e^{\alpha t} \sin(\beta t) (\bar{a}) + e^{\alpha t} \cos(\beta t) (\bar{b});$$

$$x_3 = e^{\alpha t} \cos(\beta t) (\bar{a}) - e^{\alpha t} \sin(\beta t) (\bar{b});$$

$$x_2 = e^{-t} \cos(-\sqrt{2}t) \begin{pmatrix} 2 \\ -1 \\ 3 \end{pmatrix} - e^{-t} \sin(-\sqrt{2}t) \begin{pmatrix} \sqrt{2} \\ \sqrt{2} \\ 0 \end{pmatrix} = e^{-t} \cos(\sqrt{2}t) \begin{pmatrix} 2 \\ -1 \\ 3 \end{pmatrix} + e^{-t} \sin(\sqrt{2}t) \begin{pmatrix} \sqrt{2} \\ \sqrt{2} \\ 0 \end{pmatrix};$$

$$x_3 = e^{-t} \operatorname{sen}(-\sqrt{2}t) \begin{pmatrix} 2 \\ -1 \\ 3 \end{pmatrix} + e^{-t} \cos(-\sqrt{2}t) \begin{pmatrix} \sqrt{2} \\ \sqrt{2} \\ 0 \end{pmatrix} = -e^{-t} \operatorname{sen}(\sqrt{2}t) \begin{pmatrix} 2 \\ -1 \\ 3 \end{pmatrix} + e^{-t} \cos(\sqrt{2}t) \begin{pmatrix} \sqrt{2} \\ \sqrt{2} \\ 0 \end{pmatrix};$$

Por lo tanto la solución general es:

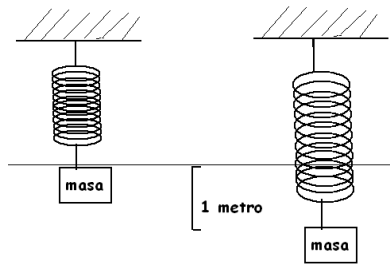
$$x = C_1 x_1 + C_2 x_2 + C_3 x_3;$$

$$x = C_1 e^{-2t} \begin{pmatrix} 2 \\ -2 \\ 1 \end{pmatrix} + C_2 \left[e^{-t} \cos(\sqrt{2}t) \begin{pmatrix} 2 \\ -1 \\ 3 \end{pmatrix} + e^{-t} \operatorname{sen}(\sqrt{2}t) \begin{pmatrix} \sqrt{2} \\ \sqrt{2} \\ 0 \end{pmatrix} \right] + C_3 \left[-e^{-t} \operatorname{sen}(\sqrt{2}t) \begin{pmatrix} 2 \\ -1 \\ 3 \end{pmatrix} + e^{-t} \cos(\sqrt{2}t) \begin{pmatrix} \sqrt{2} \\ \sqrt{2} \\ 0 \end{pmatrix} \right];$$

Aplicaciones de Sistema: Masa – Resorte – Amortiguador

1) Una masa de 1 kilogramo sujeta a un resorte con una constante $k = 9$ m/seg se suelta del reposo 1 metro debajo de la posición de equilibrio del sistema masa-resorte, y empieza a vibrar. Después de $\pi/2$ segundos, la masa es golpeada hacia arriba por un martillo que ejerce un impulso de 3 newtons.

- a) Determine una función que defina la posición “y” de la masa en cualquier instante “t”.
- b) Halle la posición de la masa en los tiempos $t = \pi/4$ segundos y $t = \pi$ segundos.



$$m \frac{d^2 y}{dt^2} + C \frac{dy}{dt} + Ky = f(t)$$

Como no hay amortiguador $C=0$;

En $t = \pi/2$ segundos hay un impulso hacia arriba de 3 Newtons, por lo tanto hay una perturbación

$f(t) = -3\delta\left(t - \frac{\pi}{2}\right)$, el signo negativo se debe a que tomamos el eje de referencia positivo hacia abajo.

La ecuación diferencial que representa al sistema es:

$$\frac{d^2 y}{dt^2} + 9Ky = -3\delta\left(t - \frac{\pi}{2}\right);$$

Para resolver esta ecuación diferencial aplicamos la transformada de Laplace a ambos lados de la ecuación:

$$\mathcal{L}\left[\frac{d^2 y}{dt^2} + 9y\right] = \mathcal{L}\left[-3\delta\left(t - \frac{\pi}{2}\right)\right];$$

$$s^2 Y(s) - sy(0) - y'(0) + 9Y(s) = -3e^{-\frac{\pi}{2}s};$$

La posición inicial del sistema es $y(0)=1$ metro, y la velocidad inicial es $y'(0)=0$:

$$s^2 Y(s) - s + 9Y(s) = -3e^{-\frac{\pi}{2}s};$$

$$(s^2 + 9)Y(s) = s - 3e^{-\frac{\pi}{2}s};$$

$$Y(s) = \frac{s - 3e^{-\frac{\pi}{2}s}}{s^2 + 9} = \frac{s}{s^2 + 9} - \frac{3e^{-\frac{\pi}{2}s}}{s^2 + 9};$$

$$y(t) = \mathcal{L}^{-1}\left[\frac{s}{s^2 + 9} - \frac{3e^{-\frac{\pi}{2}s}}{s^2 + 9}\right] = \mathcal{L}^{-1}\left[\frac{s}{s^2 + 9}\right] - \mathcal{L}^{-1}\left[\frac{3e^{-\frac{\pi}{2}s}}{s^2 + 9}\right];$$

$$y(t) = \cos 3t - \text{sen} 3\left(t - \frac{\pi}{2}\right)u\left(t - \frac{\pi}{2}\right);$$

a)

$$y(t) = \begin{cases} \cos 3t; & t < \frac{\pi}{2} \\ \cos 3t - \sin 3\left(t - \frac{\pi}{2}\right) & t \geq \frac{\pi}{2} \end{cases}$$

b)

$$y(\pi/4) = \cos(3\pi/4) = -\frac{\sqrt{2}}{2}m,$$

$$y(\pi) = \cos(3\pi) - \sin 3(\pi - \pi/2) = -1 - (-1) = 0m$$

2) Un sistema vibratorio compuesto de un resorte de constante $k = 4N/m$, un amortiguador de $c = 6Ns/m$, tiene adherido una bola metálica de 20 Newton de peso. Determine la forma en que vibra la masa si inicialmente esta en la posición de equilibrio y sin velocidad inicial, y si desde el tiempo $t = 0$ actúa una fuerza perturbadora definida así:

$$f(t) = \begin{cases} 100t; & t \in [0,2) \\ 400 - 100t; & t \in (2,4] \end{cases}$$

La ecuación diferencial que representa al sistema es:

$$m \frac{d^2y}{dt^2} + c \frac{dy}{dt} + Ky = f(t);$$

Asumiendo que la gravedad es $10m/s^2$:

$$m = \frac{w}{g} = \frac{20}{10} = 2 \text{ Kg.}$$

$$2 \frac{d^2y}{dt^2} + 6 \frac{dy}{dt} + 4y = f(t);$$

Antes de resolver la ecuación diferencial aplicando la transformada de Laplace, se recomienda expresar la función $f(t)$ en términos de de funciones escalones multiplicadas por las funciones que se encuentran en cada uno de los intervalos mostrados en la regla de correspondencia:

$$f(t) = 100tu(t) - 100tu(t-2) + (400-100t)u(t-2) - (400-100t)u(t-4);$$

$$f(t) = 100tu(t) - 100(t)u(t-2) + (400)u(t-2) - 100tu(t-2) - (400)u(t-4) + 100tu(t-4);$$

$$f(t) = 100tu(t) - 200(t)u(t-2) + (400)u(t-2) - (400)u(t-4) + 100tu(t-4);$$

$$f(t) = 100tu(t) - 200(t-2+2)u(t-2) + (400)u(t-2) - (400)u(t-4) + 100(t-4+4)u(t-4);$$

$$f(t) = 100tu(t) - 200(t-2)u(t-2) - 400u(t-2) + (400)u(t-2) - (400)u(t-4) + 100(t-4)u(t-4) + 400u(t-4);$$

$$f(t) = 100tu(t) - 200(t-2)u(t-2) + 100(t-4)u(t-4);$$

La ecuación diferencial queda expresada de la siguiente forma:

$$2 \frac{d^2y}{dt^2} + 6 \frac{dy}{dt} + 4y = 100tu(t) - 200(t-2)u(t-2) + 100(t-4)u(t-4);$$

Ahora se puede proceder a resolver la ecuación diferencial mediante la transformada de Laplace:

$$\mathcal{L}\left[2\frac{d^2y}{dt^2} + 6\frac{dy}{dt} + 4y\right] = \mathcal{L}[100tu(t) - 200(t-2)u(t-2) + 100(t-4)u(t-4)];$$

$$\mathcal{L}\left[\frac{d^2y}{dt^2} + 3\frac{dy}{dt} + 2y\right] = \mathcal{L}[50tu(t) - 100(t-2)u(t-2) + 50(t-4)u(t-4)];$$

La posición inicial del sistema es $y(0)=0$ metro, y la velocidad inicial es $y'(0)=0$:

$$[s^2y(s) - sy(0) - y'(0) + 3sy(s) - 3y(0) + 2y(s)] = \frac{50}{s^2} - \frac{100}{s^2}e^{-2s} + \frac{50}{s^2}e^{-4s}$$

$$s^2y(s) + 3sy(s) + 2y(s) = \frac{50}{s^2} - \frac{100}{s^2}e^{-2s} + \frac{50}{s^2}e^{-4s};$$

$$y(s)[s^2 + 3s + 2] = \frac{50}{s^2} - \frac{100}{s^2}e^{-2s} + \frac{50}{s^2}e^{-4s};$$

$$y(s) = \frac{50}{s^2(s^2 + 3s + 2)} - \frac{100}{s^2(s^2 + 3s + 2)}e^{-2s} + \frac{50}{s^2(s^2 + 3s + 2)}e^{-4s};$$

$$y(s) = \underbrace{\frac{50}{s^2(s+2)(s+1)}}_{Y_1(s)} - \underbrace{\frac{100}{s^2(s+2)(s+1)}e^{-2s}}_{Y_2(s)} + \underbrace{\frac{50}{s^2(s+2)(s+1)}e^{-4s}}_{Y_3(s)};$$

$$y_1(t) = \mathcal{L}^{-1}\left[\frac{50}{s^2(s+2)(s+1)}\right]$$

Para encontrar $y_1(t)$, se procede a usar el teorema de la integral de la transformada de Laplace:

$$\text{Si } \mathcal{L}^{-1}\left[\frac{50}{(s+2)(s+1)}\right] = f(t), \text{ entonces } \mathcal{L}^{-1}\left[\frac{50}{s^2(s+2)(s+1)}\right] = \int_0^t \int_0^u f(\theta) d\theta du$$

$$\mathcal{L}^{-1}\left[\frac{50}{(s+2)(s+1)}\right] = \mathcal{L}^{-1}\left[\frac{A}{(s+2)} + \frac{B}{(s+1)}\right] = \mathcal{L}^{-1}\left[\frac{A(s+1) + B(s+2)}{(s+2)(s+1)}\right];$$

$$\begin{cases} A + B = 0 \\ A + 2B = 50 \end{cases}$$

Resolviendo el sistema de ecuaciones, se obtiene:

$$B = 50, \quad A = -50;$$

$$\mathcal{L}^{-1}\left[\frac{50}{(s+2)(s+1)}\right] = \mathcal{L}^{-1}\left[\frac{50}{(s+1)} - \frac{50}{(s+2)}\right] = 50e^{-t} - 50e^{-2t};$$

Entonces:

$$\mathcal{L}^{-1}\left[\frac{50}{s^2(s+2)(s+1)}\right] = \int_0^t \int_0^u f(\theta) d\theta du = \int_0^t \int_0^u (50e^{-\theta} - 50e^{-2\theta}) d\theta du;$$

$$\int_0^t [-50e^{-u} + 25^{-2u}]_0^u du = \int_0^t [-50e^{-u} + 25^{-2u} - (-50 + 25)]_0^u du = \int_0^t [-50e^{-u} + 25^{-2u} + 25] du;$$

$$\int_0^t [-50e^{-u} + 25^{-2u} + 25] du = [50e^{-u} - 12.5e^{-2u} + 25u]_0^t = [50e^{-t} - 12.5e^{-2t} + 25t - (50 - 12.5)];$$

$$\int_0^t [-50e^{-u} + 25^{-2u} + 25] du = 50e^{-t} - 12.5e^{-2t} + 25t - 37.5;$$

Por lo tanto:

$$\mathcal{L}^{-1}\left[\frac{50}{s^2(s+2)(s+1)}\right] = 50e^{-t} - 12.5e^{-2t} + 25t - 37.5;$$

$$y_1(t) = 50e^{-t} - 12.5e^{-2t} + 25t - 37.5;$$

$$y_2(t) = \mathcal{L}^{-1}\left[\frac{100}{s^2(s+2)(s+1)}e^{-2s}\right] = 2\mathcal{L}^{-1}\left[\frac{50}{s^2(s+2)(s+1)}e^{-2s}\right]$$

$$y_2(t) = 2\mathcal{L}^{-1}\left[\frac{50}{s^2(s+2)(s+1)}e^{-2s}\right] = 2(50e^{-(t-2)} - 12.5e^{-2(t-2)} + 25(t-2) - 37.5)u(t-2);$$

$$y_3(t) = \mathcal{L}^{-1}\left[\frac{50}{s^2(s+2)(s+1)}e^{-4s}\right] = (50e^{-(t-4)} - 12.5e^{-2(t-4)} + 25(t-4) - 37.5)u(t-4);$$

Ahora $y(t)$ es:

$$y(t) = y_1(t) + y_2(t) + y_3(t);$$

$$y(t) = 50e^{-t} - 12.5e^{-2t} + 25t - 37.5 + 2((50e^{-(t-2)} - 12.5e^{-2(t-2)} + 25(t-2) - 37.5)u(t-2))$$

$$+ ((50e^{-(t-4)} - 12.5e^{-2(t-4)} + 25(t-4) - 37.5)u(t-4));$$

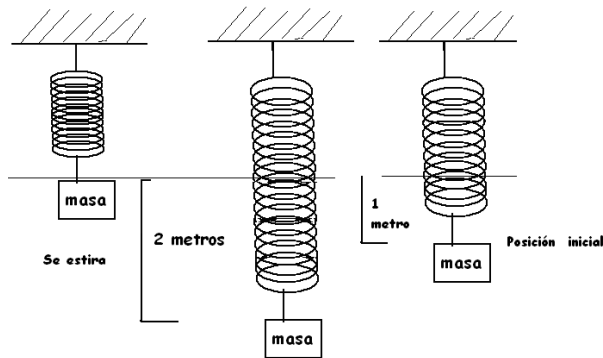
Se puede representar $y(t)$ en como una función con regla de correspondencia:

$$y(t) = \begin{cases} 50e^{-t} - 12.5e^{-2t} + 25t - 37.5 & 0 \leq t < 2; \\ 50e^{-t}(1 + 2e^2) - 12.5e^{-2t}(1 + 2e^4) + 75t - 212.5 & 2 \leq t < 4; \\ 50e^{-t}(1 + 2e^2 + e^4) - 12.5e^{-2t}(1 + 2e^4 + e^8) + 100t - 350; & t \geq 4; \end{cases}$$

3) Una masa de 5kg se sujeta a un resorte suspendido del techo y ocasiona que el resorte se estire 2 metros al llegar al reposo en equilibrio. Se eleva luego la masa 1 metro sobre el punto de equilibrio y se le aplica una velocidad dirigida hacia arriba de 1/3 m/seg. Determine:

a) La ecuación del movimiento armónico simple de la masa.

b) La posición del objeto en $t = \frac{\pi}{4}$ segundos



$$m \frac{d^2 y}{dt^2} + C \frac{dy}{dt} + Ky = f(t)$$

a)

Como no hay amortiguador $C=0$, además no existe fuerza perturbadora que se aplique al sistema por lo tanto $f(t)=0$, la posición inicial de la masa es 1 metro sobre la posición de equilibrio por lo tanto si tomamos el eje de referencia positivo hacia arriba la posición inicial de la masa será 1 metro. Y la velocidad es 1/3 m/seg.

La ecuación diferencial que representa al sistema es:

$$5 \frac{d^2 y}{dt^2} + ky = 0;$$

Se debe encontrar el valor de k :

Como la masa es 5kg y si se asume la gravedad 10m/seg^2 , el peso será de 50 Newton, al sujetar el resorte la masa se estira 2 metros, lo que me indica de manera implícita la constante del resorte que se la puede calcular mediante:

$F = k\Delta l$, donde F es el peso del objeto y Δl la longitud del estiramiento. Despejando k se obtiene $k=25\text{N/m}$.

Para resolver esta ecuación diferencial aplicamos la transformada de Laplace a ambos lados de la ecuación:

$$\mathcal{L}\left[5 \frac{d^2 y}{dt^2} + 25y\right] = \mathcal{L}[0];$$

$$5s^2 Y(s) - 5sy(0) - 5y'(0) + 25y(s) = 0;$$

La posición inicial del sistema es $y(0)=1$ metro, y la velocidad inicial es $y'(0)=1/3$:
Reemplazando las condiciones se obtiene:

$$5s^2 y(s) - 5s - \frac{5}{3} + 25y(s) = 0;$$

$$(5s^2 + 25)y(s) = 5s + \frac{5}{3}$$

$$(s^2 + 5)y(s) = s + \frac{1}{3}$$

$$y(s) = \frac{s}{(s^2 + 5)} + \frac{1}{3(s^2 + 5)};$$

$$y(t) = \mathcal{L}^{-1} \left[\frac{s}{(s^2 + 5)} + \frac{1}{3(s^2 + 5)} \right] = \mathcal{L}^{-1} \left[\frac{s}{(s^2 + 5)} \right] + \mathcal{L}^{-1} \left[\frac{1}{3(s^2 + 5)} \right];$$

$$y(t) = \cos 5t + \frac{1}{15} \operatorname{sen} 5(t)$$

b)

La posición del objeto en $\pi/4$ segundos es:

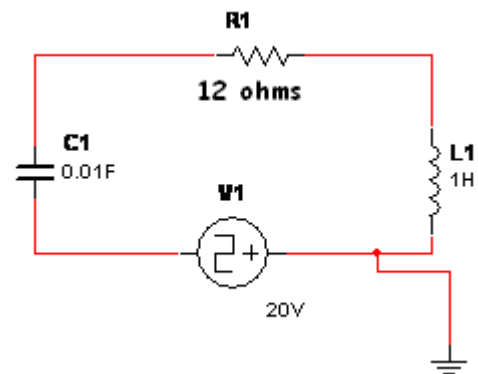
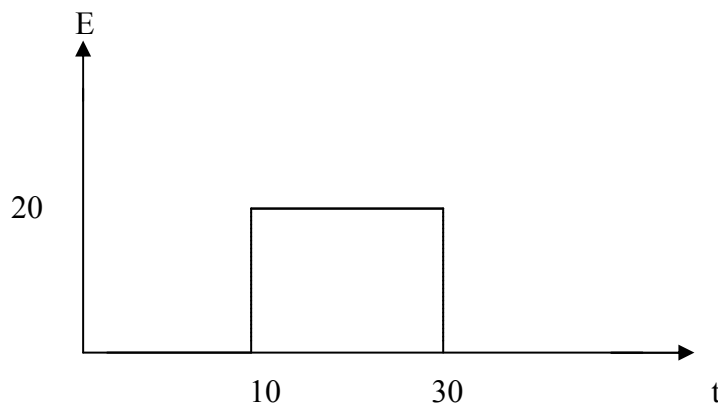
$$y\left(\frac{\pi}{4}\right) = \cos 5\left(\frac{\pi}{4}\right) - \frac{1}{15} \operatorname{sen} 5\left(\frac{\pi}{4}\right)$$

$$y\left(\frac{\pi}{4}\right) = -\frac{\sqrt{2}}{2} - \frac{1}{15} \frac{\sqrt{2}}{2} = -\frac{\sqrt{2}}{2} \left(1 + \frac{1}{15}\right) = -\frac{\sqrt{2}}{2} \left(\frac{16}{15}\right) = -\frac{8\sqrt{2}}{15}$$

Aplicaciones de Circuitos Eléctricos

1) Un circuito LRC con $R=12$ ohmios, $L=1$, $C=0.01$ faradios se conecta a una batería que transmite un voltaje de 20 voltios. Si el interruptor esta inicialmente apagado y se lo enciende después de 10 segundos, permaneciendo conectada por un lapso de 20 segundos y luego desconectada definitivamente. Si inicialmente no hay carga en el condensador y la corriente inicial es cero, determine:

- La carga acumulada en el condensador en los tiempos $t=5s$, y $t=20s$.
- La intensidad de corriente que atraviesa el circuito en los tiempos $t=8s$, y $t=40s$.



$$LQ'' + RQ' + \frac{1}{C}Q = \varepsilon(t) = 20u(t-10) - 20u(t-30)$$

$$\ell[LQ''] + \ell[RQ'] + \ell\left[\frac{1}{C}Q\right] = \ell[\varepsilon(t)]$$

$$s^2 Q(s) + 12sQ(s) + 100Q(s) = 20 \left[\frac{e^{-10s}}{s} - \frac{e^{-30s}}{s} \right]$$

$$(s^2 + 12s + 100)Q(s) = 20 \left[\frac{e^{-10s}}{s} - \frac{e^{-30s}}{s} \right]$$

$$Q(s) = 20 \left[\frac{e^{-10s}}{s(s^2 + 12s + 100)} - \frac{e^{-30s}}{s(s^2 + 12s + 100)} \right]$$

$$\frac{A}{s} + \frac{Bs + C}{s^2 + 12s + 100} \Rightarrow As^2 + 12As + 100A + Bs^2 + Cs = 1$$

$$A = \frac{1}{100}$$

$$B = -\frac{1}{100}$$

$$C = -\frac{12}{100}$$

$$\frac{1/100}{s} - \frac{1}{100} \left(\frac{s + 12}{s^2 + 12s + 100} \right)$$

$$Q(s) = \frac{1}{5} \left[e^{10s} \left(\frac{1}{s} - \frac{s + 6}{(s + 6)^2 + 64} - \frac{6}{(s + 6)^2 + 64} \right) - e^{-30s} \left(\frac{1}{s} - \frac{s + 6}{(s + 6)^2 + 64} - \frac{6}{(s + 6)^2 + 64} \right) \right]$$

$$Q(t) = \ell^{-1}[Q(s)]$$

$$Q(t) = \frac{1}{5} \left[\left(1 - e^{-6(t-10)} \cos 8(t-10) - \frac{3}{4} e^{-6(t-10)} \operatorname{sen} 8(t-10) \right) U_{10}(t) \right] \\ - \frac{1}{5} \left(1 - e^{-6(t-30)} \cos 8(t-30) - \frac{3}{4} e^{-6(t-30)} \operatorname{sen} 8(t-30) \right) U_{30}(t)$$

Cuando $t=5s$

$$Q(5) = 0 \quad \text{Condensador descargado}$$

Cuando $t=20s$

$$Q(t) = \frac{1}{5} - \frac{1}{5} e^{-6(t-10)} \cos 8(t-10) - \frac{3}{20} e^{-6(t-10)} \operatorname{sen} 8(t-10)$$

$$Q(20) = \frac{1}{5} - \frac{1}{5} e^{-60} \cos 80 - \frac{3}{20} e^{-60} \operatorname{sen} 80$$

$$Q(20) = \frac{1}{5} - \frac{1}{5} e^{-60} (-0.110) - \frac{3}{20} e^{-60} (-0.993)$$

$$Q(20) = 2.08 \times 10^{-25} \text{ coulombs}$$

2) Un circuito LRC con $R=150$ ohmios, $L=1$ Henrio, $C=0.0002$ faradios en $t=0$ se le aplica un voltaje que crece linealmente de 0 a 100 voltios, durante 10 segundos, para luego cesar por tiempo indefinido. Si inicialmente no hay carga en el condensador y la corriente inicial es cero, determine:

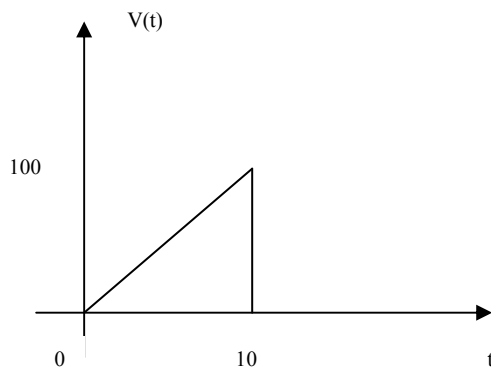
a) La carga en cualquier instante de tiempo

b) La corriente del circuito en $t=20s$.

$$R = 150 \Omega \quad Q(0) = 0$$

$$L = 1H \quad Q'(0) = 0$$

$$C = 2 \times 10^{-4} F$$



$$LQ'' + RQ' + 1/C Q = V(t)$$

$$Q'' + 150Q' + 5000Q = 10t(\mu_0(t) - \mu_{10}(t))$$

$$Q'' + 150Q' + 5000Q = 10t\mu_0(t) - 10t\mu_{10}(t) + 100\mu_{10}(t) - 100\mu_{10}(t)$$

$$Q'' + 150Q' + 5000Q = 10t\mu_0(t) - 10(t-10)\mu_{10}(t) - 100\mu_{10}(t)$$

Encontrando la transformada:

$$s^2 Q(s) - sQ(0) - Q'(0) + 150s Q(s) - 150 Q(0) + 5000Q(s) = \frac{10}{s^2} - \frac{10e^{-10s}}{s^2} - \frac{100e^{-10s}}{s}$$

$$(s^2 + 150s + 5000)Q(s) = \frac{10}{s^2} - e^{-10s} \frac{10}{s^2} - e^{-10s} \frac{100}{s}$$

$$(s + 50)(s + 100)Q(s) = \frac{10}{s^2} - e^{-10s} \frac{10}{s^2} - e^{-10s} \frac{100}{s}$$

$$Q(s) = \frac{10}{s^2(s+50)(s+100)} - \frac{10e^{-10s}}{s^2(s+50)(s+100)} - \frac{100e^{-10s}}{s(s+50)(s+100)}$$

$$\frac{10}{s^2(s+50)(s+100)} = \frac{A}{s^2} + \frac{B}{s} + \frac{C}{s+50} + \frac{D}{s+100} \Rightarrow \begin{cases} A = 1/500 \\ B = -3/50000 \\ C = 1/12500 \\ D = -1/50000 \end{cases}$$

$$\frac{100}{s(s+50)(s+100)} = \frac{A}{s} + \frac{B}{s+50} + \frac{C}{s+100} \xrightarrow{\text{LA SOLUCION}} \begin{cases} A = 1/50 \\ B = -1/25 \\ C = 1/50 \end{cases}$$

$$Q(s) = \frac{1}{50000} \left[\frac{100}{s^2} - \frac{3}{s} + \frac{4}{s+50} - \frac{1}{s+100} \right] - \frac{e^{-10s}}{50000} \left[\frac{100}{s^2} - \frac{3}{s} + \frac{4}{s+50} - \frac{1}{s+100} \right] - \frac{e^{-10s}}{50} \left[\frac{1}{s} - \frac{2}{s+50} + \frac{1}{s+100} \right]$$

$$Q(t) = \frac{1}{50000} [100t - 3 + 4e^{-50t} - e^{-100t}] - \frac{1}{50000} [100(t-10) - 3 + 4e^{-50(t-10)} - e^{-100(t-10)}] u_{10}(t) - \frac{1}{50} [1 - 2e^{-50(t-10)} + e^{-100(t-10)}] u_{10}(t)$$

$$Q(t) = \begin{cases} \frac{1}{50000} [100t - 3 + 4e^{-50t} - e^{-100t}] & t < 10 \\ \frac{1}{50000} [100t - 3 + 4e^{-50t} - e^{-100t}] - \frac{1}{50000} [100(t-10) - 3 + 4e^{-50(t-10)} - e^{-100(t-10)}] - \frac{1}{50} [1 - 2e^{-50(t-10)} + e^{-100(t-10)}] & ; t \geq 10 \end{cases}$$

$$Q(t) = \begin{cases} \frac{1}{50000} [100t - 3 + 4e^{-50t} - e^{-100t}] & t < 10 \\ \frac{1}{50000} [1000 + 4e^{-50t} - 4e^{-50(t-10)} - e^{-100t} + e^{-100(t-10)}] - \frac{1}{50} [1 - 2e^{-50(t-10)} + e^{-100(t-10)}] & ; t \geq 10 \end{cases}$$

$$Q(20\text{segundos})=0$$

$$i(t) = \frac{\partial Q(t)}{\partial t}$$

$$i(t) = \begin{cases} \frac{1}{50000} [100 - 200e^{-50t} + 100e^{-100t}] & t < 10 \\ \frac{1}{50000} [-200e^{-50t} + 200e^{-50(t-10)} + 100e^{-100t} - 100e^{-100(t-10)}] - \frac{1}{50} [100e^{-50(t-10)} - 100e^{-100(t-10)}] & ; t \geq 10 \end{cases}$$

$$i(20\text{segundos})=0$$

Series

De Fourier

Contenido:

- + Definición de la serie de Fourier
- + Serie de Fourier de una función par.
- + Serie de Fourier de una función impar.
- + Convergencia de una serie de Fourier.
- + Extensiones pares e impares periódicas de una serie de Fourier

Serie de Fourier de una función $f(x)$

Definición: Sea f una función continua por segmentos en el intervalo de $[-p, p]$ la serie de Fourier de f es la serie trigonométrica:

$$f(x) = \frac{a_0}{2} + \sum_{n=1}^{\infty} \left[a_n \cos\left(\frac{n\pi x}{p}\right) + b_n \operatorname{sen}\left(\frac{n\pi x}{p}\right) \right]$$

Donde:

$$a_0 = \frac{1}{p} \int_{-p}^p f(x) dx$$

$$a_n = \frac{1}{p} \int_{-p}^p f(x) \cos\left(\frac{n\pi x}{p}\right) dx$$

$$b_n = \frac{1}{p} \int_{-p}^p f(x) \operatorname{sen}\left(\frac{n\pi x}{p}\right) dx$$

$$\forall n \in \mathbb{N}, \quad n = 1, 2, 3, \dots, n.$$

Series de Fourier cuando $f(x)$ es par

Si la función $f(x)$ es una función par se dice que:

$$a_0 = \frac{2}{p} \int_0^p f(x) dx$$

$$a_n = \frac{2}{p} \int_0^p f(x) \cos\left(\frac{n\pi x}{p}\right) dx$$

$$b_n = 0;$$

$$\forall n \in \mathbb{N}, \quad n = 1, 2, 3, \dots, n.$$

$$\therefore f(x) = \frac{a_0}{2} + \sum_{n=1}^{\infty} \left[a_n \cos\left(\frac{n\pi x}{p}\right) \right]$$

Series de Fourier cuando $f(x)$ es impar

Si la función $f(x)$ es una función impar se dice que:

$$a_0 = 0$$

$$a_n = 0$$

$$b_n = \frac{2}{p} \int_0^p f(x) \operatorname{sen}\left(\frac{n\pi x}{p}\right) dx;$$

$$\forall n \in \mathbb{N}, \quad n = 1, 2, 3, \dots, n.$$

$$\therefore f(x) = \sum_{n=1}^{\infty} \left[b_n \operatorname{sen}\left(\frac{n\pi x}{p}\right) \right]$$

1) Exprese la función f definida por $f(x) = \begin{cases} 1, & -1 < x < 0 \\ x, & 0 < x < 1 \end{cases}$ como un desarrollo en series de Fourier.

$$f(x) = \frac{a_0}{2} + \sum_{n=1}^{\infty} \left[a_n \cos\left(\frac{n\pi x}{p}\right) + b_n \operatorname{sen}\left(\frac{n\pi x}{p}\right) \right]$$

$$p = 1$$

$$a_0 = \frac{1}{p} \int_{-p}^p f(x) dx$$

$$a_0 = \int_{-1}^1 f(x) dx = \int_{-1}^0 dx + \int_0^1 x dx = [x]_{-1}^0 + \frac{1}{2} [x^2]_0^1;$$

$$a_0 = 1 + \frac{1}{2} = \frac{3}{2}, \quad \Rightarrow \quad a_0 = \frac{3}{2}$$

$$a_n = \frac{1}{p} \int_{-p}^p f(x) \cos\left(\frac{n\pi x}{p}\right) dx$$

$$a_n = \int_{-1}^1 f(x) \cos(n\pi x) dx = \int_{-1}^0 \cos(n\pi x) dx + \int_0^1 x \cos(n\pi x) dx$$

$$u = x \Rightarrow du = dx,$$

$$dv = \cos(n\pi x) dx \Rightarrow v = \frac{\operatorname{sen}(n\pi x)}{n\pi}$$

$$a_n = \left[\frac{\operatorname{sen}(n\pi x)}{n\pi} \right]_{-1}^0 + \left[x \frac{\operatorname{sen}(n\pi x)}{n\pi} \right]_0^1 - \int_0^1 \frac{\operatorname{sen}(n\pi x)}{n\pi} dx$$

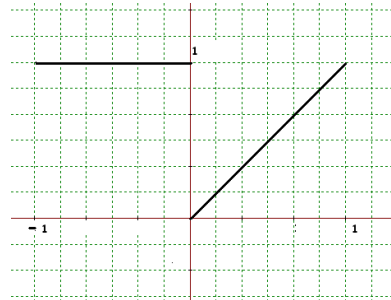
$$a_n = \left[0 - \frac{\operatorname{sen}(-n\pi)}{n\pi} \right] + \left[\frac{\operatorname{sen}(n\pi)}{n\pi} - 0 \right] + \left[\frac{\cos(n\pi x)}{n^2 \pi^2} \right]_0^1$$

$$a_n = \left[\frac{\operatorname{sen}(n\pi)}{n\pi} \right] + \left[\frac{\operatorname{sen}(n\pi)}{n\pi} \right] + \left[\frac{\cos(n\pi)}{n^2 \pi^2} - \frac{1}{n^2 \pi^2} \right]$$

$$\operatorname{sen}(n\pi) = 0, \quad \forall n \in \mathbb{N}, \quad n = 1, 2, 3, \dots, n.$$

$$\cos(n\pi) = (-1)^n, \quad \forall n \in \mathbb{N}, \quad n = 1, 2, 3, \dots, n.$$

$$a_n = \left[\frac{(-1)^n}{n^2 \pi^2} - \frac{1}{n^2 \pi^2} \right] = \frac{1}{n^2 \pi^2} [(-1)^n - 1]$$



$$b_n = \frac{1}{p} \int_{-p}^p f(x) \operatorname{sen}\left(\frac{n\pi x}{p}\right) dx$$

$$b_n = \int_{-1}^1 f(x) \operatorname{sen}(n\pi x) dx = \int_{-1}^0 \operatorname{sen}(n\pi x) dx + \int_0^1 x \operatorname{sen}(n\pi x) dx$$

$$u = x \Rightarrow du = dx,$$

$$dv = \operatorname{sen}(n\pi x) dx \Rightarrow v = -\frac{\cos(n\pi x)}{n\pi}$$

$$b_n = -\left[\frac{\cos(n\pi x)}{n\pi}\right]_{-1}^0 - \left[x \frac{\cos(n\pi x)}{n\pi}\right]_0^1 + \int_0^1 \frac{\cos(n\pi x)}{n\pi} dx$$

$$b_n = -\left[\frac{1}{n\pi} - \frac{\cos(-n\pi)}{n\pi}\right] - \left[\frac{\cos(n\pi)}{n\pi} - 0\right] + \left[\frac{\operatorname{sen}(n\pi x)}{n^2 \pi^2}\right]_0^1$$

$$b_n = -\left[\frac{1}{n\pi} - \frac{\cos(n\pi)}{n\pi}\right] - \left[\frac{\cos(n\pi)}{n\pi}\right] + \left[\frac{\operatorname{sen}(n\pi)}{n^2 \pi^2} - 0\right]$$

$$\operatorname{sen}(n\pi) = 0, \quad \forall n \in \mathbb{N}, \quad n = 1, 2, 3, \dots, n.$$

$$\cos(n\pi) = (-1)^n, \quad \forall n \in \mathbb{N}, \quad n = 1, 2, 3, \dots, n.$$

$$b_n = -\frac{1}{n\pi}$$

$$f(x) = \frac{3}{4} + \sum_{n=1}^{\infty} \left[\frac{1}{n^2 \pi^2} [(-1)^n - 1] \cos(n\pi x) - \frac{1}{n\pi} \operatorname{sen}(n\pi x) \right]$$

Convergencia de una Serie de Fourier

Teorema: Si $f(x)$ y $f'(x)$ son funciones continuas por segmentos en el intervalo $(-p, p)$, entonces la serie de Fourier de $f(x)$ en dicho intervalo converge hacia $f(a)$ en un punto de continuidad, mientras que en un punto de discontinuidad converge a:

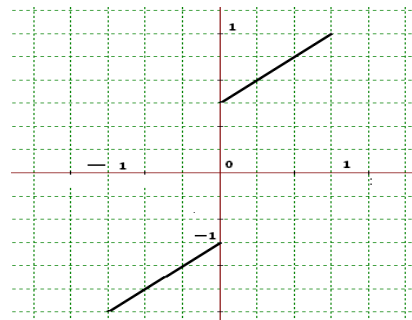
$$\frac{f(a^-) + f(a^+)}{2}, \quad \text{donde:}$$

$$f(a^-) = \lim_{x \rightarrow a^-} f(x)$$

$$f(a^+) = \lim_{x \rightarrow a^+} f(x)$$

Ejemplo:

$$f(x) = \begin{cases} x+1, & 0 < x < \pi \\ x-1, & -\pi < x < 0 \end{cases}$$



En la gráfica se observa que en $x=0$ hay un punto de discontinuidad por lo tanto el valor a que converge la serie de Fourier en $x=0$ es:

$$\frac{f(a^-) + f(a^+)}{2} = \frac{-1+1}{2} = 0, \quad \text{donde:}$$

$$f(a^-) = \lim_{x \rightarrow a^-} f(x) = -1$$

$$f(a^+) = \lim_{x \rightarrow a^+} f(x) = 1$$

Extensión periódica de la función $f(x)$

Sea $f(x)$ una función continua por segmentos en $(-p, p)$. Entonces la Serie de Fourier de f es:

$$f(x) = \frac{a_0}{2} + \sum_{n=1}^{\infty} \left[a_n \cos\left(\frac{n\pi x}{p}\right) + b_n \operatorname{sen}\left(\frac{n\pi x}{p}\right) \right]$$

Donde se define la frecuencia angular de las funciones coseno y seno como “ w ”, entonces:

$$w = \frac{n\pi}{p}, \text{ donde } w = 2\pi f,$$

$$\Rightarrow 2\pi f = \frac{n\pi}{p}, \text{ despejando } f:$$

$$f = \frac{n\pi}{2\pi p} = \frac{n}{2p}, \text{ encontrando } \frac{1}{f} = T_f = \frac{2p}{n}$$

$$\text{Entonces } nT_f = 2p = T.$$

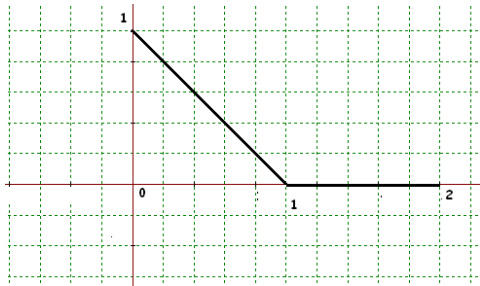
Por lo tanto la función f puede extenderse a una función periódica con período $= 2p$, de manera tal que

$$f(x) = \frac{a_0}{2} + \sum_{n=1}^{\infty} \left[a_n \cos\left(\frac{n\pi x}{p}\right) + b_n \operatorname{sen}\left(\frac{n\pi x}{p}\right) \right], \text{ y donde } f(x+2p) = f(x), \quad x \in \mathbb{R}.$$

Donde la serie converge a $f(x)$ si es que f es continua en x y converge a $\frac{f(x^-) + f(x^+)}{2}$, si es que f es discontinua en x .

2) Encuentre los coeficientes de la serie de Fourier: a) sólo en términos de senos de la función $f(x)$, b) luego sólo en términos de cosenos.

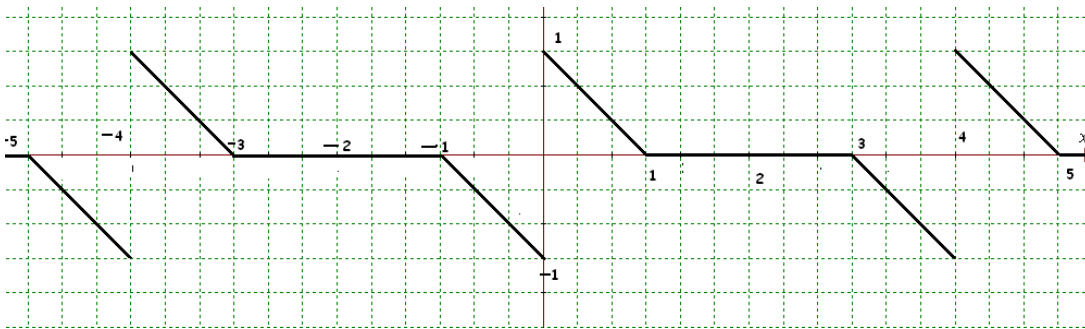
$$f(x) = \begin{cases} 1-x, & 0 < x < 1 \\ 0, & 1 < x < 2 \end{cases}$$



a) En términos de senos.

Antes de comenzar el desarrollo de este problema se recomienda graficar la función $f(x)$. Como se observa en la gráfica esta no es función impar ni par, por lo tanto para obtener el desarrollo en series de Fourier sólo en términos de senos de esta función se debe proceder a hacer una extensión periódica impar de $f(x)$.

$$f(x) = \begin{cases} f(x), & 0 < x < p \\ -f(-x), & -p < x < 0 \end{cases} \quad \text{donde } T = 2p$$



Como se observa en la gráfica ahora el período de la función es $T=2p$, donde $p = 2$, por lo tanto el período T es 4.

Ahora si la función $f(x)$ es una función impar se cumple las siguientes condiciones:

$$a_0 = 0$$

$$a_n = 0$$

$$b_n = \frac{2}{p} \int_0^p f(x) \operatorname{sen}\left(\frac{n\pi x}{p}\right) dx;$$

$$\forall n \in \mathbb{N}, \quad n = 1, 2, 3, \dots, n.$$

$$\therefore f(x) = \sum_{n=1}^{\infty} \left[b_n \operatorname{sen}\left(\frac{n\pi x}{p}\right) \right]$$

Encontrando los coeficientes:

$$b_n = \frac{2}{p} \int_0^p f(x) \sin\left(\frac{n\pi x}{2}\right) dx$$

$$b_n = \frac{2}{2} \int_0^2 f(x) \sin\left(\frac{n\pi x}{2}\right) dx = \int_0^2 f(x) \sin\left(\frac{n\pi x}{2}\right) dx$$

$$b_n = \int_0^1 (1-x) \sin\left(\frac{n\pi x}{2}\right) dx + \int_1^2 0 \cdot \sin\left(\frac{n\pi x}{2}\right) dx$$

$$b_n = \int_0^1 (1-x) \sin\left(\frac{n\pi x}{2}\right) dx;$$

$$u = 1-x, \Rightarrow du = -dx;$$

$$dv = \sin\left(\frac{n\pi x}{2}\right) dx \Rightarrow v = -\frac{2}{n\pi} \cos\left(\frac{n\pi x}{2}\right);$$

$$\Rightarrow b_n = -\left[(1-x) \frac{2}{n\pi} \cos\left(\frac{n\pi x}{2}\right)\right]_0^1 - \int_0^1 \frac{2}{n\pi} \cos\left(\frac{n\pi x}{2}\right) dx$$

$$\Rightarrow b_n = -\frac{2}{n\pi} \left[(1-x) \cos\left(\frac{n\pi x}{2}\right)\right]_0^1 - \frac{4}{n^2 \pi^2} \left[\sin\left(\frac{n\pi x}{2}\right)\right]_0^1;$$

$$\Rightarrow b_n = -\frac{2}{n\pi} [0-1] - \frac{4}{n^2 \pi^2} \left[\sin\left(\frac{n\pi}{2}\right) - 0\right] = \frac{2}{n\pi} - \frac{4}{n^2 \pi^2} \sin\left(\frac{n\pi}{2}\right)$$

$$\Rightarrow b_n = \frac{2}{n\pi} - \frac{4}{n^2 \pi^2} \sin\left(\frac{n\pi}{2}\right)$$

Ahora la función en términos de senos es:

Como es impar ,entonces: $a_n = 0$, y $a_0 = 0$

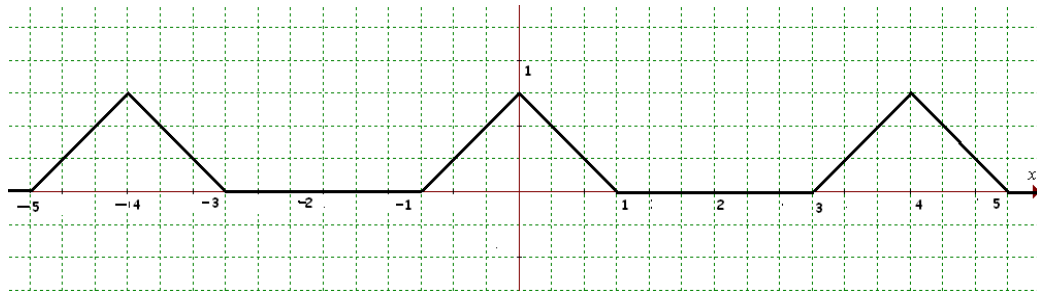
$$\therefore f(x) = \sum_{n=1}^{\infty} \left[b_n \sin\left(\frac{n\pi x}{p}\right) \right] = \sum_{n=1}^{\infty} \left[\left(\frac{2}{n\pi} - \frac{4}{n^2 \pi^2} \sin\left(\frac{n\pi}{2}\right) \right) \sin\left(\frac{n\pi x}{2}\right) \right]$$

$$f(x) = \sum_{n=1}^{\infty} \left[\left(\frac{2}{n\pi} - \frac{4}{n^2 \pi^2} \sin\left(\frac{n\pi}{2}\right) \right) \sin\left(\frac{n\pi x}{2}\right) \right]$$

b) En términos de cosenos:

Igualmente que en el caso anterior para obtener la serie de Fourier sólo en términos de cosenos de $f(x)$, la función debe ser una función par, si no lo es se debe hacer una extensión periódica de forma par. Es decir:

$$f(x) = \begin{cases} f(x), & 0 < x < p \\ f(-x), & -p < x < 0 \end{cases}, \text{ donde } T = 2p$$



Como se observa en la gráfica ahora el período de la función es $T=2p$, donde $p = 2$, por lo tanto el período T es 4.

Ahora si la función $f(x)$ es una función impar se cumple las siguientes condiciones:

$$a_0 = \frac{2}{p} \int_0^p f(x) dx$$

$$a_n = \frac{2}{p} \int_0^p f(x) \cos\left(\frac{n\pi x}{p}\right) dx$$

$$b_n = 0;$$

$$\forall n \in \mathbf{N}, \quad n = 1, 2, 3, \dots, n.$$

$$\therefore f(x) = \frac{a_0}{2} + \sum_{n=1}^{\infty} \left[a_n \cos\left(\frac{n\pi x}{p}\right) \right]$$

Encontrando los coeficientes a_n, a_0 :

$$a_0 = \frac{2}{p} \int_0^p f(x) dx$$

$$a_0 = \int_0^2 f(x) dx = a_0 = \int_0^1 (1-x) dx + \int_1^2 0 dx$$

$$a_0 = \int_0^1 (1-x) dx = \left[x - \frac{x^2}{2} \right]_0^1 = \left[1 - \frac{1}{2} - 0 + 0 \right] = \frac{1}{2}$$

$$a_0 = \frac{1}{2}$$

$$a_n = \frac{2}{p} \int_0^p f(x) \cos\left(\frac{n\pi x}{p}\right) dx$$

$$a_n = \int_0^2 f(x) \cos\left(\frac{n\pi x}{2}\right) dx = \int_0^1 (1-x) \cos\left(\frac{n\pi x}{2}\right) dx + \int_1^2 0 \cdot \cos\left(\frac{n\pi x}{2}\right) dx$$

$$a_n = \int_0^1 (1-x) \cos\left(\frac{n\pi x}{2}\right) dx;$$

$$u = 1 - x, \quad \Rightarrow \quad du = -dx;$$

$$dv = \cos\left(\frac{n\pi x}{2}\right) dx, \quad \Rightarrow \quad v = \frac{2}{n\pi} \operatorname{sen}\left(\frac{n\pi x}{2}\right)$$

$$\Rightarrow a_n = \int_0^1 (1-x) \cos\left(\frac{n\pi x}{2}\right) dx = \left[(1-x) \frac{2}{n\pi} \operatorname{sen}\left(\frac{n\pi x}{2}\right) \right]_0^1 + \int_0^1 \frac{2}{n\pi} \operatorname{sen}\left(\frac{n\pi x}{2}\right) dx$$

$$\Rightarrow a_n = \frac{2}{n\pi} \left[(1-x) \operatorname{sen}\left(\frac{n\pi x}{2}\right) \right]_0^1 - \frac{4}{n^2 \pi^2} \left[\cos\left(\frac{n\pi x}{2}\right) \right]_0^1$$

$$\Rightarrow a_n = \frac{2}{n\pi} [0-0] - \frac{4}{n^2 \pi^2} \left[\cos\left(\frac{n\pi}{2}\right) - 1 \right] = \frac{4}{n^2 \pi^2} \left[1 - \cos\left(\frac{n\pi}{2}\right) \right]$$

$$\Rightarrow a_n = \frac{4}{n^2 \pi^2} \left[1 - \cos\left(\frac{n\pi}{2}\right) \right]$$

Como ahora $f(x)$ es una función par, entonces $\mathbf{b_n = 0}$

La serie de fourier de $f(x)$ en términos de cosenos es :

$$f(x) = \frac{a_0}{2} + \sum_{n=1}^{\infty} a_n \cos\left(\frac{n\pi x}{p}\right)$$

$$p = 2$$

$$a_0 = \frac{1}{2}$$

$$a_n = \frac{4}{n^2 \pi^2} \left[1 - \cos\left(\frac{n\pi}{2}\right) \right]$$

$$f(x) = \frac{1}{4} + \sum_{n=1}^{\infty} \left(\frac{4}{n^2 \pi^2} \left[1 - \cos\left(\frac{n\pi}{2}\right) \right] \right) \cos\left(\frac{n\pi x}{2}\right)$$

EJERCICIO DE LA ECUACION DEL CALOR DE UNA VARILLA

Una varilla de longitud L coincide con el eje X en el intervalo $[0, L]$, tal que la temperatura en los extremos de la varilla se mantiene a 0°C en cualquier instante y la temperatura inicial de toda la varilla esta dada por $f(x) = x(L - x)$. Determina la temperatura $u(x, t)$, de la varilla, conociendo que el modelo matemático de este problema viene dado por:

$$\begin{cases} k \frac{\partial^2 u}{\partial x^2} = \frac{\partial u}{\partial t} & , \quad 0 \leq x \leq L \quad \wedge \quad t > 0 \\ u(0, t) = u(L, t) = 0, & t > 0 \\ u(x, 0) = x(L - x) & , \quad 0 \leq x \leq L \end{cases}$$

Para resolver esta ecuación en derivadas parciales se procede a usar el método de separación de variables, se asume la solución de la siguiente manera:

$$u(x, t) = X(x)T(t)$$

Se obtiene las correspondientes derivadas de la ecuación, usando la solución que se asume.

$$\frac{\partial u}{\partial t} = X(x)T'(t)$$

$$\frac{\partial^2 u}{\partial x^2} = X''(x)T(t)$$

Reemplazando en la ecuación en derivadas parciales se obtiene:

$$kX''(x)T(t) = X(x)T'(t)$$

Separando a un lado de la ecuación todo lo que depende de la variable “x”, y al otro lado lo de “y”.

$$\frac{X''(x)}{X(x)} = \frac{T'(t)}{kT(t)} = \lambda$$

Se obtiene dos ecuaciones diferenciales:

$$\frac{X''(x)}{X(x)} = \lambda$$

$$X''(x) = \lambda X(x)$$

$$X''(x) - \lambda X(x) = 0$$

La solución para esta ecuación se asume como $X(x) = e^{rx}$:

$$\text{Se obtiene: } r^2 - \lambda = 0$$

Como el valor de λ es una constante, entonces se analiza de la siguiente forma:

Para $\lambda > 0$

$$r^2 = \lambda, \text{ por lo tanto las raíces son: } r_{1,2} = \pm\sqrt{\lambda}$$

Por lo tanto, para este caso la solución es: $X(x) = Ae^{\sqrt{\lambda}x} + Be^{-\sqrt{\lambda}x}$

Luego se obtiene los valores de A y B, usando los valores de frontera $u(0, t) = u(L, t) = 0$:

$$u(0, t) = 0, \text{ entonces } X(0) = 0$$

$$u(L, t) = 0, \text{ entonces } X(L) = 0$$

$$X(0) = A + B = 0$$

$$X(L) = Ae^{\sqrt{\lambda}L} + Be^{-\sqrt{\lambda}L} = 0$$

Se forma un sistema homogéneo de ecuaciones donde $A=B=0$, por lo tanto, la solución queda la trivial:

$$X(x) = 0, \text{ entonces } u(x, t) = 0T(t) = 0$$

Para $\lambda = 0$

$$r^2 = 0, \text{ por lo tanto las raíces son: } r_{1,2} = 0$$

Por lo tanto, para este caso la solución es: $X(x) = A + Bx$

Luego se obtiene los valores de A y B, usando los valores de frontera $u(0, t) = u(L, t) = 0$:

$$u(0,t) = 0, \text{ entonces } X(0) = 0$$

$$u(L,t) = 0, \text{ entonces } X(L) = 0$$

$$X(0) = A = 0$$

$$X(L) = A + BL = 0$$

Se forma un sistema homogéneo de ecuaciones donde $A=B=0$, por lo tanto, la solución queda la trivial:

$$X(x) = 0, \text{ entonces } u(x,t) = 0 \quad T(t) = 0$$

Para $\lambda < 0$, para indicar que λ es un valor negativo se pondrá el signo menos dentro del radical.

$$r^2 = \lambda, \text{ por lo tanto las raíces son: } r_{1,2} = \pm \sqrt{-\lambda}i$$

Por lo tanto, para este caso la solución es: $X(x) = A \cos(\sqrt{-\lambda}x) + B \sin(\sqrt{-\lambda}x)$

Luego se obtiene los valores de A y B, usando los valores de frontera $u(0,t) = u(L,t) = 0$:

$$u(0,t) = 0, \text{ entonces } X(0) = 0$$

$$u(L,t) = 0, \text{ entonces } X(L) = 0$$

$$X(0) = A = 0$$

$$X(L) = A \cos(\sqrt{-\lambda}L) + B \sin(\sqrt{-\lambda}L) = 0$$

Se forma un sistema homogéneo de ecuaciones donde $A=0$, pero queda $B \sin(\sqrt{-\lambda}L) = 0$, donde el valor de B no puede ser cero para que no quede la solución trivial por lo tanto lo que si puede suceder es que $\sin(\sqrt{-\lambda}L) = 0$

Donde $(\sqrt{-\lambda})L = n\pi, \forall n \geq 1$, luego se despeja $(\sqrt{-\lambda})$:

$$(\sqrt{-\lambda}) = \frac{n\pi}{L}, \text{ o que es lo mismo } \lambda = -\left(\frac{n\pi}{L}\right)^2, \forall n \geq 1$$

Ahora $X(x)$ es:

$$X(x) = B \sin\left(\frac{n\pi}{L}x\right), \forall n \geq 1$$

Luego se obtiene la solución para la segunda ecuación diferencial que está en función de t:

$$\frac{T'(t)}{kT(t)} = \lambda, \text{ se puede expresar como: } T'(t) = \lambda kT(t)$$

$$T'(t) - \lambda kT(t) = 0$$

$$\text{Se asume } T(t) = e^{rt}, \text{ entonces } r - \lambda k = 0$$

$$r = \lambda k = -\left(\frac{n\pi}{L}\right)^2 k, \text{ con esto la solución es: } T(t) = C e^{-\left(\frac{n\pi}{L}\right)^2 kt}$$

Como $u(x,t) = X(x)T(t)$, entonces:

$$u(x,t) = A_n \sin\left[\left(\frac{n\pi}{L}\right)x\right] e^{-\left(\frac{n\pi}{L}\right)^2 kt}, \forall n \geq 1$$

Expresando en sumatoria:

$$u(x,t) = \sum_{n=1}^{\infty} A_n \sin\left[\left(\frac{n\pi}{L}\right)x\right] e^{-\left(\frac{n\pi}{L}\right)^2 kt}$$

Ahora se usa la condición inicial $u(x,0) = x(L-x)$:

$$x(L-x) = \sum_{n=1}^{\infty} A_n \sin\left[\left(\frac{n\pi}{L}\right)x\right]$$

Donde:

$$A_n = \frac{2}{L} \int_0^L x(L-x) \sin\left[\left(\frac{n\pi}{L}\right)x\right] dx$$

Se procede a integrar por partes:

$$\int_0^L x(L-x) \operatorname{sen} \left[\left(\frac{n\pi}{L} \right) x \right] dx = \int_0^L (xL - x^2) \operatorname{sen} \left[\left(\frac{n\pi}{L} \right) x \right] dx$$

$$u = xL - x^2, \text{ entonces } du = (L - 2x) dx$$

$$dv = \operatorname{sen} \left[\left(\frac{n\pi}{L} \right) x \right] dx, \text{ entonces } v = -\frac{L}{n\pi} \cos \left[\left(\frac{n\pi}{L} \right) x \right]$$

$$\int (xL - x^2) \operatorname{sen} \left[\left(\frac{n\pi}{L} \right) x \right] dx = -\frac{L(xL - x^2)}{n\pi} \cos \left[\left(\frac{n\pi}{L} \right) x \right] + \int \frac{L(L - 2x)}{n\pi} \cos \left[\left(\frac{n\pi}{L} \right) x \right] dx$$

$$\int (xL - x^2) \operatorname{sen} \left[\left(\frac{n\pi}{L} \right) x \right] dx = \frac{(Lx^2 - xL^2)}{n\pi} \cos \left[\left(\frac{n\pi}{L} \right) x \right] + \int \frac{(L^2 - 2Lx)}{n\pi} \cos \left[\left(\frac{n\pi}{L} \right) x \right] dx$$

Otra vez por partes:

$$u = (L^2 - 2Lx), \text{ entonces } du = -2L dx$$

$$dv = \frac{1}{n\pi} \cos \left[\left(\frac{n\pi}{L} \right) x \right] dx, \text{ entonces } v = \frac{L}{(n\pi)^2} \operatorname{sen} \left[\left(\frac{n\pi}{L} \right) x \right]$$

$$\begin{aligned} \int (xL - x^2) \operatorname{sen} \left[\left(\frac{n\pi}{L} \right) x \right] dx \\ = \frac{(Lx^2 - xL^2)}{n\pi} \cos \left[\left(\frac{n\pi}{L} \right) x \right] \\ + \left[\frac{L(L^2 - 2Lx)}{(n\pi)^2} \operatorname{sen} \left[\left(\frac{n\pi}{L} \right) x \right] + \int \frac{2L^2}{(n\pi)^2} \operatorname{sen} \left[\left(\frac{n\pi}{L} \right) x \right] dx \right] \end{aligned}$$

$$\begin{aligned} \int_0^L (xL - x^2) \operatorname{sen} \left[\left(\frac{n\pi}{L} \right) x \right] dx \\ = \left[\frac{(Lx^2 - xL^2)}{n\pi} \cos \left[\left(\frac{n\pi}{L} \right) x \right] \right]_0^L \\ + \left[\frac{(L^3 - 2L^2x)}{(n\pi)^2} \operatorname{sen} \left[\left(\frac{n\pi}{L} \right) x \right] - \frac{2L^3}{(n\pi)^3} \cos \left[\left(\frac{n\pi}{L} \right) x \right] \right]_0^L \\ \int_0^L (xL - x^2) \operatorname{sen} \left[\left(\frac{n\pi}{L} \right) x \right] dx = \left[\frac{(L^3 - L^3)}{n\pi} \cos[n\pi] - 0 \right] + \left[0 - \frac{2L^3}{(n\pi)^3} \cos[n\pi] + \frac{2L^3}{(n\pi)^3} \right] \end{aligned}$$

$$\int_0^L (xL - x^2) \operatorname{sen} \left[\left(\frac{n\pi}{L} \right) x \right] dx = \frac{2L^3}{(n\pi)^3} [1 - \cos[n\pi]]$$

$$A_n = \frac{2}{L} \left[\frac{2L^3}{(n\pi)^3} [1 - \cos[n\pi]] \right]$$

$$A_n = \frac{4L^2}{(n\pi)^3} [1 - \cos[n\pi]]$$

La solución es:

$$u(x, t) = \sum_{n=1}^{\infty} \frac{4L^2}{(n\pi)^3} [1 - \cos(n\pi)] \operatorname{sen} \left[\left(\frac{n\pi}{L} \right) x \right] e^{-\left(\frac{n\pi}{L} \right)^2 kt}$$

Transformada de Laplace de ciertas funciones

$$1). \mathcal{L}\{1\}(s) = \frac{1}{s}, \quad s > 0,$$

$$\mathcal{L}\{k\}(s) = \frac{k}{s}, \quad s > 0, k \text{ constante.}$$

$$2). \mathcal{L}\{t^n\}(s) = \frac{n!}{s^{n+1}}, \quad s > 0, \quad n = 1, 2, \dots$$

$$3). \mathcal{L}\{e^{at}\}(s) = \frac{1}{s-a}, \quad \text{para } s > a$$

$$4). \mathcal{L}\{\sin kt\}(s) = \frac{k}{s^2+k^2}, \quad s > 0$$

$$5). \mathcal{L}\{\cos kt\}(s) = \frac{s}{s^2+k^2}, \quad s > 0$$

$$6). \mathcal{L}\{\sinh kt\}(s) = \frac{k}{s^2-k^2}, \quad s > |k|$$

$$7). \mathcal{L}\{\cosh kt\}(s) = \frac{s}{s^2-k^2}, \quad s > |k|$$

$$8). \mathcal{L}\{t^n e^{at}\}(s) = \frac{n!}{(s-a)^{n+1}}, \quad s > a, \quad n = 1, 2, \dots$$

Transformada inversa de Laplace de ciertas funciones

$$1). \mathcal{L}^{-1}\left\{\frac{1}{s}\right\} = 1, \text{ y } \mathcal{L}^{-1}\left\{\frac{k}{s}\right\} = k, \text{ si } s > 0$$

$$2). \mathcal{L}^{-1}\left\{\frac{n!}{s^{n+1}}\right\} = t^n \text{ y } \mathcal{L}^{-1}\left\{\frac{1}{s^{n+1}}\right\} = \frac{t^n}{n!}, \text{ si } s > 0$$

$$3). \mathcal{L}^{-1}\left\{\frac{1}{s-a}\right\} = e^{at}, \text{ si } s > a$$

$$4). \mathcal{L}^{-1}\left\{\frac{k}{s^2+k^2}\right\} = \sin kt, \text{ y } \mathcal{L}^{-1}\left\{\frac{1}{s^2+k^2}\right\} = \frac{\sin kt}{k}, \text{ si } s > 0$$

$$5). \mathcal{L}^{-1}\left\{\frac{s}{s^2+k^2}\right\} = \cos kt, \text{ si } s > 0$$

$$6). \mathcal{L}^{-1}\left\{\frac{k}{s^2-k^2}\right\} = \sinh kt \text{ y } \mathcal{L}^{-1}\left\{\frac{1}{s^2-k^2}\right\} = \frac{\sinh kt}{k}, \text{ si } s > |k|$$

$$7). \mathcal{L}^{-1}\left\{\frac{s}{s^2-k^2}\right\} = \cosh kt, \text{ si } s > |k|$$

$$8). \mathcal{L}^{-1}\left\{\frac{n!}{(s-a)^{n+1}}\right\} = t^n e^{at} \text{ y } \mathcal{L}^{-1}\left\{\frac{1}{(s-a)^{n+1}}\right\} = \frac{t^n e^{at}}{n!}, \text{ si } s > a$$

Problemas propuestos

1.-) Resuelva las siguientes ecuaciones diferenciales alrededor del punto $X_0 = 0$. Determine si es posible la función a la que converge la primera solución, y luego halle por cualquier método la segunda solución linealmente independiente.

- a) $xy'' - y' + 4x^3y = 0$;
- b) $4x^2y'' - 4xy' + (3 - 4x^2)y = 0$;
- c) $x(x - 1)y'' + 3y' - 2y = 0$;
- d) $x(x - 1)y'' - (1 - 3x)y' + y = 0$;
- e) $x(x - 1)y'' - 3y' + 2y = 0$;
- f) $x^2y'' - x(4 - x)y' + (6 - 2x)y = 0$;
- g) $xy'' + 2y' - xy = 0$
- h) $x^2y'' + 4xy' + (x^2 + 2)y = 0$

2.-) Halle:

- a)

$\mathcal{L}[10\sin 2\sin 5t];$	$\mathcal{L}[4\cos^2(2t)];$
$\mathcal{L}[(t^2 + 1)^2];$	$\mathcal{L}[\cosh^2 4t];$
$\mathcal{L}[(\sin t - \cos t)^2];$	$\mathcal{L}[t^{3/2}e^{-3t}];$
$\mathcal{L}[3\cosh 5t - 4\sinh 5t];$	$\mathcal{L}[2e^{3t}\sin 4t];$
$\mathcal{L}[(5e^{2t} - 3)^2];$	$\mathcal{L}[(t + 2)^2e^t];$

b) Para las siguientes funciones encuentre $\mathcal{L}[f''(t)]$:

- $t^2e^{-t}\cos t$;
- $5t^3\sinh 2t$;
- $2(t - 1)^4\cos t$;
- $\frac{t^3\sin 2t}{e^{-2t}}$;
- $5\sin 2t\cos 3t$;

c) Para las siguientes funciones encuentre $\mathcal{L}[f'(t)]$:

- $6\cos 3t\sin 2t$;
- $5\sin 2t\cos 2t$;
- $10\sinh 5t\cosh 3t$;
- $2e^{-3t}\sin^2(2t)$;
- $(3\cos t - \sin 2t)^2$;

d) Halle:

$$\mathcal{L}\left[\int_0^t (u^2 - u + e^{-u}) du\right];$$

$$\mathcal{L}\left[\int_0^t (\cos^2 3u) du\right];$$

$$\mathcal{L}\left[\int_0^t \left(\frac{1 - e^{-u}}{u}\right) du\right];$$

$$\mathcal{L}\left[\int_0^t (u^2 \sinh u) du\right];$$

$$\mathcal{L}\left[\int_0^t \left(\frac{\sinh u}{u}\right) du\right];$$

e) Halle:

$$\mathcal{L}[t(3\sin 2t - 2\cos 2t)];$$

$$\mathcal{L}[t^2(\cos^2 t)];$$

$$\mathcal{L}[t^2(f'(t))], \quad \text{si } f(t) = e^{-t}\sin t;$$

$$\mathcal{L}[t^3(\sinh t)];$$

$$\mathcal{L}\left[t \int_0^t \left(\frac{\sin^2 2u}{e^{-2u}}\right) du\right];$$

f) Halle:

$$\mathcal{L}\left[\frac{e^{-at} - e^{-bt}}{t}\right];$$

$$\mathcal{L}\left[\frac{\cos at - \cos bt}{t}\right];$$

$$\mathcal{L}\left[\frac{\sinh 3t}{t}\right];$$

$$\mathcal{L}[5t^{-1} \cos 2t \sin 2t];$$

$$\mathcal{L}\left[\frac{\sin^2 t}{t^2}\right];$$

g) Halle:

$$\mathcal{L}[e^{-2t} t \cos 3(t - \pi) u(t - \pi)];$$

$$\mathcal{L}\left[\frac{\sin 2t}{t} \delta(t)\right];$$

$$\mathcal{L}[e^{2t} t \sinh(t) u(t - 2)];$$

$$\mathcal{L}\left[\frac{1 - e^{-(t-1)}}{t-1} \delta(t-1)\right];$$

$$\mathcal{L}[t^2 e^{-3t} u(t - 1)];$$

$$\mathcal{L}\left[\frac{3 + (t^2 - 3)\delta(t)}{t^2 + 2t + 5}\right];$$

$$\mathcal{L}[\sin(t) u(t - \pi)];$$

$$\mathcal{L}[(t^2 - 3) u(t - 5)];$$

3.-) Grafique las siguientes funciones y halle sus transformadas de Laplace:

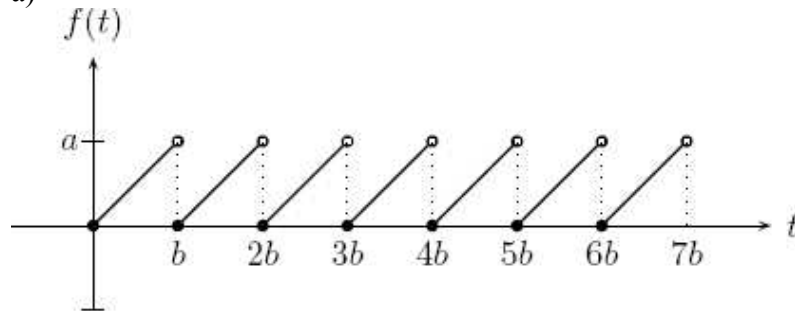
$$f(t) = \begin{cases} t-1; & 0 \leq t < 5 \\ 0; & 5 \leq t < 10 \\ t+5; & 10 \leq t < 15 \\ 0; & t \geq 15 \end{cases}$$

$$h(t) = \begin{cases} 5; & 0 \leq t < 3 \\ 10; & 3 \leq t < 6 \\ -20; & 6 \leq t < 9 \\ 0; & t \geq 9 \end{cases}$$

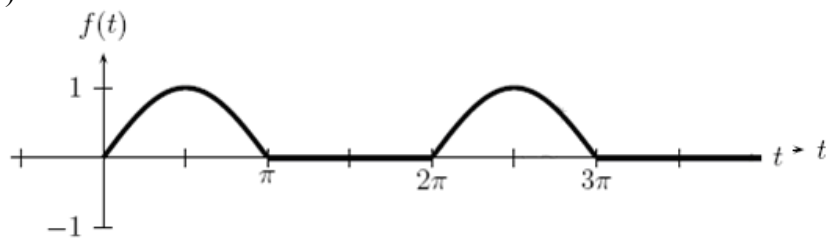
$$g(t) = \begin{cases} 5\text{sent}; & 0 \leq t < \pi \\ 0; & \pi \leq t < 2\pi \\ -5\text{sent}; & 2\pi \leq t < 3\pi \\ 0, & t \geq 3\pi \end{cases}$$

4.) Encuentre el período de las siguientes gráficas y halle la transformada de Laplace de cada una de ellas:

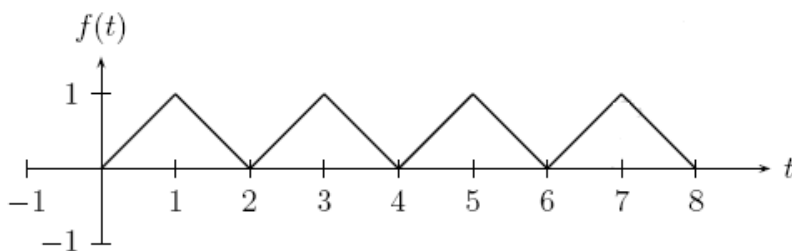
a)



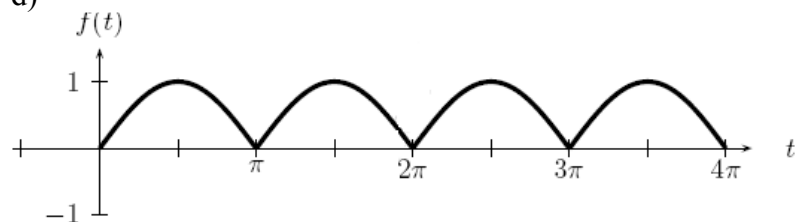
b)



c)



d)



5.-) Encuentre las transformadas inversas de Laplace de las siguientes funciones:

$$F(S) = \frac{1}{s^2 + 9};$$

$$F(S) = \frac{1}{s^4};$$

$$F(S) = \frac{s}{s^2 + 2};$$

$$F(S) = \frac{1}{s^2 - 3};$$

$$F(S) = \frac{1}{s^{3/2}};$$

$$F(S) = \frac{6s - 4}{s^2 - 4s + 20}$$

$$F(S) = \frac{4s + 2}{s^2 + 8s + 16};$$

$$F(S) = \frac{3s + 7}{s^2 - 2s - 3};$$

$$F(S) = \frac{1}{\sqrt{2s + 3}};$$

$$F(S) = \frac{s}{(s^2 + a^2)^2};$$

$$F(S) = \ln\left(1 + \frac{1}{s^2}\right);$$

$$F(S) = \frac{1}{s^3(s^2 + 1)};$$

$$F(S) = \frac{2s^2 - 4}{(s + 1)(s - 2)(s - 3)};$$

$$F(S) = \frac{5s^2 - 15s - 11}{(s + 1)(s - 2)^3}$$

$$F(S) = \frac{1}{(s + 1)^5}$$

$$F(S) = \frac{e^{-2s}}{s^2}$$

$$F(S) = \frac{se^{-2s}}{s^2 + 3s + 2}$$

$$F(S) = \frac{e^{-2s}}{s^2 - 2s + 5}$$

$$F(s) = \frac{s + 1}{(s^2 + 2s + 2)^2}$$

$$F(s) = \ln\left(\frac{s + 2}{s + 1}\right);$$

$$F(s) = \frac{1}{s} \ln\left(\frac{s + 2}{s + 1}\right)$$

$$F(s) = \frac{1}{s} \ln\left(\frac{s^2 + a^2}{s^2 + b^2}\right);$$

$$F(s) = \left(\frac{1}{s(s + 1)^3}\right);$$

$$F(s) = \frac{s + 2}{s^2(s + 3)};$$

$$F(s) = \frac{1}{(s + 2)(s - 1)^5};$$

$$F(s) = \frac{s^2}{(s^2 + 4)^2};$$

$$F(s) = \frac{1}{(s^2 + 1)^3};$$

$$F(S) = \frac{3s^3 - 3s^2 - 40s + 36}{(s^2 - 4)^2};$$

$$F(S) = \frac{4se^{-2s}}{(s^2 - 6s + 25)};$$

$$F(S) = \arctan(s + 1);$$

$$F(S) = \ln\left(\frac{s^2 + 1}{(s - 1)^2}\right);$$

$$F(S) = \ln\left(\frac{s^2 + 9}{s^2 + 1}\right);$$

$$F(S) = \frac{2}{s^2(s^2 - 2s + 5)};$$

6.-) Resuelva las siguientes ecuaciones diferenciales utilizando la transformada de Laplace:

- a) $y'' - 7y' + 10y = 9 \cos t + 7 \sin t$; $y(0) = 5$, $y'(0) = -4$
 b) $y'' + 5y' = 2te^t$; $y(0) = -1$, $y'(0) = 9$
 c) $y'' + y = 3 \sin 2t - 3(\sin 2t)u(t - 2\pi)$; $y(0) = 1$, $y'(0) = -2$
 d) $y'' + 4y = 4u(t - \pi) + e^{2t}\delta(t - 2\pi)$; $y(0) = y'(0) = 0$.
 e) $ty'' + 2ty' + ty = 0$; $y(0) = 1$, $y'(\pi) = 0$;
 f) $y'' - ty' + y = 1$; $y(0) = 1$, $y'(0) = 2$;
 g) $ty'' - 2y' + ty = 2$; $y(0) = 1$, $y'(0) = 0$;
 h) $y'(t) + y(t) - \int_0^t y(\theta) \sin(t - \theta) d\theta = -\sin t$; $y(0) = 1$
 i) $y(t) + \int_0^t y(\theta)(t - \theta)^2 d\theta = t^3 + 3$;
 j) $y'(t) - 2 \int_0^t y(\theta) e^{t-\theta} d\theta = t$; $y(0) = 2$;

7.-) En los siguientes problemas utilice el método de eliminación para encontrar la solución general del sistema lineal dado, donde x' , y' , z' denotan diferenciación con respecto a t .

- a) $\begin{cases} x' = 3y, \\ y' = 2x - y; \end{cases}$ d) $\begin{cases} x' = 3x - 2y + \sin t; \\ y' = 4x - y - \cos t; \end{cases}$
 b) $\begin{cases} x' + y' - x = 5; \\ x' + y' + y = 1; \end{cases}$ e) $\begin{cases} x'' + 5x - 4y = 0; \\ -x + y'' + 2y = 0; \end{cases}$

8.-) En los siguientes problemas utilice el método de los operadores diferenciales para encontrar la solución general del sistema lineal dado:

- a) $\begin{cases} (D^2 - 4D + 4)x + (D^2 + 2D)y = t; \\ (D^2 - 2D)x + (D^2 + 4D + 4)y = e^t; \end{cases}$ dadas: $x(0) = 1$, $x'(0) = 2$
 b) $\begin{cases} (D + 2)x + (D - 1)y = -\sin t; \\ (D - 3)x + (D + 2)y = 4 \cos t; \end{cases}$
 c) $\begin{cases} (D^2 + 2)x - y = 0; \\ -x + (D^2 + 2)y = 0; \end{cases}$ $y(0) = 2$, $x(0) = x'(0) = y'(0) = 0$

9.-) En los siguientes problemas utilice el método de la transformada de Laplace para encontrar la solución general del sistema lineal dado:

- a) $\begin{cases} y' - z' - 2y + 2z = \sin t; \\ y'' + 2z' + y = 0; \end{cases}$ $y(0) = y'(0) = z(0) = 0$; b) $\begin{cases} ty + z + tz' = (t - 1)e^{-t}; \\ y' - z = e^{-t}; \end{cases}$ $y(0) = 1$, $z(0) = -1$.
 c) $\begin{cases} -3y'' + 3z'' = te^{-t} - 3 \cos t; \\ ty'' - z' = \sin t; \end{cases}$ $y(0) = -1$, $y'(0) = 2$;
 $z(0) = 4$, $z''(0) = 0$;

10.-) En los siguientes problemas utilice el método de los valores y vectores propios para encontrar la solución general del sistema lineal dado:

$$a) \mathcal{X}' = \begin{pmatrix} 1 & -2 & 2 \\ -2 & 1 & 2 \\ 2 & 2 & 1 \end{pmatrix} \mathcal{X}, \quad \mathcal{X}(0) = \begin{pmatrix} 1 \\ 0 \\ 2 \end{pmatrix}$$

$$b) \begin{cases} 2x' + 3x + 5y = 0; \\ 2y' - 5x - 3y = 0; \end{cases}$$

$$c) \mathcal{X}' = \begin{pmatrix} 6 & -3 \\ 2 & 1 \end{pmatrix} \mathcal{X}', \quad \mathcal{X}(0) = \begin{pmatrix} -10 \\ -6 \end{pmatrix}$$

APLICACIONES DE ECUACIONES DIFERENCIALES DE SEGUNDO ORDEN

1) Una masa de 100 gramos esta sujeta a un resorte de acero de longitud natural igual a 50 cm. El resorte se alarga cuando se le agrega esta masa. Si la masa se pone en movimiento con una velocidad de 10cm/s, determine el movimiento subsiguiente. (Desprecie la resistencia del aire)

2) Un circuito mecánico vibratorio compuesto de un resorte de constante $K=4$ N/m. Un amortiguador de constante $e=6$ Ns/m, tiene adherido una bola metálica de 20 N de peso. Determine la forma en que vibra la masa si inicialmente esta en la posición de equilibrio y sin velocidad inicial, y si desde el tiempo $t=0$ actúa sobre una fuerza perturbadora periódica definida así:

$$f(t) = \begin{cases} 100t; & t \in [0, 2) \\ 400 - 100t & t \in [2, 4) \end{cases}; \quad f(t) = f(t - 4).$$

3) Un resorte se estira 50cm con una fuerza de 2 Newton. El resorte en referencia forma parte de un sistema m-c-k el cual tiene una masa de 1 Kg, y un amortiguador con una constante $c = 4$ N.m/s. Si la masa es puesta en movimiento desde su posición de equilibrio y sin velocidad inicial con una fuerza perturbadora de 20 Newton que actúa los primeros 5 segundos y luego cesa durante 5 segundos, y luego crece linealmente hasta 10 Newton durante 10 segundos, para nuevamente cesar definitivamente. Determine la forma en que vibra la masa.

a) ¿Cuál es la posición de la masa a los 2 segundos y a los 8 segundos?

4) Un inductor de 0.5 henrios es conectado en serie con una resistencia de 6 ohmios y un condensador de 0.02 faradios. Inicialmente el condensador no tiene carga. Si el sistema es perturbado por una fuerza electromotriz de 12 voltios en el intervalo de tiempo.

$2 < t < 8$ (seg), y luego por un voltaje instantáneo de 24 voltios en el instante $t = 15$ seg, determine:

a) La carga acumulada en el capacitor en el tiempo $t = 6$ seg.

b) La intensidad de corriente que atraviesa el circuito en el tiempo $t = 10$ seg.

Este documento fue creado con fines académicos, de apoyo para los estudiantes politécnicos.

Agradecimiento: Agradezco a Dios por haberme dado fuerza, paciencia para la elaboración de esta obra. A mi profesora de esta materia, Yadira Moreno. Y a los profesores a los que colaboré en la materia como ayudante de cátedra puesto que ellos fueron los que me dieron su confianza y apoyo para impartir las clases y compartir el conocimiento, los cuales pongo a continuación:

Janet Valdiviezo, Eduardo Rivadeneira, Fernando Sandoya, Enrique Bayot, Félix Ramírez.

Dedicado a todos mis compañeros politécnicos.

Roberto Cabrera Velasco.

Referencias

- ✚ Zill, Dennis G. (2006). *Ecuaciones diferenciales con aplicaciones*. Segunda edición. Grupo Editorial Iberoamérica
- ✚ Nagle Kent, Saff Edward, Zinder Arthur, *Ecuaciones Diferenciales y Problemas con Valores en la Frontera*, Editorial Addison –Wesley Iberoamericana, 2001.
- ✚ William E. Boyce, Richard C. DiPrima, *Ecuaciones diferenciales y problemas con valores en la frontera*, 4a ed. México, Limusa, 1998